

Всероссийская проверочная работа

по профильному учебному предмету «ГЕОГРАФИЯ»

**для обучающихся по программам среднего профессионального образования,
завершивших в предыдущем учебном году освоение общеобразовательных предметов,
проходящих обучение по очной форме на базе основного общего образования.**

Образец

Инструкция по выполнению работы

Проверочная работа включает в себя 17 заданий. На выполнение работы по географии отводится 1 час 30 минут (90 минут).

Ответами к заданиям 1–5, 7–9 и 11–13 являются последовательность цифр, число или слово (словосочетание). Ответы запишите в поле ответа в тексте работы без пробелов, запятых и других дополнительных символов, а затем перенесите в бланк ответов № 1. Каждый символ пишите в отдельной клеточке в соответствии с приведёнными в бланке образцами. Если ответ на задание имеет единицу измерения, то при переносе ответа на бланк следует записать только полученное число. Единицы измерения в ответе указывать не надо.

Ответы на задания 6, 10, 14–17 запишите в поля ответов в тексте работы.

При выполнении заданий работы Вы можете использовать необходимые карты атласов.

При выполнении заданий Вы можете использовать черновик. Записи в черновике проверяться и оцениваться не будут.

Советуем выполнять задания в том порядке, в котором они даны. Для экономии времени пропускайте задание, которое не удаётся выполнить сразу, и переходите к следующему. Если после выполнения всей работы у Вас останется время, Вы сможете вернуться к пропущенным заданиям.

Баллы, полученные Вами за выполненные задания, суммируются. Постарайтесь выполнить как можно больше заданий и набрать наибольшее количество баллов.

Желаем успеха!

1

Эффективность работы солнечных панелей, используемых для энергоснабжения жилых домов, во многом зависит от продолжительности светового дня. Расположите перечисленные города в порядке увеличения продолжительности светового дня 25 июня, начиная с города с наименьшей продолжительностью светового дня. Запишите в таблицу получившуюся последовательность цифр.

- 1) Нижний Новгород
- 2) Краснодар
- 3) Сыктывкар

Ответ:

--	--	--

2

В Суксуне Пермского края открылось производство защитной спецодежды.

Карты какого географического района России необходимо выбрать, чтобы найти информацию, необходимую для оценки условий размещения данного предприятия?

Ответ: _____.

ИЛИ

Марина включила радио, когда в выпуске новостей передавали сообщение о наводнении.

Выход из берегов рек в центральных районах страны стал причиной гибели трёх и пропажи без вести как минимум 19 человек. В результате стихии почти 1,5 миллиона домов остались без водоснабжения в столице страны Сантьяго и её окрестностях.

Марина не услышала начало сообщения и не поняла, в какой стране произошло стихийное бедствие. Определите, о какой стране шла речь в сообщении.

Ответ: _____.

3

Ядерная энергетика – активно развивающаяся отрасль. Очевидно, что ей предназначено большое будущее, так как запасы нефти, природного газа, угля постепенно иссякают, а уран достаточно распространённый элемент на Земле. Вместе с тем, развивая ядерную энергетiku, нельзя забывать о безопасности и здоровье людей.

В каких трёх из перечисленных регионов России построены крупные АЭС? Запишите цифры, под которыми указаны эти регионы.

- 1) Ставропольский край
- 2) Республика Карелия
- 3) Тверская область
- 4) Ростовская область
- 5) Ленинградская область
- 6) Астраханская область

Ответ:

--	--	--

ИЛИ

Электроэнергетика является отраслью, во многом определяющей развитие всех отраслей хозяйства страны. Количество производимой в стране электроэнергии является важным показателем уровня экономического развития страны.

Какие три из перечисленных стран составляют тройку мировых лидеров по производству электроэнергии? Запишите цифры, под которыми указаны эти страны.

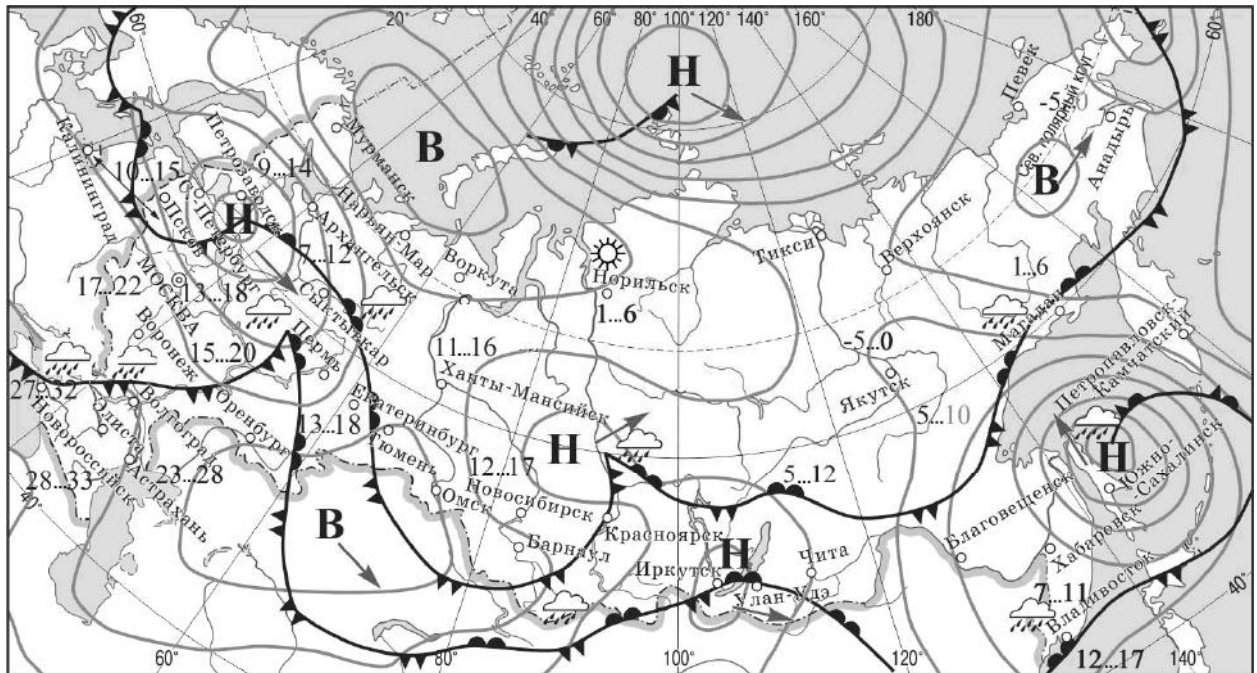
- 1) США
- 2) Китай
- 3) Бразилия
- 4) Индия
- 5) Франция
- 6) Саудовская Аравия

Ответ:


--	--	--

Задания 4–6 выполняются с использованием приведённой ниже карты.

Карта прогноза погоды на 15 сентября (на 15 часов по московскому времени)



17..22 температура воздуха (°С)

 тёплый атмосферный фронт


 холодный атмосферный фронт


 дождь

 ясно

В область высокого атмосферного давления

Н область низкого атмосферного давления

 направление перемещения барических образований

 изобары

4 С антициклонами весной обычно связана солнечная погода. Назовите один (любой) город в Европейской части России из числа показанных на карте, погоду в котором 15 сентября будет определять антициклон.

Ответ: _____.

5 Кирилл из Новосибирска прослушал прогноз погоды по радио: «Завтра, 16 сентября ожидается похолодание, возможны осадки в виде дождя, ветер порывистый», но не услышал, для его ли города этот прогноз был составлен. С помощью карты определите, для какого из показанных на карте городов был составлен этот прогноз.

Ответ: _____.

6 Прочитайте прогноз погоды на 16 сентября для города Владивостока: «16 сентября во Владивостоке заметно потеплеет, температура воздуха днём повысится до 12–17 градусов, ожидается облачная погода, пройдут дожди».

Объясните, почему во Владивостоке ожидается выпадение атмосферных осадков.

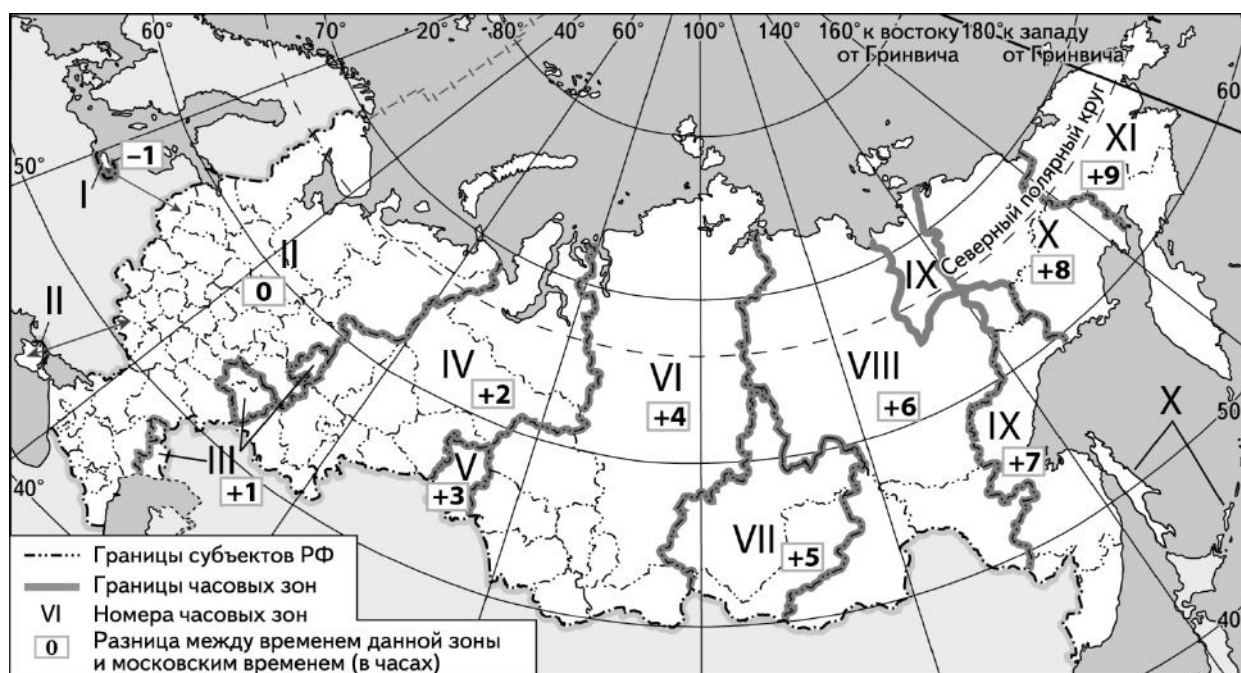
Ответ: _____

7 Потенциал российских регионов для развития туризма огромен. Каждый из них имеет рекреационные ресурсы, способные привлечь тысячи туристов из России и зарубежных стран. Определите субъект Российской Федерации по описанию его рекреационного потенциала.

«Уникальные природно-климатические условия республики создают широкие возможности для развития практически всех видов туризма. Большой интерес у туристов и альпинистов вызывают ледники. Особо охраняемые территории представлены двумя заповедниками, в том числе Катунским, пятью заказниками, зоной покоя "Укок", природным парком "Белуха". Уникальные природные объекты, такие как Телецкое озеро, гора Белуха и др., решением ЮНЕСКО внесены в список Всемирного наследия».

Ответ: Республика _____.

8 На выборах депутатов Государственной Думы избирательные участки работают с 8 до 20 часов по местному времени. Используя карту, определите, в каких из перечисленных регионов в 14 часов 30 минут по московскому времени голосование уже закончится. Запишите цифры, под которыми они указаны.



- 1) Красноярский край
- 2) Камчатский край
- 3) Республика Бурятия
- 4) Сахалинская область
- 5) Республика Саха (Якутия)
- 6) Тюменская область

Ответ: _____.

9

Прочитайте приведённый ниже текст, в котором пропущен ряд слов (словосочетаний). Выберите из предлагаемого списка слова (словосочетания), которые необходимо вставить на места пропусков, обозначенных буквами. Обратите внимание на то, что слов (словосочетаний) в списке больше, чем Вам потребуется для заполнения пропусков. Каждое слово (словосочетание) может быть использовано только один раз. Запишите в текст номера выбранных слов (словосочетаний).

Демографическая ситуация в Швеции

По статистическим данным, на начало 2017 г. в Швеции на постоянной основе проживало более 10 млн человек, что на 1,5 млн человек больше, чем в начале XXI в. Основной прирост населения был обеспечен за счёт _____ (А) – превышения числа иммигрантов над числом эмигрантов. При этом в стране прекратилась естественная убыль населения: показатель _____ (Б) ежегодно был выше показателя _____ (В). По-прежнему сохранилась тенденция увеличения доли лиц пожилого возраста в общей численности населения страны.

Список слов (словосочетаний):

- 1) естественный прирост
- 2) миграционный прирост
- 3) смертность
- 4) рождаемость
- 5) средняя продолжительность жизни
- 6) урбанизация

Запишите в таблицу под каждой буквой номер выбранного Вами слова (словосочетания).

Ответ:

А	Б	В

10

На уроке учащиеся анализировали статистические данные, приведённые ниже в таблице, в целях сравнения темпов роста промышленного производства в Канаде и во Франции в период с 2012 по 2014 г. Наталья указала, что и в Канаде, и во Франции ежегодно происходило увеличение объёмов промышленного производства.

Динамика объёмов промышленного производства
(в % к предыдущему году)

Страна	2012 г.	2013 г.	2014 г.
1) Канада	100,1	101,6	103,9
2) Франция	97,3	99,1	99,2

Правильный ли вывод сделала Наталья? Свой ответ обоснуйте.

Ответ: _____

11) Какие из следующих высказываний верны? Запишите цифры, под которыми указаны эти высказывания.

- 1) Уровень экономического развития страны напрямую зависит от её обеспеченности разнообразными природными ресурсами.
- 2) Темп роста населения Земли зависит от превышения рождаемости над смертностью.
- 3) Чем выше на месторождении доля добычи каменного угля открытым способом, тем выше его себестоимость.
- 4) Повышение содержания метана в атмосфере приводит к усилению парникового эффекта.
- 5) Тёплые течения способствуют уменьшению количества атмосферных осадков.

Ответ: _____.

12) Уровень экономического развития страны во многом определяет особенности её населения и хозяйства. Установите соответствие между страной и её характерной особенностью: к каждому элементу первого столбца подберите соответствующий элемент из второго столбца.

СТРАНА	ОСОБЕННОСТЬ
А) Афганистан	1) высокая (более 75%) доля сферы услуг в ВВП
Б) Великобритания	2) высокая (более 30%) доля экономически активного населения, занятого в сельском хозяйстве
В) Чад	

Запишите в таблицу выбранные цифры под соответствующими буквами.

Ответ:

А	Б	В

13) В настоящее время к стратегически важным материалам, разведанные запасы которых имеют стратегическое значение, стали относить руды таких металлов, как литий, кобальт и др. Учащиеся нашли в Интернете информацию о том что в мире 2017 г. было добыто 44 700 т лития, при этом показатель ресурсообеспеченности этим металлом на этот год составлял 358 лет.

Определите, какова была величина разведанных запасов лития в 2017 г.

Ответ: _____ тонн.

Не забудьте перенести краткие ответы в бланк ответов № 1 в соответствии с инструкцией по выполнению работы. Проверьте, чтобы каждый ответ был записан рядом с правильным номером задания.

**Задания 14–16 выполняются с использованием приведённого ниже текста.
Ответы на задания запишите в поля ответов в тексте работы.**

К 2021 г. в Великобритании построят крупнейшую в мире ветровую электростанцию мощностью 1,2 ГВт. Гигантский комплекс морских ветровых генераторов будет возведён у восточного побережья Великобритании. Новая электростанция будет находиться в морских водах в 120 км от берега графства Йоркшир – одного из северных графств Англии – и занимать площадь 407 км².

14 Назовите море, в акватории которого будет построена новая ветровая электростанция.

Ответ: _____

15 Назовите ещё один (любой) тип электростанций, использующих возобновляемые источники энергии, построенных в акватории Мирового океана.

Ответ: _____

16 Объясните, почему ветровые электростанции всё чаще размещаются в морской акватории.

Ответ: _____

Система оценивания проверочной работы по географии

Правильный ответ на каждое из заданий 1, 2, 4, 5, 7–9, 11, 13 оценивается 1 баллом. Задание считается выполненным верно, если ответ совпадает с указанным ниже эталоном.

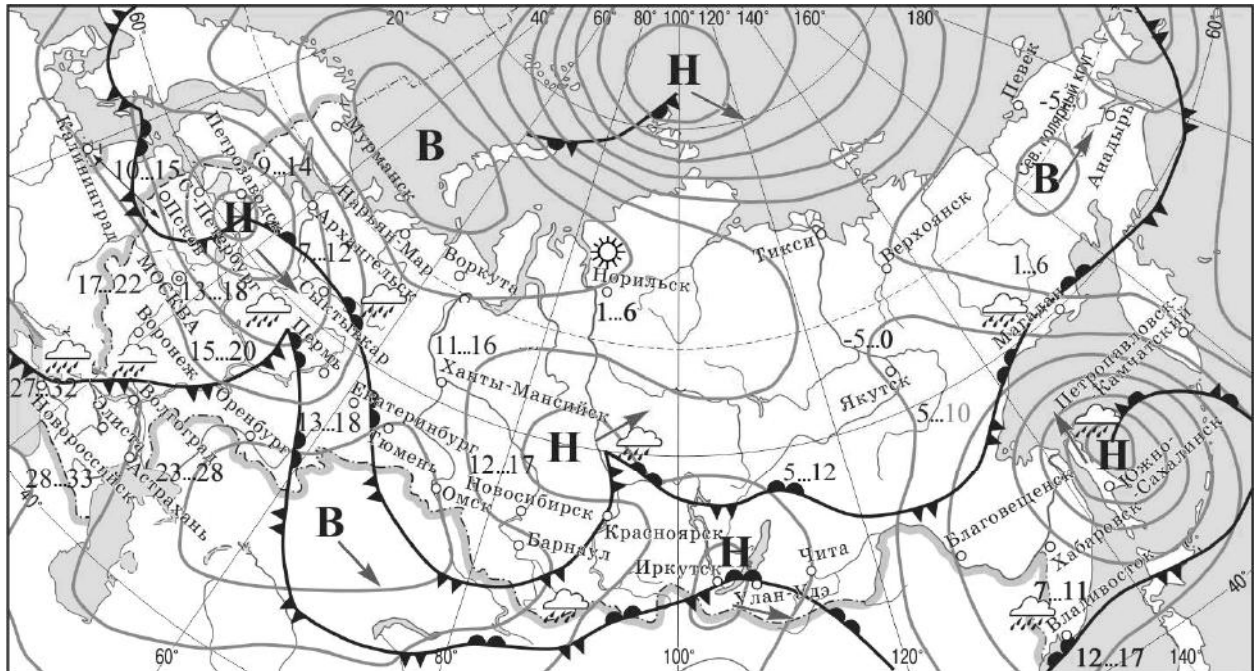
В заданиях 3, 8 и 11 цифры могут быть приведены в любом порядке.

Полное правильное выполнение заданий 3 и 12 оценивается 2 баллами. Ответы на эти задания оцениваются следующим образом: полное правильное выполнение задания – 2 балла; выполнение задания с одной ошибкой (одной неверно указанной, в том числе лишней, цифрой наряду со всеми верными цифрами) ИЛИ неполное выполнение задания (отсутствие одной необходимой цифры) – 1 балл; неверное выполнение задания (при указании двух или более ошибочных цифр) – 0 баллов.

Номер задания	Правильный ответ	
1	213	
2	Урал	Чили
3	345	124
4	Анадырь; Норильск; Воркута; Омск; Тюмень; Мурманск	
5	Волгоград; Новороссийск	
7	Республика Алтай	
8	245	
9	243	
11	24	
12	212	
13	16002600	

Критерии оценивания выполнения заданий с развёрнутым ответом

Карта прогноза погоды на 15 сентября (на 15 часов по московскому времени)



- 17...22 температура воздуха (°С)
- тёплый атмосферный фронт
- холодный атмосферный фронт
- дождь
- ясно
- В** область высокого атмосферного давления
- Н** область низкого атмосферного давления
- направление перемещения барических образований
- изобары

6

Прочитайте прогноз погоды на 16 сентября для города Владивостока: «16 сентября во Владивостоке заметно потеплеет, температура воздуха днём повысится до 12–17 градусов, ожидается облачная погода, пройдут дожди».

Объясните, почему во Владивостоке ожидается выпадение атмосферных осадков.

Содержание верного ответа и указания по оцениванию (допускаются иные формулировки ответа, не искажающие его смысла)	Баллы
В ответе говорится о прохождении тёплого атмосферного фронта	
Ответ содержит названный выше элемент	1
Все ответы, которые не соответствуют вышеуказанному критерию выставления оценки в 1 балл	0
<i>Максимальный балл</i>	<i>1</i>

10

На уроке учащиеся анализировали статистические данные, приведённые ниже в таблице, в целях сравнения темпов роста промышленного производства в Канаде и во Франции в период с 2012 по 2014 г. Наталья указала, что и в Канаде, и во Франции ежегодно происходило увеличение объёмов промышленного производства.

Динамика объёмов промышленного производства
(в % к предыдущему году)

Страна	2012 г.	2013 г.	2014 г.
1) Канада	100,1	101,6	103,9
2) Франция	97,3	99,1	99,2

Правильный ли вывод сделала Наталья? Свой ответ обоснуйте.

Содержание верного ответа и указания по оцениванию (допускаются иные формулировки ответа, не искажающие его смысла)	Баллы
В ответе говорится о неправильном выводе Натальи. В обосновании говорится, что увеличение объёмов промышленного производства происходило только в Канаде ИЛИ что в период с 2012 по 2014 г. во Франции наблюдался спад промышленного производства. <u>Пример ответа:</u> <ul style="list-style-type: none"> <i>В Канаде рост действительно был, а во Франции в период 2012–2014 гг. наблюдался спад объёмов производства, так как показатели роста объёмов промышленного производства (в % к предыдущему году) не превышают 100%</i> 	
Ответ содержит названный выше элемент	1
Все ответы, которые не соответствуют вышеуказанному критерию выставления оценок в 1 балл	0
<i>Максимальный балл</i>	<i>1</i>

К 2021 г. в Великобритании построят крупнейшую в мире ветровую электростанцию мощностью 1,2 ГВт. Гигантский комплекс морских ветровых генераторов будет возведён у восточного побережья Великобритании. Новая электростанция будет находиться в морских водах в 120 км от берега графства Йоркшир – одного из северных графств Англии – и занимать площадь 407 км².

14

Назовите море, в акватории которого будет построена новая ветровая электростанция.

Содержание верного ответа и указания по оцениванию (допускаются иные формулировки ответа, не искажающие его смысла)	Баллы
В ответе называется Северное море	
Ответ содержит названный выше элемент	1
Все ответы, которые не соответствуют вышеуказанному критерию выставления оценок в 1 балл	0
<i>Максимальный балл</i>	<i>1</i>

- 15 Назовите ещё один (любой) тип электростанций, использующих возобновляемые источники энергии, построенных в акватории Мирового океана.

Содержание верного ответа и указания по оцениванию (допускаются иные формулировки ответа, не искажающие его смысла)	Баллы
В ответе называются приливные электростанции ИЛИ электростанции, использующие энергию морских волн	
Ответ содержит названный выше элемент	1
Все ответы, которые не соответствуют вышеуказанному критерию выставления оценок в 1 балл	0
<i>Максимальный балл</i>	<i>1</i>

- 16 Объясните, почему ветровые электростанции всё чаще размещаются в морской акватории.

Содержание верного ответа и указания по оцениванию (допускаются иные формулировки ответа, не искажающие его смысла)	Баллы
В ответе говорится, что при строительстве ветровых электростанций в море не требуется изъятия земельных угодий на суше, ИЛИ что над морями ветры наиболее сильные и постоянные, ИЛИ что шумовое загрязнение не приносит большого вреда	
Ответ содержит названный выше элемент	1
Все ответы, которые не соответствуют вышеуказанному критерию выставления оценок в 1 балл	0
<i>Максимальный балл</i>	<i>1</i>

- 17 В январе 2015 г. уровень воды в озере Байкал впервые за 60 лет упал до критической отметки. В населённых пунктах, расположенных на восточных берегах озера, возникла сложная ситуация с водоснабжением из-за исчезновения воды в колодцах и угроза нарушения всей экологической системы озера.
Относительно причин понижения уровня воды в озере существуют разные точки зрения. Одни специалисты указывают на естественные причины – особенности погодных условий в бассейне озера Байкал в 2014 г. Другие специалисты связывают понижение уровня воды в озере с работой построенной на Ангаре Иркутской ГЭС, естественным резервуаром воды для которой является озеро Байкал.
Выберите одну из упомянутых выше точек зрения и запишите рассуждения, подтверждающие эту точку зрения.

Содержание верного ответа и указания по оцениванию (допускаются иные формулировки ответа, не искажающие его смысла)		Баллы
К1	Раскрытие причинно-следственных связей	
	В ответе приводятся рассуждения, подтверждающие точку зрения, согласно которой понижение уровня воды в озере связано с естественными причинами: полностью прослеживается цепочка связей между особенностью погодных условий и понижением уровня воды в озере: 1) небольшое количество атмосферных осадков; 2) уменьшение поверхностного и подземного стока в озеро. ИЛИ В ответе приводятся рассуждения, подтверждающие точку зрения, согласно которой понижение уровня воды в озере связано с работой Иркутской ГЭС: полностью прослеживается цепочка связей между работой Иркутской ГЭС и понижением уровня воды в озере: 1) количество выработанной электроэнергии на ГЭС зависит от объёма воды, пропущенной через турбины; 2) количество воды, пропущенной через турбины, равно количеству воды, забранной из озера Байкал	2
	В ответе не полностью прослеживается цепочка связей между особенностью погодных условий и понижением уровня воды в озере. ИЛИ В ответе не полностью прослеживается цепочка связей между работой Иркутской ГЭС и понижением уровня воды в озере	1
	В ответе причинно-следственные связи не раскрываются или в цепочке связей указано неправильно более одного звена	0
К2	Географическая грамотность (Положительный балл по этому критерию выставляется только при положительном балле по критерию К1.)	
	Отсутствуют фактические и теоретические ошибки (ошибки в использовании географической терминологии, в демонстрации знаний о географических связях и закономерностях), ИЛИ присутствует не более одной фактической или теоретической ошибки	1
	Все ответы, которые не соответствуют вышеуказанным критериям выставления оценки в 1 балл	0
<i>Максимальный балл</i>		3

Система оценивания выполнения всей работы

Максимальный балл за выполнение работы – 21.

Рекомендации по переводу первичных баллов в отметки по пятибалльной шкале

Отметка по пятибалльной шкале	«2»	«3»	«4»	«5»
Первичные баллы	0–6	7–12	13–17	18–21