

## **Всероссийская проверочная работа**

**по профильному учебному предмету «ИСТОРИЯ»**

**для обучающихся по программам среднего профессионального образования,  
завершивших в предыдущем учебном году освоение общеобразовательных предметов,  
проходящих обучение по очной форме на базе основного общего образования.**

### **Образец**

#### **Инструкция по выполнению работы**

Проверочная работа включает в себя 12 заданий. На выполнение работы по истории отводится 1 час 30 минут (90 минут).

Ответы к заданиям 1, 5–7 записываются в виде последовательности цифр или слова (словосочетания). Сначала укажите ответы в тексте работы, а затем перенесите их в бланк ответов № 1 справа от номера соответствующего задания, начиная с первой клеточки, без пробелов, запятых и других дополнительных символов. Каждую цифру или букву пишите в отдельной клеточке в соответствии с приведёнными в бланке образцами. Имена российских государей следует писать только буквами (например: НиколайВторой).

Ответы на задания 2–4 и 8–12 запишите в поля ответов в тексте работы.

При выполнении работы не разрешается пользоваться учебниками, рабочими тетрадями и другими справочными материалами.

При выполнении заданий Вы можете использовать черновик. Записи в черновике проверяться и оцениваться не будут.

Советуем выполнять задания в том порядке, в котором они даны. Для экономии времени пропускайте задание, которое не удаётся выполнить сразу, и переходите к следующему. Если после выполнения всей работы у Вас останется время, Вы сможете вернуться к пропущенным заданиям.

Баллы, полученные Вами за выполненные задания, суммируются. Постарайтесь выполнить как можно больше заданий и набрать наибольшее количество баллов.

***Желаем успеха!***

1

Запишите термин, о котором идёт речь.

Политическая ситуация, сложившаяся в России в 1917 г., характеризующаяся одновременным существованием власти Временного правительства и Советов рабочих, солдатских и крестьянских депутатов.

Ответ: \_\_\_\_\_.

***Прочтите отрывок из сочинения историка и выполните задания 2–4.***

«Пришедшее из Сараево сообщение об убийстве австрийского эрцгерцога было воспринято в высших сферах Петербурга с большим беспокойством. Здесь никто не сомневался в том, что если правящие круги Австро-Венгрии решатся воспользоваться убийством Франца-Фердинанда в качестве предлога для столкновения с Сербией, это может привести к чрезвычайно серьёзным осложнениям.

В российском министерстве иностранных дел прекрасно понимали, что австро-сербский конфликт не сулит России ничего хорошего. В случае такого конфликта отказ российского правительства в поддержке Сербии подорвал бы престиж России на Балканах. С другой стороны, поддержать Сербию – значило пойти на конфликт не только с Австрией, но и с Германией, а столкновения с германо-австрийским блоком правящие круги Российской империи имели серьёзные основания опасаться.

Кроме того, не все в Петербурге были уверены в поддержке союзников по Антанте в случае, если бы Россия ввязалась в войну с Германией и Австрией. Дипломаты особенно опасались, что война с германо-австрийским блоком может возникнуть из-за австро-сербских трений. Такой вариант возникновения войны был крайне невыгоден для России, поскольку, ставя под удар объединённых сил Германии и Австрии прежде всего Российскую империю, он давал бы её союзникам широкую возможность в самый последний момент или совсем уклониться от поддержки России, или ограничиться предоставлением какой-нибудь мало существенной помощи. В силу всех этих обстоятельств российские дипломаты всячески стремились смягчить австро-сербские требования».

2

Укажите год, когда произошли описанные в тексте события. Назовите российского императора, в период правления которого произошли описанные события.

Ответ: \_\_\_\_\_

\_\_\_\_\_

3

Почему, по мнению автора, для России было особенно невыгодно, если бы война с Австрией и Германией началась из-за австро-сербского конфликта? Какое последствие, по мнению автора, могло иметь уклонение России от поддержки Сербии в австро-сербском конфликте?

Ответ: \_\_\_\_\_

\_\_\_\_\_

\_\_\_\_\_

\_\_\_\_\_

- 4 В тексте упоминаются союзники России по Антанте. Назовите одно любое государство, являвшееся союзником России.

Ответ: \_\_\_\_\_

- 5 Заполните пустые ячейки таблицы, используя приведённый ниже список пропущенных элементов: для каждого пропуска, обозначенного буквой, выберите и запишите в таблицу номер нужного элемента.

Год	Событие	Характеристика события
2020 г.	_____ (А)	_____ (Б)
2014 г.	Воссоединение Крыма с Россией	_____ (В)
_____ (Г)	_____ (Д)	Событию способствовал августовский путч
_____ (Е)	XX съезд КПСС	В ходе события руководитель КПСС выступил с докладом «О культе личности и его последствиях»

Пропущенные элементы:

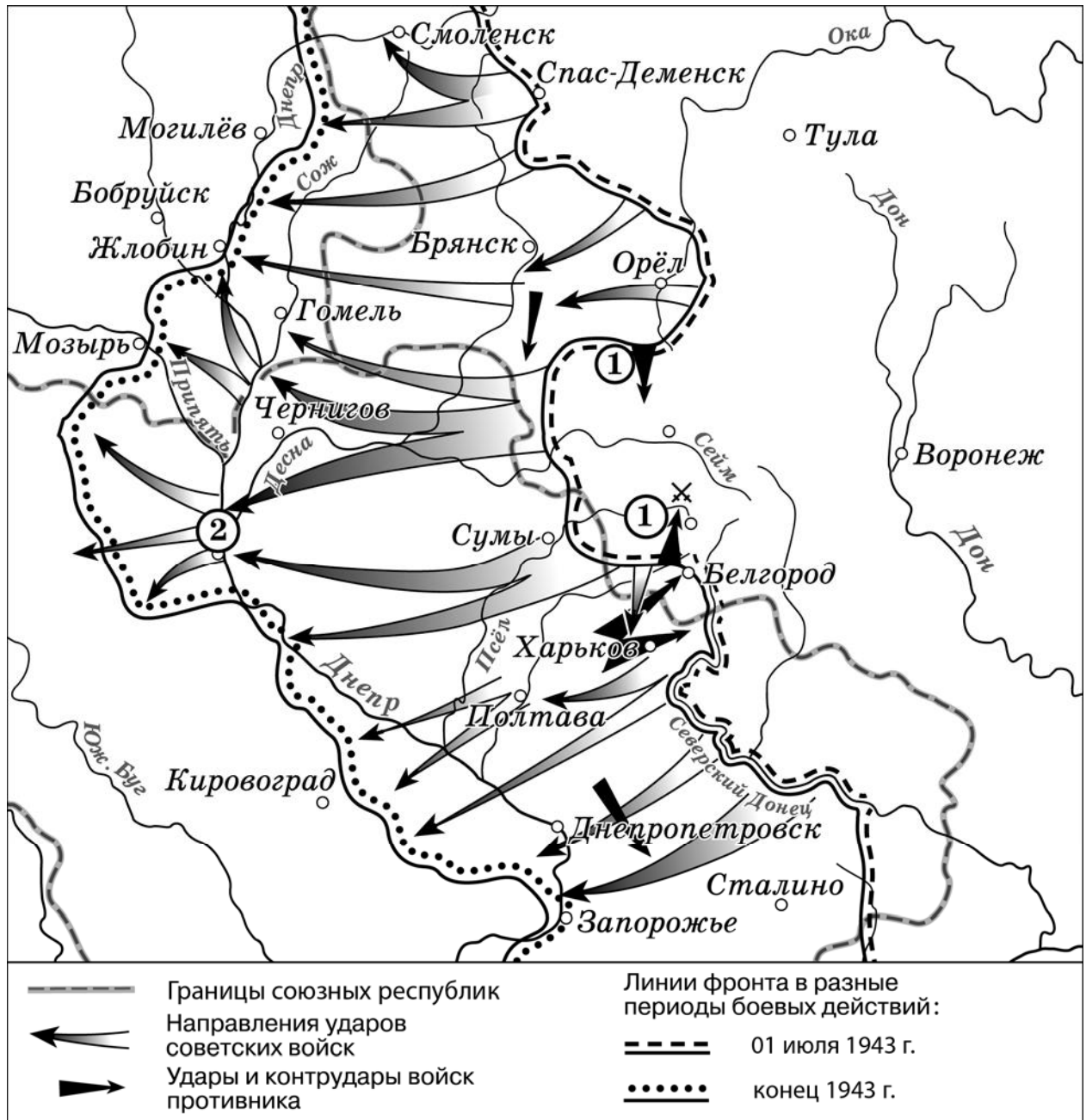
- 1) 1991 г.
- 2) последствием события стало избрание Президентом России Б.Н. Ельцина
- 3) принятие поправок к Конституции Российской Федерации
- 4) созыв XIX партконференции
- 5) одной из предпосылок события стали многомесячные антипрезидентские и антиправительственные акции на Украине
- 6) распад СССР
- 7) 1956 г.
- 8) 1968 г.
- 9) проведение общероссийского голосования в ходе данного события

Запишите в таблицу выбранные цифры под соответствующими буквами.

Ответ:

А	Б	В	Г	Д	Е

Рассмотрите схему и выполните задания 6 и 7.



6 Запишите пропущенное название: «Цифрой "1" на схеме обозначено наступление противника в ходе \_\_\_\_\_ битвы».


Ответ: \_\_\_\_\_.

7 Укажите название города, обозначенного на схеме цифрой «2».

Ответ: \_\_\_\_\_.

Не забудьте перенести ответы на задания 1, 5–7 в бланк ответов № 1 в соответствии с инструкцией по выполнению работы. Проверьте, чтобы каждый ответ был записан рядом с правильным номером задания.

*Рассмотрите фотографию и выполните задания 8 и 9.*



8 Укажите год, когда была сделана данная фотография. Назовите государство, являвшееся основным противником СССР в войне, к истории которой относится данная фотография.

Ответ: \_\_\_\_\_

\_\_\_\_\_

9 Назовите руководителя СССР в период, когда была сделана данная фотография.

Ответ: \_\_\_\_\_

\_\_\_\_\_

- 10 Укажите событие или процесс российской истории XX в., оказавшее(-ий) значительное влияние на развитие региона или населённого пункта, в котором находится Ваша образовательная организация. Приведите два любых факта, иллюстрирующих влияние этого события или процесса на развитие региона или населённого пункта.

Ответ: \_\_\_\_\_  
\_\_\_\_\_  
\_\_\_\_\_  
\_\_\_\_\_  
\_\_\_\_\_  
\_\_\_\_\_

***Прочтите и выполните задания 11 и 12.***

- 11 Назовите одно любое внешнеполитическое событие (процесс) из истории России, произошедшее в период 1945 – 1953 гг., и одного участника этого события (процесса). Укажите один любой его поступок (действие) в ходе участия в этом событии (процессе).

Ответ: \_\_\_\_\_  
\_\_\_\_\_  
\_\_\_\_\_

- 12 В чём состояло влияние указанного внешнеполитического события (процесса), произошедшего в период 1945 – 1953 гг., на дальнейшую историю России? При ответе обязательно используйте знание исторических фактов.

Ответ: \_\_\_\_\_  
\_\_\_\_\_  
\_\_\_\_\_  
\_\_\_\_\_

### Система оценивания проверочной работы по истории

Каждое из заданий 1, 5, 6, 7 считается выполненным верно, если правильно указаны цифры или слово (словосочетание).

Полный правильный ответ на каждое из заданий 1, 6 и 7 оценивается 1 баллом; неполный, неверный ответ или его отсутствие – 0 баллов.

Полный правильный ответ на задание 5 оценивается 3 баллами; выполнение задания с одной ошибкой – 2 баллами; выполнение задания с двумя-тремя ошибками – 1 баллом, за четыре и более ошибок или полное отсутствие ответа выставляется 0 баллов.

<b>Номер задания</b>	<b>Правильный ответ</b>
1	двоевластие
5	395167
6	Курской
7	Киев

### Критерии оценивания заданий с развёрнутым ответом

«Пришедшее из Сараево сообщение об убийстве австрийского эрцгерцога было воспринято в высших сферах Петербурга с большим беспокойством. Здесь никто не сомневался в том, что если правящие круги Австро-Венгрии решатся воспользоваться убийством Франца-Фердинанда в качестве предлога для столкновения с Сербией, это может привести к чрезвычайно серьёзным осложнениям.

В российском министерстве иностранных дел прекрасно понимали, что австро-сербский конфликт не сулит России ничего хорошего. В случае такого конфликта отказ российского правительства в поддержке Сербии подорвал бы престиж России на Балканах. С другой стороны, поддержать Сербию – значило пойти на конфликт не только с Австрией, но и с Германией, а столкновения с германо-австрийским блоком правящие круги Российской империи имели серьёзные основания опасаться.

Кроме того, не все в Петербурге были уверены в поддержке союзников по Антанте в случае, если бы Россия ввязалась в войну с Германией и Австрией. Дипломаты особенно опасались, что война с германо-австрийским блоком может возникнуть из-за австро-сербских трений. Такой вариант возникновения войны был крайне невыгоден для России, поскольку, ставя под удар объединённых сил Германии и Австрии прежде всего Российскую империю, он давал бы её союзникам широкую возможность в самый последний момент или совсем уклониться от поддержки России, или ограничиться предоставлением какой-нибудь мало существенной помощи. В силу всех этих обстоятельств российские дипломаты всячески стремились смягчить австро-сербские требования».

2

Укажите год, когда произошли описанные в тексте события. Назовите российского императора, в период правления которого произошли описанные события.

Содержание верного ответа и указания по оцениванию (допускаются иные формулировки ответа, не искажающие его смысла)	Баллы
Правильный ответ должен содержать следующие элементы: 1) <u>год</u> – 1914; 2) <u>император</u> – Николай II	
Правильно указан год и назван император	2
Правильно указан только год. ИЛИ Правильно назван только император	1
Ответ неправильный	0
<i>Максимальный балл</i>	2

3

Почему, по мнению автора, для России было особенно невыгодно, если бы война с Австрией и Германией началась из-за австро-сербского конфликта? Какое последствие, по мнению автора, могло иметь уклонение России от поддержки Сербии в австро-сербском конфликте?

Содержание верного ответа и указания по оцениванию (допускаются иные формулировки ответа, не искажающие его смысла)	Баллы
Правильный ответ должен содержать следующие элементы: 1) <u>ответ на первый вопрос</u> : это давало «её союзникам широкую возможность в самый последний момент или совсем уклониться от поддержки России, или ограничиться предоставлением какой-нибудь мало существенной помощи»; 2) <u>ответ на второй вопрос</u> : это подорвало бы престиж России на Балканах	
Правильно даны ответы на два вопроса	2
Правильно дан ответ на один вопрос	1
Ответ неправильный	0
<i>Максимальный балл</i>	2




4

В тексте упоминаются союзники России по Антанте. Назовите одно любое государство, являвшееся союзником России.

Содержание верного ответа и указания по оцениванию (допускаются иные формулировки ответа, не искажающие его смысла)	Баллы
В ответе может быть указан <u>союзник России</u> , например: 1) Великобритания; 2) Франция	
Правильно указан союзник России	1
Ответ неправильный	0
<i>Максимальный балл</i>	<i>1</i>

*Рассмотрите фотографию и выполните задания 8 и 9.*



8

Укажите год, когда была сделана данная фотография. Назовите государство, являвшееся основным противником СССР в войне, к истории которой относится данная фотография.

Содержание верного ответа и указания по оцениванию (допускаются иные формулировки ответа, не искажающие его смысла)	Баллы
Правильный ответ должен содержать следующие <u>элементы</u> : 1) <u>год</u> – 1945 г.; 2) <u>государство</u> – Германия	
Правильно указаны год и государство	2
Правильно указан любой один элемент ответа	1
Ответ неправильный	0
<i>Максимальный балл</i>	<i>2</i>

9 Назовите руководителя СССР в период, когда была сделана данная фотография.

<b>Содержание верного ответа и указания по оцениванию</b> (допускаются иные формулировки ответа, не искажающие его смысла)	<b>Баллы</b>
Должен быть назван <u>руководитель СССР</u> – И.В. Сталин	
Правильно назван руководитель СССР	1
Ответ неправильный	0
<i>Максимальный балл</i>	<i>1</i>

10 Укажите событие или процесс российской истории XX в., оказавшее(-ий) значительное влияние на развитие региона или населённого пункта, в котором находится Ваша образовательная организация. Приведите два любых факта, иллюстрирующих влияние этого события или процесса на развитие региона или населённого пункта.

<b>Критерии оценивания</b>	<b>Баллы</b>
Указано событие (процесс) российской истории XX в., оказавшее(-ий) значительное влияние на развитие региона или населённого пункта; приведены два факта, иллюстрирующих влияние этого события или процесса на развитие региона или населённого пункта	2
Указано событие (процесс) российской истории XX в., оказавшее(-ий) значительное влияние на развитие региона или населённого пункта; приведён один факт, иллюстрирующий влияние этого события или процесса на развитие региона или населённого пункта	1
Указано только событие (процесс) российской истории XX в., оказавшее(-ий) значительное влияние на развитие региона или населённого пункта; факты, иллюстрирующие влияние этого события или процесса на развитие региона или населённого пункта не приведены / приведены неправильно. ИЛИ Событие (процесс) российской истории XX в., оказавшее(-ий) значительное влияние на развитие региона или населённого пункта не указано / указано неправильно (независимо от количества указанных фактов региональной истории)	0
<i>Максимальный балл</i>	<i>2</i>

- 11 Назовите одно любое внешнеполитическое событие (процесс) из истории России, произошедшее в период 1945 – 1953 гг., и одного участника этого события (процесса). Укажите один любой его поступок (действие) в ходе участия в этом событии (процессе).

Критерии оценивания	Баллы
Правильно указаны внешнеполитическое событие (процесс), его участник и поступок (действие)	2
Правильно указаны только внешнеполитическое событие (процесс) и его участник	1
Указано только внешнеполитическое событие (процесс). Указан исторический деятель с указанием/без указания его действия (внешнеполитическое событие (процесс) не указано или указано неправильно). Указано только действие (внешнеполитическое событие (процесс) и участник события (процесса) указаны неправильно или не указаны). ИЛИ Ответ неправильный	0
<i>Максимальный балл</i>	<i>2</i>

- 12 В чём состояло влияние указанного внешнеполитического события (процесса), произошедшего в период 1945 – 1953 гг., на дальнейшую историю России? При ответе обязательно используйте знание исторических фактов.

Критерии оценивания	Баллы
Правильно указано влияние внутривнутриполитического события (процесса) на дальнейшую историю России с опорой на исторический(-ие) факт(ы)	1
Влияние внутривнутриполитического события (процесса) на дальнейшую историю России сформулировано в общей форме или на уровне обыденных представлений, без привлечения исторических фактов и/или мнений историков. ИЛИ Влияние внутривнутриполитического события (процесса) на дальнейшую историю России не указано. ИЛИ Ответ неправильный	0
<i>Максимальный балл</i>	<i>1</i>

### Система оценивания выполнения всей работы

Максимальный балл за выполнение работы – 19.

*Рекомендации по переводу первичных баллов в отметки по пятибалльной шкале*

Отметка по пятибалльной шкале	«2»	«3»	«4»	«5»
Первичные баллы	0–6	7–11	12–15	16–19