

Всероссийская проверочная работа

по профильному учебному предмету «ФИЗИКА»

**для обучающихся по программам среднего профессионального образования,
завершивших в предыдущем учебном году освоение общеобразовательных предметов,
проходящих обучение по очной форме на базе основного общего образования.**

Образец

Инструкция по выполнению работы

Проверочная работа включает в себя 18 заданий. На выполнение работы по физике отводится 1 час 30 минут (90 минут).

Ответы к заданиям 2, 7, 8, 13 записываются в виде последовательности цифр. Ответом к заданию 6 является слово. Ответы запишите в поля ответов в тексте работы, а затем перенесите в бланк ответов № 1. Каждый символ пишите в отдельной клеточке в соответствии с приведёнными в бланке образцами.

Ответы на задания 1, 3–5, 9–12, 14–18 запишите в поля ответов в тексте работы.

При выполнении работы не разрешается пользоваться учебниками, рабочими тетрадями и другими справочными материалами.

При выполнении работы разрешается использовать калькулятор и линейку.

При выполнении заданий Вы можете использовать черновик. Записи в черновике проверяться и оцениваться не будут.

Советуем выполнять задания в том порядке, в котором они даны. Для экономии времени пропускайте задание, которое не удаётся выполнить сразу, и переходите к следующему. Если после выполнения всей работы у Вас останется время, Вы сможете вернуться к пропущенным заданиям.

Баллы, полученные Вами за выполненные задания, суммируются. Постарайтесь выполнить как можно больше заданий и набрать наибольшее количество баллов.

Желаем успеха!

Ниже приведены справочные данные, которые могут понадобиться Вам при выполнении работы.

Десятичные приставки

Наименование	Обозначение	Множитель	Наименование	Обозначение	Множитель
гига	Г	10^9	санти	с	10^{-2}
мега	М	10^6	милли	м	10^{-3}
кило	к	10^3	микро	мк	10^{-6}
гекто	г	10^2	нано	н	10^{-9}
деци	д	10^{-1}	пико	п	10^{-12}

Константы

ускорение свободного падения на Земле	$g = 10 \text{ м/с}^2$
гравитационная постоянная	$G = 6,7 \cdot 10^{-11} \text{ Н} \cdot \text{м}^2/\text{кг}^2$
универсальная газовая постоянная	$R = 8,31 \text{ Дж}/(\text{моль} \cdot \text{К})$
скорость света в вакууме	$c = 3 \cdot 10^8 \text{ м/с}$
коэффициент пропорциональности в законе Кулона	$k = 9 \cdot 10^9 \text{ Н} \cdot \text{м}^2/\text{Кл}^2$
модуль заряда электрона (элементарный электрический заряд)	$e = 1,6 \cdot 10^{-19} \text{ Кл}$
постоянная Планка	$h = 6,6 \cdot 10^{-34} \text{ Дж} \cdot \text{с}$

1 Прочитайте перечень понятий, с которыми Вы встречались в курсе физики:

*конденсация, плотность, мощность, упругая деформация,
броуновское движение, электрическое сопротивление.*

Разделите эти понятия на две группы по выбранному Вами признаку. Запишите в таблицу название каждой группы и понятия, входящие в эту группу.

Название группы понятий	Перечень понятий

2 Выберите **два** верных утверждения о физических явлениях, величинах и закономерностях. Запишите в ответе их номера.

- 1) Сила Архимеда увеличивается с увеличением плотности тела, погружённого в жидкость.
- 2) Импульс тела – векторная величина, равная произведению массы тела на его ускорение.
- 3) В процессе плавления кристаллических тел их температура остаётся неизменной.
- 4) Разноимённые полюса постоянных магнитов отталкиваются друг от друга.
- 5) Силой Лоренца называют силу, с которой магнитное поле действует на движущиеся заряженные частицы.

Ответ:

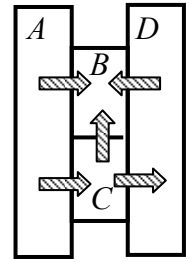
--	--

3 Эскалатор метро движется вниз с постоянной скоростью, равной 1 м/с. Пассажир, находящийся на эскалаторе, находится в покое в системе отсчёта, связанной с Землёй. Как движется пассажир относительно эскалатора?

Ответ: _____

4

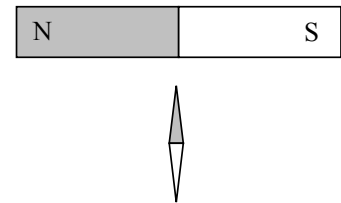
Четыре металлических бруска (*A*, *B*, *C* и *D*) положили вплотную друг к другу, как показано на рисунке. Стрелки указывают направление теплопередачи от бруска к бруску. Температуры брусков в данный момент равны 80 °С, 50 °С, 30 °С, 10 °С. Какой из брусков имеет температуру 80 °С?



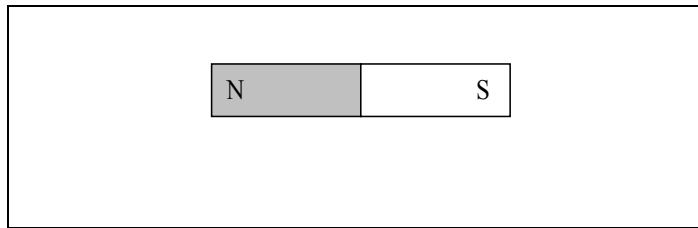
Ответ: _____

5

Магнитная стрелка зафиксирована (северный полюс затемнён, см. рисунок). К стрелке поднесли сильный постоянный полосовой магнит, затем освободили стрелку, она повернулась и остановилась в новом положении.

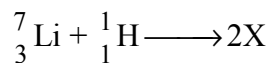


Изобразите на рисунке в рамке новое положение стрелки.



6

Ядерная реакция, происходящая при бомбардировке ядер быстрыми протонами, была осуществлена на ускорителе в 1932 г. В процессе этой реакции ядра изотопа лития поглощают протон, и образуется два одинаковых ядра.



Используя фрагмент Периодической системы химических элементов Д.И. Менделеева, определите, ядра какого элемента образуются в этой реакции.

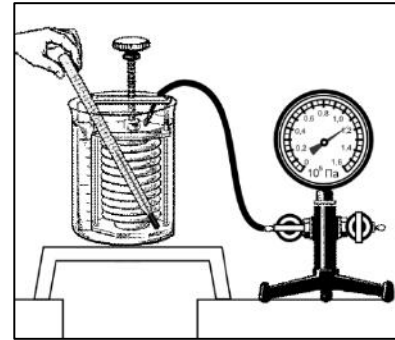
H 1,00797 Водород	1							2 4,0026 Гелий
Li 6,939 Литий	3	Be 9,0122 Бериллий	4	5 10,811 Бор	B	6 12,01115 Углерод	C	7 14,0067 Азот
					8 15,9994 Кислород	O	9 18,9984 Фтор	F
							10 20,183 Неон	Ne

Ответ: _____.

7

Гофрированный цилиндр, в котором под закреплённым поршнем находится воздух, начинают охлаждать, поместив в сосуд с холодной водой (см. рисунок). Как будет изменяться концентрация молекул воздуха, а также давление воздуха в цилиндре по мере охлаждения?

Установите соответствие между физическими величинами и их возможными изменениями.



Для каждой величины определите соответствующий характер изменения:

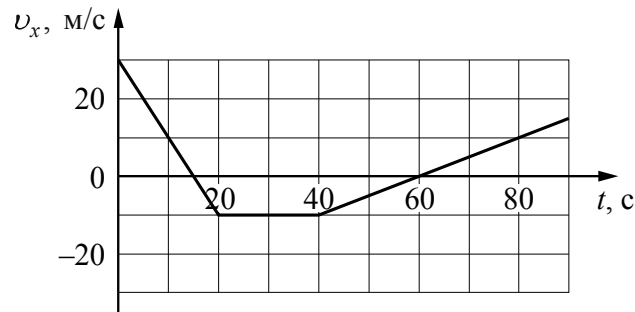
- 1) увеличивается
- 2) уменьшается
- 3) не изменяется

Запишите в таблицу выбранные цифры для каждой физической величины. Цифры в ответе могут повторяться.

Концентрация молекул воздуха в цилиндре	Давление воздуха в цилиндре

8

Мотоциклист движется по прямой улице. На графике представлена зависимость его скорости от времени.



Выберите **два** утверждения, которые верно описывают движение мотоциклиста. Запишите номера, под которыми они указаны.

- 1) В промежутке времени от 20 до 40 с равнодействующая сил, действующих на мотоциклиста, сообщает ему постоянное по модулю ускорение, отличное от нуля.
- 2) В течение первых 20 с мотоциклист двигался равноускоренно, а в течение следующих 20 с – равномерно.
- 3) Модуль максимальной скорости мотоциклиста за весь период наблюдения составляет 72 км/ч.
- 4) В момент времени 60 с мотоциклист остановился, а затем начал движение в противоположном направлении.
- 5) Модуль максимального ускорения мотоциклиста за весь период наблюдения равен 4 м/с^2 .

Ответ:

--	--

9

В паспорте электрического утюга написано, что его потребляемая мощность составляет 1,2 кВт при напряжении питания 220 В (см. рисунок). Определите сопротивление нагревательного элемента утюга. Запишите решение и ответ. Ответ округлите до целого числа.



Решение: _____

Ответ: _____

10

С помощью амперметра проводились измерения силы тока в электрической цепи. Использовалась шкала с пределом измерения 8 А. Погрешность измерений силы тока равна цене деления шкалы амперметра.

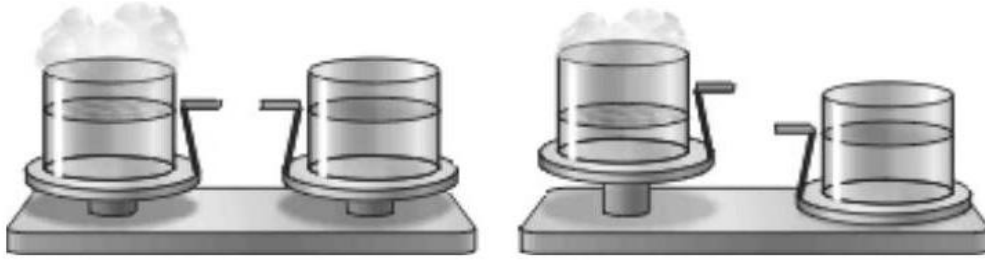


Запишите в ответ показания амперметра с учётом погрешности измерений.

Ответ: _____ А.

11

Учитель на уроке уравновесил на рычажных весах два одинаковых стакана с водой, только один стакан был заполнен холодной водой, а другой – горячей (см. рисунок).



Через некоторое время учитель обратил внимание учащихся на тот факт, что равновесие весов нарушилось: перевесил стакан с холодной водой.

С какой целью был проведён данный опыт?

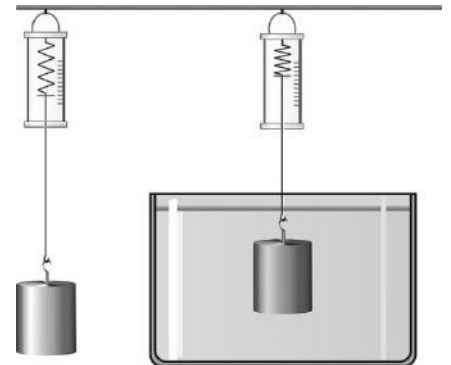
Ответ: _____

12

Вам необходимо исследовать, зависит ли выталкивающая сила, действующая на полностью погружённое в жидкость тело, от плотности жидкости.

Имеется следующее оборудование (см. рисунок):

- динамометр;
- сосуды с тремя жидкостями: водой, подсолнечным маслом и спиртом;
- набор из трёх сплошных стальных грузов объёмом 30 см^3 , 40 см^3 и 80 см^3 .



В ответе:

1. Опишите экспериментальную установку.
2. Опишите порядок действий при проведении исследования.

Ответ: _____

13

Установите соответствие между примерами проявления физических явлений и физическими явлениями. Для каждого примера из первого столбца подберите соответствующее физическое явление из второго столбца.

ПРИМЕРЫ ПРОЯВЛЕНИЯ ФИЗИЧЕСКИХ ЯВЛЕНИЙ

- А) при поднесении заряженной эбонитовой палочки бумажные лепестки султанчика притягиваются к ней
- Б) железные опилки ориентируются вблизи постоянного магнита

ФИЗИЧЕСКИЕ ЯВЛЕНИЯ

- 1) электризация проводника через влияние
- 2) поляризация диэлектрика в электрическом поле
- 3) намагничивание вещества в магнитном поле
- 4) взаимодействие постоянного магнита и проводника с током

Запишите в таблицу выбранные цифры под соответствующими буквами.

Ответ:

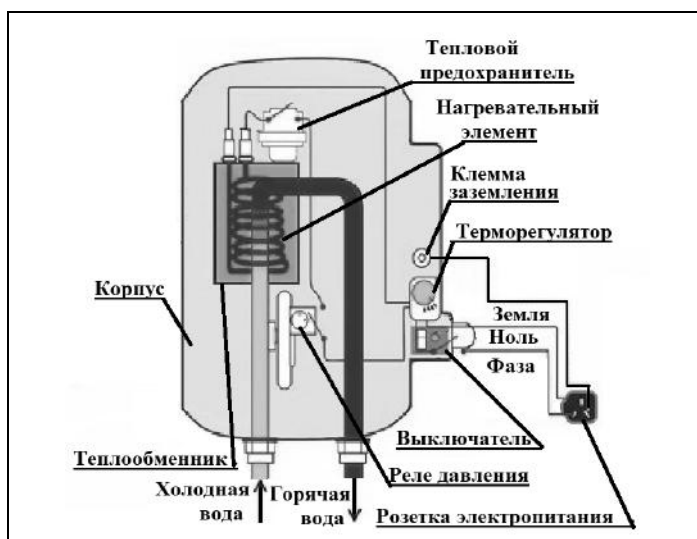
А	Б

Не забудьте перенести ответы к заданиям 2, 6, 7, 8, 13 в бланк ответов № 1 в соответствии с инструкцией по выполнению работы. Проверьте, чтобы каждый ответ был записан рядом с правильным номером задания.

Прочитайте фрагмент технического описания проточного электрического водонагревателя и выполните задания 14 и 15.

Проточный электрический водонагреватель

Проточный электрический водонагреватель (ЭВН) предназначен для получения горячей воды, рассчитан на напряжение 220 В и потребляемую мощность 6 кВт. Вода, поступающая из водопровода (минимально допустимое давление равно 0,05 МПа), нагревается, проходя по теплообменнику из меди, в котором находятся нагревательные элементы. Температура воды задаётся либо регулировкой потока воды, либо терморегулятором. Выставленное на терморегуляторе значение температуры воды достигается через 15 с после включения ЭВН. В течение года температура холодной воды может колебаться от 5 °С до 20 °С. При минимально допустимом потоке 1,8 л/мин. вода нагревается на 40 °С, при меньшей величине потока воды ЭВН отключается автоматически, при температуре воды выше 90 °С тепловой предохранитель отключает ЭВН.



Правила эксплуатации

1. Запрещается эксплуатация ЭВН без заземления (для электропитания используется трёхполюсная розетка).
2. Подключение к сети должно производиться трёхжильным медным кабелем, рассчитанным на мощность ЭВН, но с сечением жилы не менее 4 мм².
3. ЭВН должен эксплуатироваться в отапливаемых помещениях.
4. Запрещается включать ЭВН при замерзании в нём воды.
5. Запрещается использовать воду, содержащую ил, ржавчину и т. п.
6. Запрещается выдёргивать вилку из розетки мокрыми руками.

14 После включения электрического водонагревателя вода, текущая из крана, становится горячей спустя некоторое время. Объясните, почему.

Ответ: _____


15 Почему нельзя использовать водонагреватель в неотапливаемом помещении в морозную погоду?

Ответ: _____

Прочитайте текст и выполните задания 16, 17 и 18.

Гамма-излучение

Гамма-излучение было открыто в начале XX в. при изучении радиоактивного излучения радия. Гамма-излучение – широкий диапазон электромагнитного спектра, поскольку он не ограничен со стороны высоких энергий. Мягкое гамма-излучение с энергией от 100 кэВ образуется при энергетических переходах внутри атомных ядер. Более жёсткое, с энергией от 10 МэВ, – при ядерных реакциях. Существуют космические гамма-лучи, которые почти полностью задерживаются атмосферой Земли, поэтому наблюдать их можно только из космоса.



На рисунке – фотография неба в гамма-лучах с энергией 100 МэВ. Обзор в диапазоне жёсткого гамма-излучения выполнен космической гамма-обсерваторией «Комптон», которая была запущена по программе NASA «Великие обсерватории» и с 1991 по 2000 г. вела наблюдения в диапазоне от жёсткого рентгена до жёсткого гамма-излучения. На фотографии отчётливо видна плоскость Галактики, где излучение формируется в основном остатками сверхновых. Яркие источники вдали от плоскости Галактики имеют в основном внегалактическое происхождение.

Гамма-кванты сверхвысоких энергий (от 100 ТэВ) рождаются при столкновении заряженных частиц, разогнанных мощными электромагнитными полями космических объектов или земных ускорителей элементарных частиц. В атмосфере они разрушают ядра атомов, порождая каскады частиц, летящих с околосветовой скоростью. При торможении эти частицы испускают свет, который наблюдают с помощью специальных телескопов на Земле.

Где и как образуются гамма-лучи ультравысоких энергий (от 100 ТэВ¹), пока не вполне ясно. Земным технологиям такие энергии недоступны. Самые энергичные наблюдаемые кванты (10^{20} – 10^{21} эВ) приходят из космоса крайне редко – примерно один квант в 100 лет на квадратный километр.

Гамма-кванты негативно воздействуют на организм человека и являются мутагенным фактором. Обладая высокой проникающей способностью, они ионизируют и разрушают молекулы, которые, в свою очередь, начинают ионизировать следующую порцию молекул. Происходит трансформация клеток и появление мутированных клеток, которые не способны исполнять свойственные им функции.



¹ 1 ТэВ = 10^{12} эВ; 1 эВ = $1,6 \cdot 10^{-19}$ Дж.

Несмотря на опасность таких лучей, их используют в различных областях, соблюдая необходимые меры защиты, например для стерилизации продуктов, обработки медицинского инструментария и техники, контроля над внутренним состоянием ряда изделий, а также для культивирования растений. В последнем случае мутации сельскохозяйственных культур позволяют использовать их для выращивания на территории стран, изначально к этому не приспособленных. Применяются гамма-лучи и при лечении различных онкологических заболеваний. Метод получил название лучевой терапии.

16 Вставьте в предложение пропущенные слова (сочетания слов), используя информацию из текста.

Земные организмы защищены от воздействия космических гамма-квантов, так как они задерживаются _____. Для наблюдения этого гамма-излучения используют гамма-телескопы, расположенные _____.

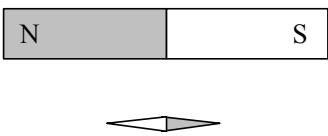
17 Энергия кванта определяется по формуле $E = h\nu$. Оцените частоту гамма-излучения, образующегося при энергетических переходах внутри атомных ядер.

Ответ: _____

18 Почему гамма-излучение используют для стерилизации продуктов и медицинских инструментов?

Ответ:

Система оценивания проверочной работы по физике

Номер задания	Правильный ответ	Баллы
2	35	2 балла, если верно указаны два элемента ответа; 1 балл, если допущена одна ошибка или верно указан только один элемент ответа
3	поднимается со скоростью 1 м/с	1 балл
4	брусok A	1 балл
5		1 балл, если приведён верный рисунок
6	гелий	1 балл
7	32	2 балла, если верно указаны два элемента ответа; 1 балл, если допущена одна ошибка или верно указан только один элемент ответа
8	24	2 балла, если верно указаны два элемента ответа; 1 балл, если допущена одна ошибка или верно указан только один элемент ответа
10	$(5,4 \pm 0,2) \text{ A}$	1 балл
13	23	2 балла, если верно указаны два элемента ответа; 1 балл, если допущена одна ошибка или верно указан только один элемент ответа
16	атмосферой / атмосферой Земли на спутниках / искусственных спутниках / в космосе	1 балл
17	$2 \cdot 10^{19} \text{ Гц}$	1 балл

Критерии оценивания выполнения заданий с развёрнутым ответом

1 Прочитайте перечень понятий, с которыми Вы встречались в курсе физики:

конденсация, плотность, мощность, упругая деформация, броуновское движение, электрическое сопротивление

Разделите эти понятия на две группы по выбранному Вами признаку. Запишите в таблицу название каждой группы и понятия, входящие в эту группу.

Название группы понятий	Перечень понятий

Возможный ответ							
<table border="1"> <thead> <tr> <th>Название группы понятий</th> <th>Перечень понятий</th> </tr> </thead> <tbody> <tr> <td>Физические величины</td> <td>Плотность, мощность, электрическое сопротивление</td> </tr> <tr> <td>Физические явления</td> <td>Конденсация, упругая деформация, броуновское движение</td> </tr> </tbody> </table>	Название группы понятий	Перечень понятий	Физические величины	Плотность, мощность, электрическое сопротивление	Физические явления	Конденсация, упругая деформация, броуновское движение	
Название группы понятий	Перечень понятий						
Физические величины	Плотность, мощность, электрическое сопротивление						
Физические явления	Конденсация, упругая деформация, броуновское движение						
Указания к оцениванию		Баллы					
Верно заполнены все клетки таблицы		2					
Верно указаны названия групп понятий, но допущено не более двух ошибок при распределении понятий по группам. ИЛИ Приведено верное распределение по группам, но допущена ошибка в названии одной из групп		1					
Другие случаи, не удовлетворяющие критериям на 2 и 1 балл		0					
<i>Максимальный балл</i>		2					

9

В паспорте электрического утюга написано, что его потребляемая мощность составляет 1,2 кВт при напряжении питания 220 В (см. рисунок). Определите сопротивление нагревательного элемента утюга.

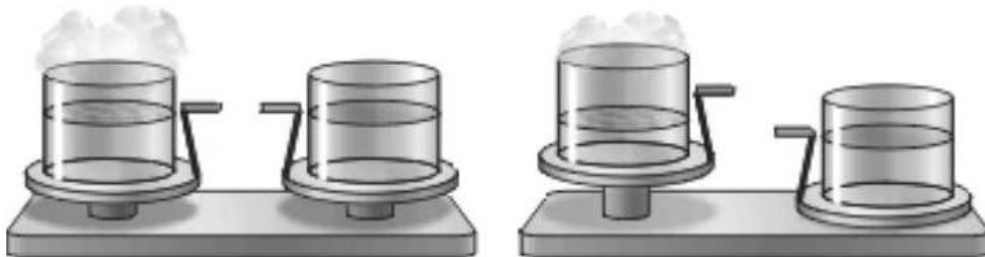
Запишите решение и ответ. Ответ округлите до целого числа.



Возможный ответ	
Используется формула для расчёта мощности электрического тока $P = \frac{U^2}{R}, \text{ откуда}$ $R = \frac{U^2}{P} = \frac{220^2}{1200} \approx 40 \text{ Ом}$	
Указания к оцениванию	
Записана верная формула для вычисления сопротивления, и получен верный ответ с указанием единиц измерения	2
Записана верная формула для мощности тока, но допущена ошибка в математических преобразованиях или расчётах	1
Другие случаи, не удовлетворяющие критериям на 2 и 1 балл	0
<i>Максимальный балл</i>	
	2

11

Учитель на уроке уравновесил на рычажных весах два одинаковых стакана с водой, только один стакан был заполнен холодной водой, а другой – горячей (см. рисунок).



Через некоторое время учитель обратил внимание учащихся на тот факт, что равновесие весов нарушилось: перевесил стакан с холодной водой.

С какой целью был проведён данный опыт?

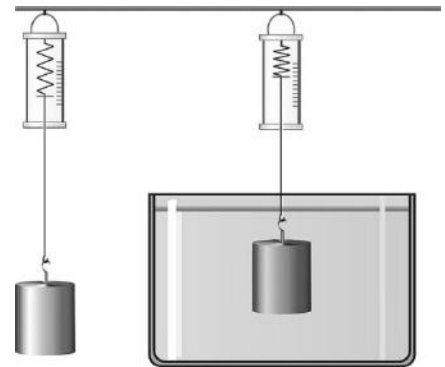
Возможный ответ	
Скорость остывания воды зависит от разности температур воды и окружающей среды. / Скорость теплопередачи уменьшается при уменьшении разности температуры тел, участвующих в теплопередаче	
Указания к оцениванию	
Представлен верный ответ	1
Ответ неверный. ИЛИ В ответе допущена ошибка	0
<i>Максимальный балл</i>	
	1

12

Вам необходимо исследовать, зависит ли выталкивающая сила, действующая на полностью погружённое в жидкость тело, от плотности жидкости.

Имеется следующее оборудование (см. рисунок):

- динамометр;
- сосуды с тремя жидкостями: водой, подсолнечным маслом и спиртом;
- набор из трёх сплошных стальных грузов объёмом 30 см^3 , 40 см^3 и 80 см^3 .



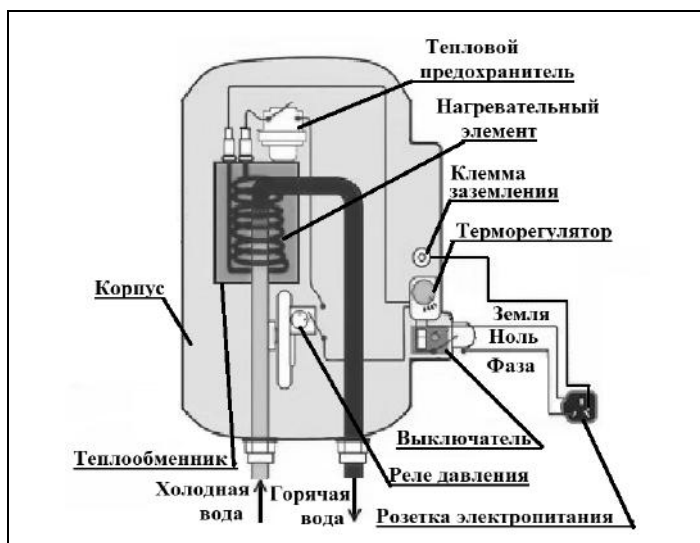
В ответе:

1. Опишите экспериментальную установку.
2. Опишите порядок действий при проведении исследования.

Возможный ответ	
1. Используется установка, изображённая на рисунке. Для проведения опыта используются сосуды с разными жидкостями и один из грузов.	
2. Выталкивающая сила определяется как разница показаний динамометра при взвешивании груза в воздухе и в жидкости.	
3. Выталкивающая сила, действующая на груз, определяется для двух или трёх жидкостей.	
4. Полученные значения выталкивающей силы сравниваются	
Указания к оцениванию	Баллы
Описана экспериментальная установка. Указан порядок проведения опыта и ход измерения выталкивающей силы	2
Описана экспериментальная установка, но допущена ошибка либо в описании порядка проведения опыта, либо в проведении измерений	1
Другие случаи, не удовлетворяющие критериям на 2 и 1 балл	0
<i>Максимальный балл</i>	2

Проточный электрический водонагреватель

Проточный электрический водонагреватель (ЭВН) предназначен для получения горячей воды, рассчитан на напряжение 220 В и потребляемую мощность 6 кВт. Вода, поступающая из водопровода (минимально допустимое давление равно 0,05 МПа), нагревается, проходя по теплообменнику из меди, в котором находятся нагревательные элементы. Температура воды задаётся либо регулировкой потока воды, либо терморегулятором. Выставленное на терморегуляторе значение температуры воды достигается через 15 с после включения ЭВН. В течение года температура холодной воды может колебаться от 5 °С до 20 °С. При минимально допустимом потоке 1,8 л/мин. вода нагревается на 40 °С, при меньшей величине потока воды ЭВН отключается автоматически, при температуре воды выше 90 °С тепловой предохранитель отключает ЭВН.



Правила эксплуатации

1. Запрещается эксплуатация ЭВН без заземления (для электропитания используется трёхполюсная розетка).
2. Подключение к сети должно производиться трёхжильным медным кабелем, рассчитанным на мощность ЭВН, но с сечением жилы не менее 4 мм².
3. ЭВН должен эксплуатироваться в отапливаемых помещениях.
4. Запрещается включать ЭВН при замерзании в нём воды.
5. Запрещается использовать воду, содержащую ил, ржавчину и т. п.
6. Запрещается выдёргивать вилку из розетки мокрыми руками.

- 14 После включения электрического водонагревателя вода, текущая из крана, становится горячей спустя некоторое время. Объясните, почему.


Возможный ответ	
Разогрев нагревательных элементов требует времени. Пока не пущена вода и на нагревательные элементы не подано напряжение, они холодные. При протекании электрического тока с течением времени устанавливается равновесие между количеством теплоты, выделяющейся по закону Джоуля – Ленца в нагревательном элементе, и тем количеством теплоты, которое отдаётся воде. Поэтому заданное значение температуры не достигается мгновенно	
Указания к оцениванию	Баллы
Представлено верное объяснение, не содержащее ошибок	1
Объяснение не представлено. ИЛИ В объяснении допущена ошибка	0
<i>Максимальный балл</i>	
	<i>1</i>

- 15 Почему нельзя использовать водонагреватель в неотапливаемом помещении в морозную погоду?

Возможный ответ	
В выключенном водонагревателе находится вода, которая может замёрзнуть в неотапливаемом помещении. При замерзании воды трубки будут разорваны, и прибор будет не годен к эксплуатации. Включение неисправного прибора может привести к перегреву нагревательных элементов и пожару	
Указания к оцениванию	Баллы
Представлено верное объяснение, не содержащее ошибок	1
Объяснение не представлено. ИЛИ В объяснении допущена ошибка	0
<i>Максимальный балл</i>	
	<i>1</i>

Гамма-излучение

Гамма-излучение было открыто в начале XX в. при изучении радиоактивного излучения радия. Гамма-излучение – широкий диапазон электромагнитного спектра, поскольку он не ограничен со стороны высоких энергий. Мягкое гамма-излучение с энергией от 100 кэВ образуется при энергетических переходах внутри атомных ядер. Более жёсткое, с энергией от 10 МэВ, – при ядерных реакциях. Существуют космические гамма-лучи, которые почти полностью задерживаются атмосферой Земли, поэтому наблюдать их можно только из космоса.



На рисунке – фотография неба в гамма-лучах с энергией 100 МэВ. Обзор в диапазоне жёсткого гамма-излучения выполнен космической гамма-обсерваторией «Комптон», которая была запущена по программе NASA «Великие обсерватории» и с 1991 по 2000 г. вела наблюдения в диапазоне от жёсткого рентгена до жёсткого гамма-излучения. На фотографии отчётливо видна плоскость Галактики, где излучение формируется в основном остатками сверхновых. Яркие источники вдали от плоскости Галактики имеют в основном внегалактическое происхождение.

Гамма-кванты сверхвысоких энергий (от 100 ТэВ) рождаются при столкновении заряженных частиц, разогнанных мощными электромагнитными полями космических объектов или земных ускорителей элементарных частиц. В атмосфере они разрушают ядра атомов, порождая каскады частиц, летящих с околосветовой скоростью. При торможении эти частицы испускают свет, который наблюдают с помощью специальных телескопов на Земле.

Где и как образуются гамма-лучи ультравысоких энергий (от 100 ТэВ²), пока не вполне ясно. Земным технологиям такие энергии недоступны. Самые энергичные наблюдаемые кванты (10^{20} – 10^{21} эВ) приходят из космоса крайне редко – примерно один квант в 100 лет на квадратный километр.

Гамма-кванты негативно воздействуют на организм человека и являются мутагенным фактором. Обладая высокой проникающей способностью, они ионизируют и разрушают молекулы, которые, в свою очередь, начинают ионизировать следующую порцию молекул. Происходит трансформация клеток и появление мутированных клеток, которые не способны исполнять свойственные им функции.

Несмотря на опасность таких лучей, их используют в различных областях, соблюдая необходимые меры защиты, например для стерилизации продуктов, обработки медицинского инструментария и техники, контроля над внутренним состоянием ряда изделий, а также для культивирования растений. В последнем случае мутации сельскохозяйственных культур позволяют использовать их для выращивания на территории стран, изначально к этому не приспособленных. Применяются гамма-лучи и при лечении различных онкологических заболеваний. Метод получил название лучевой терапии.



² 1 ТэВ = 10^{12} эВ; 1 эВ = $1,6 \cdot 10^{-19}$ Дж.

18 Почему гамма-излучение используют для стерилизации продуктов и медицинских инструментов?

Возможный ответ	
Гамма-излучение обладает ионизирующим действием, тем самым его воздействие способно разрушать ДНК имеющихся микроорганизмов, предотвращать их размножение и способствовать гибели. Облучённые продукты и инструменты становятся стерильными	
Указания к оцениванию	Баллы
Представлен правильный ответ на вопрос, и приведено достаточное обоснование, не содержащее ошибок	2
Представлен правильный ответ на поставленный вопрос, но его обоснование не является достаточным. ИЛИ Представлены корректные рассуждения, приводящие к правильному ответу, но ответ явно не сформулирован	1
Другие случаи, не удовлетворяющие критериям на 2 и 1 балл	0
<i>Максимальный балл</i>	
	2

Система оценивания выполнения всей работы

Максимальный балл за выполнение работы – 26.

Рекомендации по переводу первичных баллов в отметки по пятибалльной шкале

Отметка по пятибалльной шкале	«2»	«3»	«4»	«5»
Первичные баллы	0–8	9–15	16–20	21–26