

## **Всероссийская проверочная работа**

**по профильному учебному предмету «ГЕОГРАФИЯ»**

**для обучающихся первых курсов по очной форме обучения по образовательным программам среднего профессионального образования на базе основного общего образования**

### **Образец**

#### **Инструкция по выполнению работы**

На выполнение работы по географии отводится 1 час 30 минут (90 минут). Работа включает в себя 15 заданий.

Ответами к заданиям 1–6 и 8–15 являются цифра, последовательность цифр, число или слово (словосочетание). Ответы запишите в поле ответа в тексте работы без пробелов, запятых и других дополнительных символов, а затем перенесите в бланк ответов № 1. Каждый символ пишите в отдельной клеточке в соответствии с приведёнными в бланке образцами. Если ответ на задание имеет единицу измерения, то при переносе ответа на бланк следует записать только полученное число. Единицы измерения в ответе указывать не надо.

Ответ на задание 7 запишите в поле ответа в тексте работы.

При выполнении работы не разрешается пользоваться учебником, рабочими тетрадями и другими справочными материалами. Разрешается использовать географические атласы и линейку.

При необходимости можно пользоваться черновиком. Записи в черновике проверяться и оцениваться не будут.

Советуем выполнять задания в том порядке, в котором они даны. В целях экономии времени пропускайте задание, которое не удаётся выполнить сразу, и переходите к следующему. Если после выполнения всей работы у Вас останется время, то Вы сможете вернуться к пропущенным заданиям.

Баллы, полученные Вами за выполненные задания, суммируются. Постарайтесь выполнить как можно больше заданий и набрать наибольшее количество баллов.

***Желаем успеха!***

1 Вставьте название государства на место пропуска.

Одним из приграничных субъектов Российской Федерации является Еврейская автономная область, которая имеет выход к Государственной границе Российской Федерации с \_\_\_\_\_.

Ответ: \_\_\_\_\_.

2 Группа школьников из Мурманска хочет своими глазами увидеть необычную для них природу степей и лесостепей средней полосы России. Какой из перечисленных заповедников для этого им необходимо посетить?

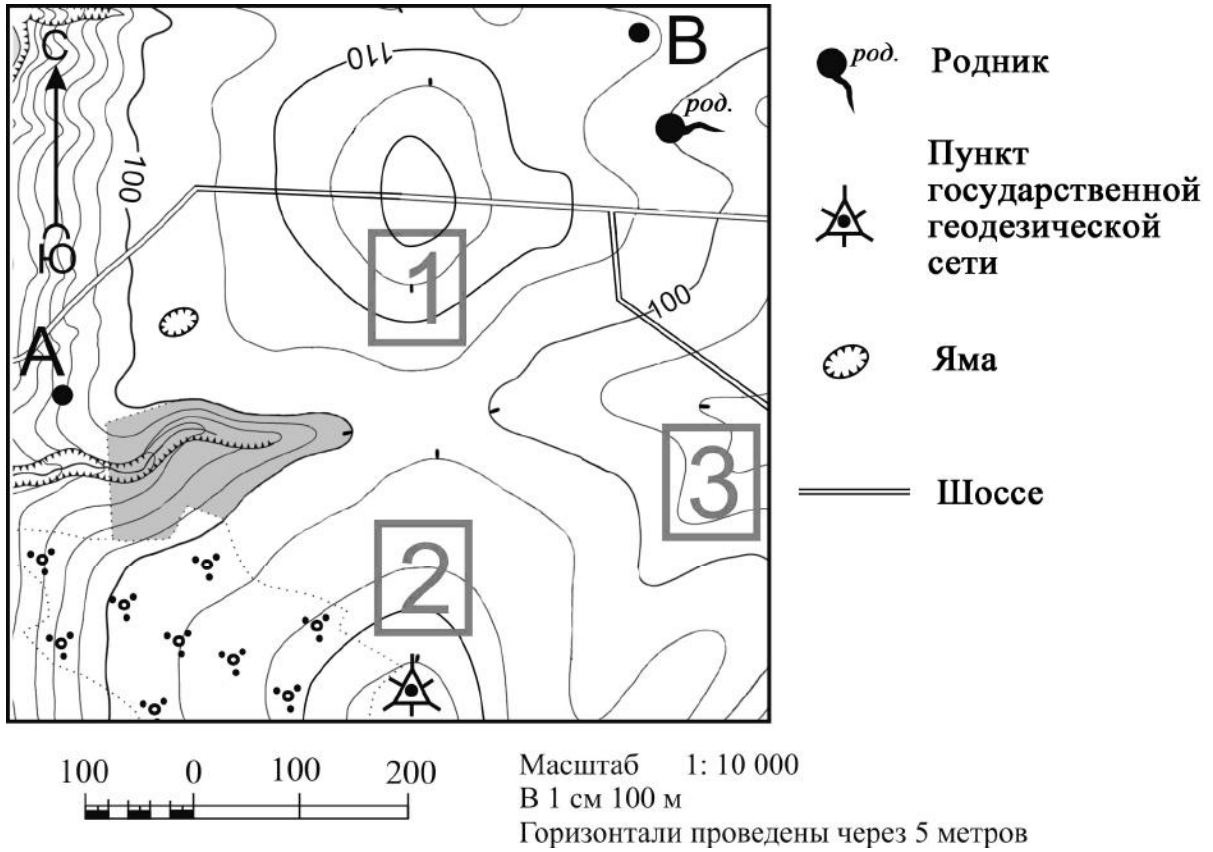
- 1) Кандалакшский
- 2) Воронежский
- 3) Корякский
- 4) Баргузинский

Ответ:

3 Определите, какой город – столица государства, имеет географические координаты  $33^{\circ}$  с.ш.  $13^{\circ}$  в.д.

Ответ: \_\_\_\_\_.

**Задания 4–7 выполняются с использованием приведённого ниже фрагмента топографической карты.**



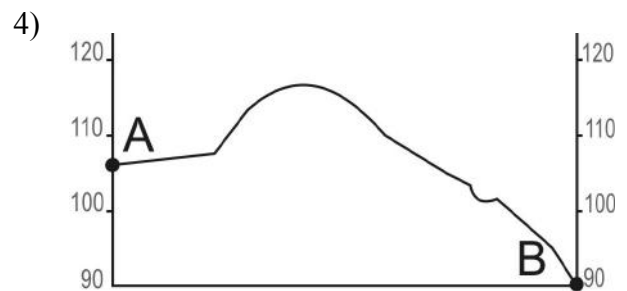

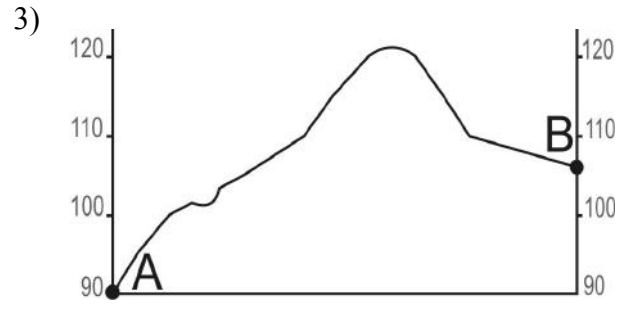
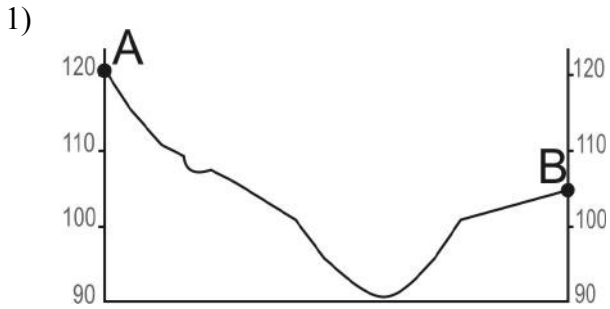
4 Определите по карте расстояние на местности по прямой от точки А до пункта государственной геодезической сети. Измерение проводите между точкой и центром условного знака. Полученный результат округлите до десятков метров. Ответ запишите в виде числа.

Ответ: \_\_\_\_\_.

5 Определите по карте, в каком направлении от точки А находится пункт государственной геодезической сети.

Ответ: \_\_\_\_\_.

6) На рисунках представлены варианты профиля рельефа местности, построенные на основе карты по линии А – В разными учащимися. Какой из профилей построен верно?



Ответ:

7) Фермер выбирает участок для закладки нового фруктового сада. Ему нужен участок, на котором весной рано сходит снег, а летом почва лучше всего прогревается солнцем. Он также должен иметь расположение, удобное для вывоза собранного урожая на консервный завод. Определите, какой из участков, обозначенных на карте цифрами 1, 2 и 3, больше всего отвечает указанным требованиям. Для обоснования Вашего ответа приведите два довода.

Ответ. \_\_\_\_\_

---



---



---



---



---



---



---



---



---



---



---

8 Многолетняя мерзлота оказывает влияние на хозяйственную деятельность человека: разработку полезных ископаемых, прокладку дорог, строительство. В каких двух из перечисленных регионов России необходимо учитывать последствия оттаивания многолетней мерзлоты в результате потепления климата? Запишите в таблицу цифры, под которыми указаны эти регионы.

- 1) Чувашская Республика
- 2) Тульская область
- 3) Красноярский край
- 4) Республика Саха (Якутия)
- 5) Челябинская область

Ответ:

--	--

9 Какие два из перечисленных видов хозяйственной деятельности способствуют охране почв от ветровой эрозии? Запишите в таблицу цифры, под которыми указаны выбранные виды хозяйственной деятельности.

- 1) создание полевых защитных лесополос
- 2) высаживание кустарников и деревьев
- 3) распашка территории
- 4) добыча полезных ископаемых открытым способом
- 5) выпас скота

Ответ:

--	--

**Задания 10, 11 выполняются с использованием приведённой ниже таблицы.**

Школьники из нескольких населённых пунктов России обменялись данными, полученными на местных метеостанциях 22 января 2013 г. Собранные ими данные представлены в следующей таблице.

Название пункта	Географические координаты	Высота над уровнем моря, м	Среднесуточная температура воздуха	Продолжительность дня
Воронеж	51° с.ш. 39° в.д.	101	-8 °С	8 ч 38 мин.
Уфа	55° с.ш. 56° в.д.	105	-6 °С	8 ч 13 мин.
Вологда	59° с.ш. 40° в.д.	131	-18 °С	7 ч 22 мин.
Архангельск	65° с.ш. 41° в.д.	18	-8 °С	5 ч 55 мин.

10

Учащиеся проанализировали собранные данные в целях выявления зависимостей между полученными характеристиками. У всех учащихся выводы получились разные. Кто из учащихся сделал верный вывод на основе представленных данных?

- 1) Михаил: «Среднесуточная температура воздуха повышается при движении с востока на запад».
- 2) Дарья: «Продолжительность дня уменьшается при движении с юга на север».
- 3) Борис: «Среднесуточная температура воздуха понижается с увеличением высоты местности».
- 4) Глеб: «Чем больше продолжительность дня, тем выше среднесуточная температура воздуха».

Ответ:

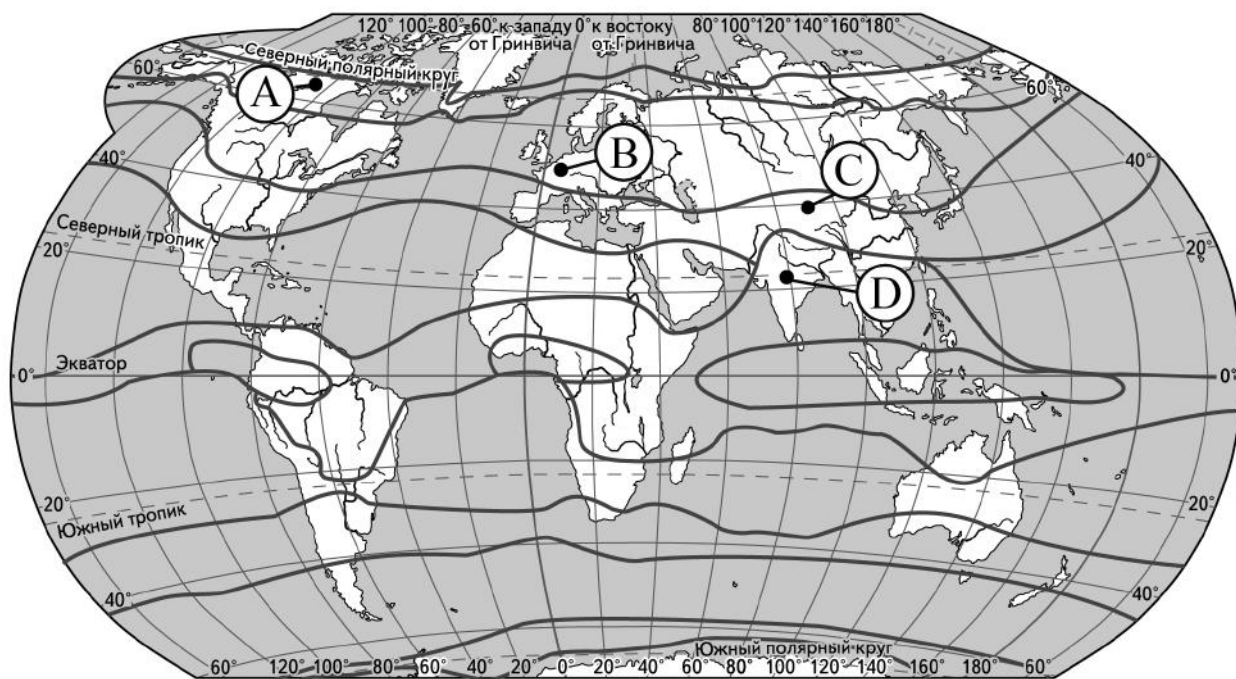
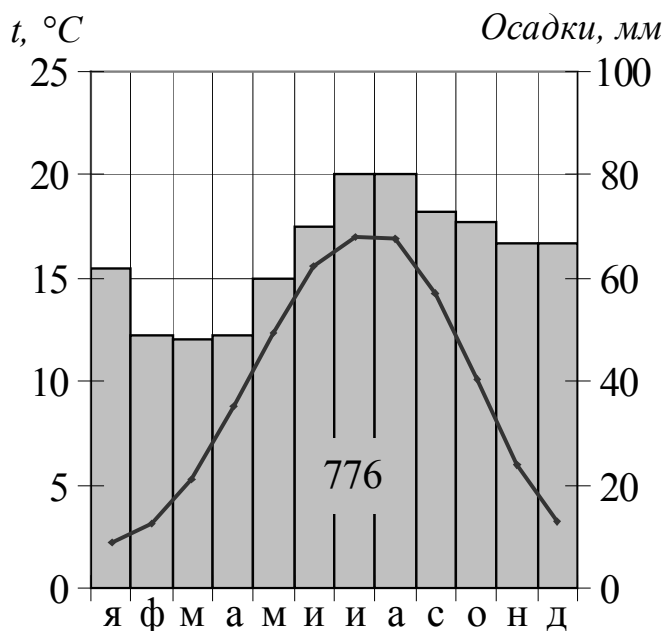
11

В каком из перечисленных городов 1 мая высота Солнца в полдень будет наименьшей?

- 1) Архангельск
- 2) Вологда
- 3) Уфа
- 4) Воронеж

Ответ:

- 12) Проанализируйте климатограмму и определите, какой буквой на карте обозначен пункт, характеристики климата которого отражены в климатограмме.



— границы климатических поясов

- 1) А                      2) В                      3) С                      4) D

Ответ:

13) Расположите регионы России в той последовательности, в которой их жители встречают Новый год. Запишите в таблицу получившуюся последовательность цифр.

- 1) Кемеровская область
- 2) Чувашская Республика
- 3) Камчатский край

Ответ:

--	--	--

14) Туристические фирмы разных регионов России разработали слоганы (рекламные лозунги) для привлечения туристов в свои регионы. Установите соответствие между слоганами и регионами: к каждому элементу первого столбца подберите соответствующий элемент из второго столбца.

СЛОГАНЫ

РЕГИОНЫ

- |   |  |
|---|--|
| А) Мы предлагаем сплав по реке Катунь, которая берёт начало в ледниках высочайшей горы Сибири.                                | 1) Новгородская область  |
| Б) Здесь можно любоваться красотой озера Ильмень, побывать в национальном парке Валдайский – жемчужине средней полосы России! | 2) Амурская область<br>3) Ставропольский край<br>4) Республика Алтай |

Запишите в таблицу выбранные цифры под соответствующими буквами.

Ответ:

А	Б

15) Какие два из перечисленных народов являются коренными жителями Северного Кавказа? Запишите в таблицу цифры, под которыми указаны эти народы.

- 1) буряты
- 2) марийцы
- 3) карачаевцы
- 4) осетины
- 5) тувинцы

Ответ:

--	--

**Не забудьте перенести ответы в бланк ответов № 1 в соответствии с инструкцией по выполнению работы. Проверьте, чтобы каждый ответ был записан рядом с правильным номером задания.**

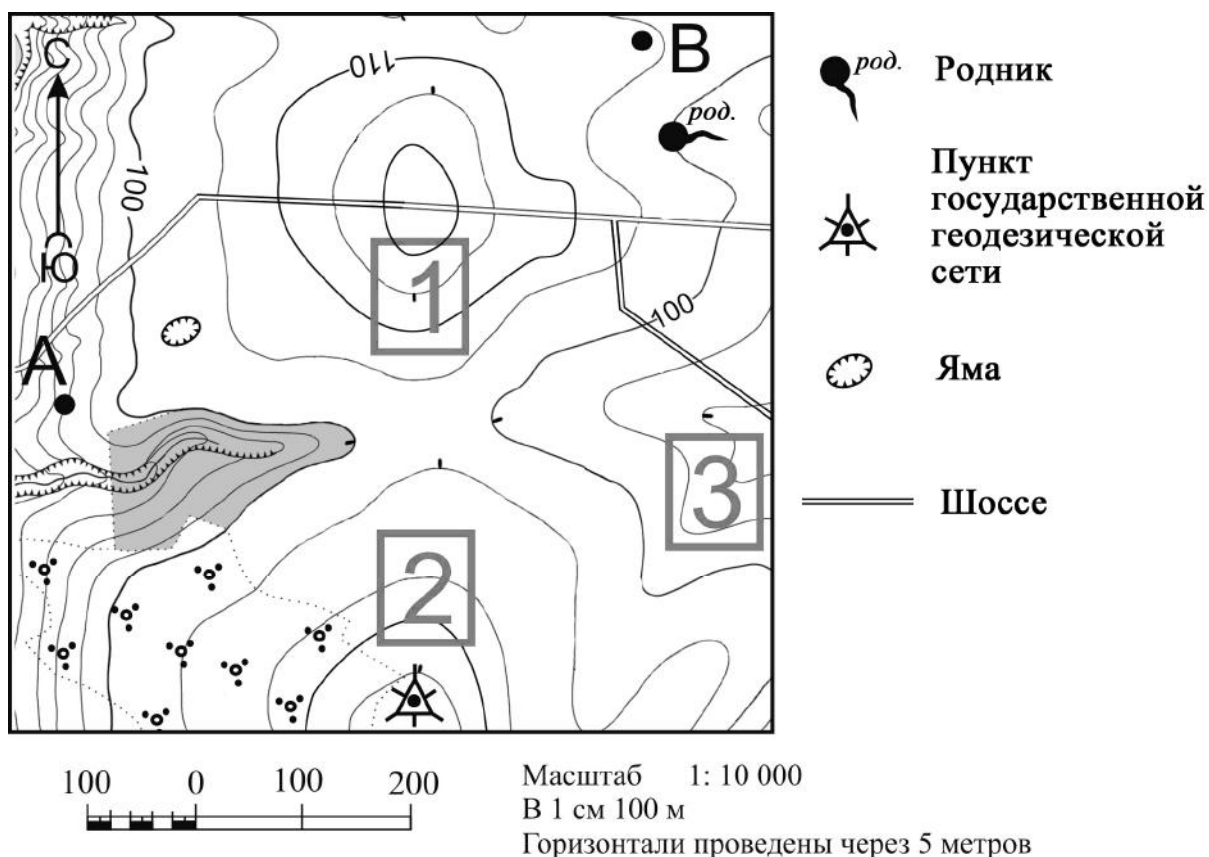


### Система оценивания проверочной работы по географии

Правильный ответ на каждое из заданий 1–6, 8–15 оценивается 1 баллом.

Номер задания	Правильный ответ
1	Китай; Китаем; КНР
2	2
3	Триполи
4	390; 400; 410; 420; 430
5	Ю-В; юго-восток; на юго-восток; в юго-восточном
6	3
8	34
9	12
10	2
11	1
12	2
13	312
14	41
15	34

#### Критерии оценивания выполнения задания с развёрнутым ответом



7

Фермер выбирает участок для закладки нового фруктового сада. Ему нужен участок, на котором весной рано сходит снег, а летом почва лучше всего прогревается солнцем. Он также должен иметь расположение, удобное для вывоза собранного урожая на консервный завод. Определите, какой из участков, обозначенных на карте цифрами 1, 2 и 3, больше всего отвечает указанным требованиям. Для обоснования Вашего ответа приведите два довода.

Содержание верного ответа и указания по оцениванию (допускаются иные формулировки ответа, не искажающие его смысла)	Баллы
В ответе говорится о том, что больше всего указанным требованиям отвечает 1) участок 1. В обосновании приведены следующие доводы: 2) участок находится близко к шоссе; 3) участок находится на склоне южной экспозиции	
Ответ включает в себя все три названных выше элемента	2
ИЛИ В ответе отсутствует 1-й элемент, но говорится, что больше всего указанным требованиям отвечает участок 3, <b>и</b> в обосновании приводится 2-й элемент. ИЛИ В ответе отсутствует 1-й элемент, но в нём верно указаны положение по отношению к шоссе и экспозиция склонов каждого из трёх обозначенных на карте участков	1
Все ответы, которые не соответствуют вышеуказанным критериям выставления оценок в 1 и 2 балла	0
<i>Максимальный балл</i>	2

### Система оценивания выполнения всей работы

Максимальный балл за выполнение работы – 16.

*Рекомендации по переводу первичных баллов в отметки по пятибалльной шкале*

Отметка по пятибалльной шкале	«2»	«3»	«4»	«5»
Первичные баллы	0–5	6–9	10–13	14–16