

# Олимпиада по окружающему миру.

4 класс.

## 1. Допиши названия.

Северный Ледовитый \_\_\_\_\_

Восточно – Европейская \_\_\_\_\_

Баренцево \_\_\_\_\_

Уральские \_\_\_\_\_

Западно – Сибирская \_\_\_\_\_

Чёрное \_\_\_\_\_

## 2. Как заканчиваются эти народные приметы?

а) Лягушка прыгает на берегу и квакает – к \_\_\_\_\_


б) Лошадь зимой ложится на снег – к \_\_\_\_\_

в) Кошка лижет хвост и прячет морду – к \_\_\_\_\_






г) Птицы купаются в пыли – к \_\_\_\_\_

## 3. Замени условными топографическими знаками выделенные в тексте слова.

*По узкой тропинке я пересёк луг и оказался около деревянного моста через реку. На другом берегу виднелся смешанный лес. Пройдя через заросли кустарника, я вышел на берег небольшого болота.*



## 4. На уроке окружающего мира ребята изучали состав почвы и ставили опыты. Допиши, наличие какого компонента доказывает каждый опыт.

		
1.	2.	3.
		
4.	5.	

## 5. К уроку окружающего мира ребята решили составить атлас-определитель растений, произрастающих на территории Пензенской области.

Прочитай список растений в таблице и отметь знаком  $\checkmark$  растения, которые можно выбрать для атласа.

№ п./п.	Название растения	Для атласа-определителя
1	Морошка приземистая	
2	Алоэ древовидное	
3	Клевер луговой	
4	Ковыль узколистный	
5	Хлопчатник травянистый	
6	Тысячелистник обыкновенный	
7	Венерин башмачок настоящий	

• Какие из выбранных тобой растений занесены в Красную Книгу Пензенской области? Напиши ответ.

Ответ: \_\_\_\_\_

• Какие из выбранных тобой растений являются ядовитыми? Напиши ответ.

Ответ: \_\_\_\_\_

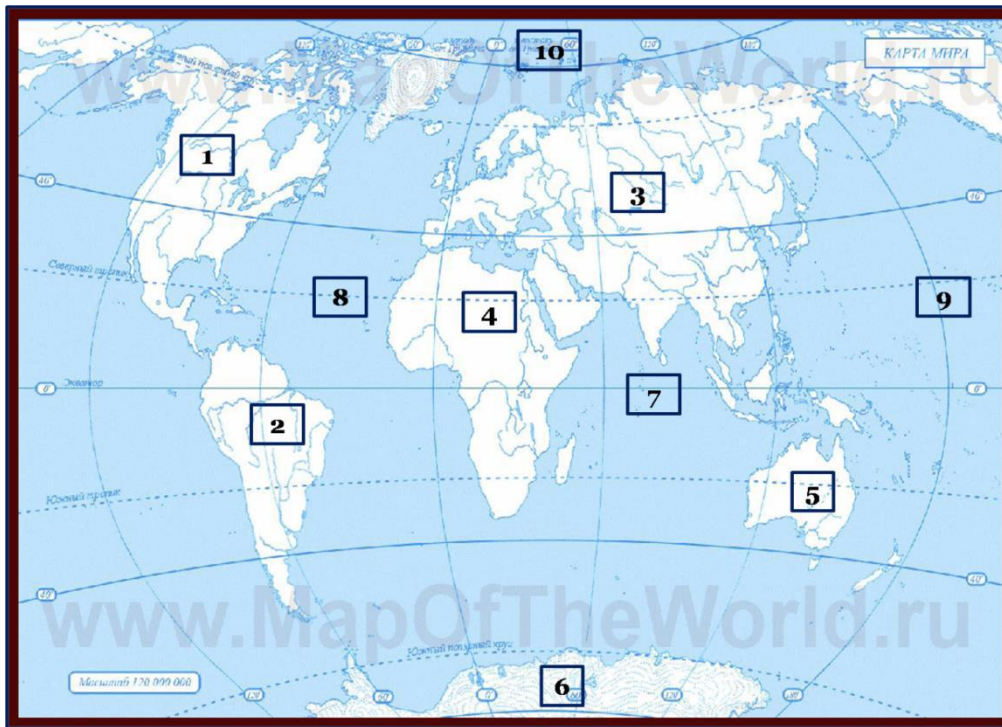
**6. Выбери каждой группе растений верную характеристику. Заполни таблицу ответов**

1. Водоросли	А. Растения этой группы имеют все части: корень, стебель, листья, цветки и плоды. Эти растения наиболее разнообразны.
2. Мхи	Б. У этих растений нет цветков и плодов. На месте плодов у них шишки, в которых созревают семена.
3. Папоротники	В. Это жители воды. Некоторых из них можно рассмотреть только в микроскоп. Другие похожи на длинные бурые ленты (например, морская капуста)
4. Хвойные растения	Г. Они растут во влажных местах. У них есть стебли и листья, но не бывает корней, цветков и плодов с семенами.
5. Цветковые растения	Д. У этих растений есть корни, стебли и листья, но нет цветков и плодов с семенами. Их легко узнать по красивым листьям, похожим на большие перья.

Таблица ответов.

1.	2.	3.	4.	5.

**7. На контурной карте мира подпиши все названия материков и океанов.**

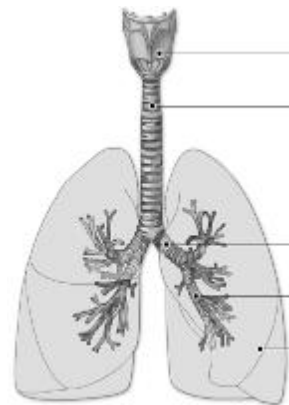
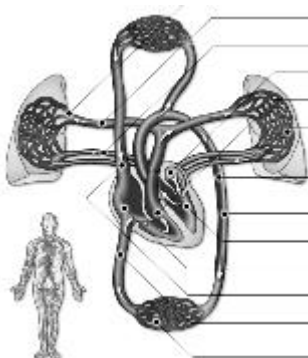


1 -	6 -
2 -	7 -
3 -	8 -
4 -	9 -
5 -	10 -

8. Вставьте на место пропусков числа: 600, 60-80, 70, 5-6, 200

1) В скелете взрослого человека более _____ костей.
2) В теле человека более _____ мышц.
3) В теле взрослого человека _____ литров крови
4) Пульс здорового человека _____ ударов в минуту.

9. Определи название систем органов, изображённых на рисунках.



\_\_\_\_\_

\_\_\_\_\_

\_\_\_\_\_

\_\_\_\_\_

**Установи соответствие между органами человека и их системами.**

**ОРГАНЫ ЧЕЛОВЕКА**

- 1) глотка, пищевод, желудок, печень - \_\_\_\_\_
- 2) почки, мочеточник, мочевой пузырь - \_\_\_\_\_
- 3) носовая полость, трахея, лёгкие - \_\_\_\_\_
- 4) сердце, сосуды - \_\_\_\_\_

**10. Не любят люди болота: комары, мошкара... Но в то же время экологи призывают охранять болота. Почему?**

---

---

---

---

---

---






---

---

---

---

## Ключ к оцениванию олимпиадных заданий по окружающему миру, 4 класс

№ задания	Правильный ответ	Оценивание	Максимальное количество баллов										
1.	Северный Ледовитый <b>океан</b> . Восточно – Европейская <b>равнина</b> . Баренцево <b>море</b> . Уральские <b>горы</b> . Западно – Сибирская <b>равнина</b> . Чёрное <b>море</b> .	За каждый правильный ответ 0,5б.	3 балла										
2.	а) к дождю б) к теплу в) морозу г) к ненастью (к дождю)	За каждый правильный ответ 0,5б.	2 балла										
3.	 луг  деревянный мост через реку  смешанный лес  кустарник  болото	За каждый правильный ответ 1 б.	5 баллов										
4.	Воздух Вода Перегной Песок и глина Минеральные соли	За каждый правильный ответ 1 б.	5 баллов										
5.	<u>Список растений: 3,4,6,7.</u>  В Красную книгу Пензенской области занесены: Ковыль узколистный, Венерин башмачок настоящий  Ядовитое растение - Венерин башмачок настоящий	За правильно подобранные растения – за каждый правильный ответ 1 б <b>За ответы на вопросы до 3 б.</b>	7 баллов										
6.	Задание 4. <table border="1" data-bbox="240 1928 874 2007"> <tr> <td>1.</td> <td>2.</td> <td>3.</td> <td>4.</td> <td>5.</td> </tr> <tr> <td>В</td> <td>Г</td> <td>Д</td> <td>Б</td> <td>А</td> </tr> </table>	1.	2.	3.	4.	5.	В	Г	Д	Б	А	За каждый правильный ответ 1 б	5 баллов
1.	2.	3.	4.	5.									
В	Г	Д	Б	А									
7.	1 – Северная Америка; 2 – Южная Америка; 3 – Евразия;	За каждый правильный ответ 0,5 б	5 баллов										

	<p>4 – Африка;  5 – Австралия;  6 – Антарктида;  7 – Индийский океан;  8 – Атлантический океан;  9 – Тихий океан;  10 – Северный Ледовитый океан.</p>		
8.	<p>1)В скелете взрослого человека более <b>600</b> костей.  2)В теле человека более <b>200</b> мышц.  3) В теле взрослого человека <b>5-6</b> литров крови.  4)Пульс здорового человека <b>60-80</b> ударов в минуту.</p>	<p>За каждый правильный ответ 0,5 б</p>	2 балла
9.	<p><i>а) Кровеносная система – 4) сердце, сосуды  б)Выделительная система – 2) почки, мочеточник, мочевой пузырь  в)Пищеварительная система – 1) глотка, пищевод, желудок, печень  г)Дыхательная система – 3) носовая полость, трахея, лёгкие</i></p>	<p>За каждый правильный ответ 0,5 б</p>	4 балла
10.	<p>Болота - кладовые запасы пресной воды. Когда много воды, они её забирают, а когда наступает засуха – отдают рекам. Без болот реки мелеют и пропадают</p>	3 балла	3 балла
			Всего-41 балл