

ИТОГОВАЯ РАБОТА ПО МАТЕМАТИКЕ ДЛЯ 1 КЛАССА

РЕГИСТРАЦИОННЫЕ ДАННЫЕ

Код региона

Код школы

Код класса

Код учащегося

Фамилия, Имя учащегося _____

ВАРИАНТ 1

1 10 9 11 8

2 16-9 Ответ:

--	--	--	--	--	--	--	--	--	--

3 13+6 Ответ:

--	--	--	--	--	--	--	--	--	--


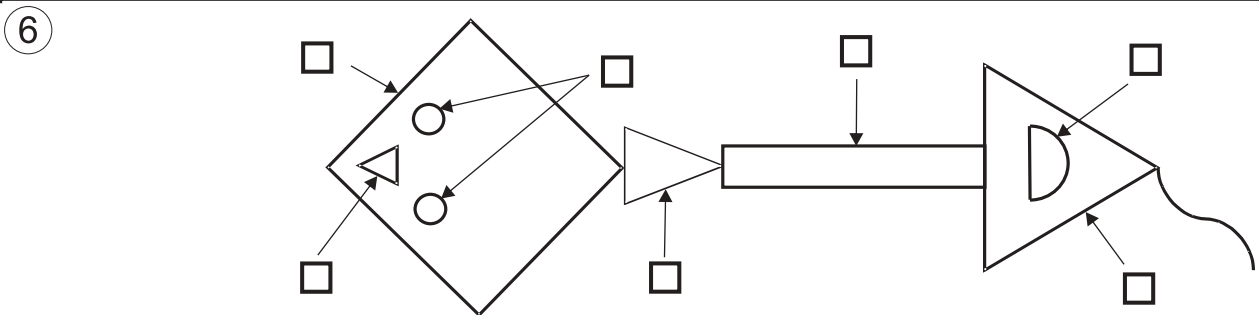
4

--	--	--	--	--	--	--	--	--	--

--	--	--	--	--

--	--	--	--

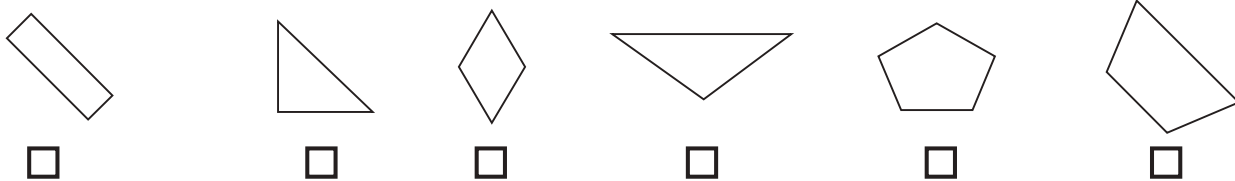
5 7 2 9 5



Решение:

--	--	--	--	--	--	--	--	--	--	--	--	--	--	--	--	--	--	--	--	--

8 Найди четырехугольники. Отметь их .



9 В доме Пети семь этажей. Дом Кати на два этажа ниже. Сколько этажей в доме Кати? Отметь ответ .

7 2 9 5

