

ЗАДАНИЕ 1 ОГЭ

1. Российский мореплаватель, адмирал Фердинанд (Фёдор) Петрович Врангель внес большой вклад в географическую науку. Он совершил три кругосветных путешествия, нанес на карту ряд географических объектов. Какой из перечисленных географических объектов назван в честь Ф.П. Врангеля?

- 1) пролив
- 2) полуостров
- 3) остров
- 4) хребет

2. Давид Ливингстон – английский исследователь Африки. С 1841 по 1873 г. он совершил многочисленные путешествия по внутренним районам Южной и Центральной Африки: провёл исследования реки Замбези, озер Чилва и Ньяса; участвовал в экспедициях в поисках истока Нила. Какой из перечисленных географических объектов назван в честь Д. Ливингстона?

- 1) остров
- 2) мыс
- 3) водопад
- 4) река

3. Абель Тасман внёс большой вклад в исследование

- 1) Аравийского полуострова
- 2) архипелага Новая Зеландия
- 3) полуострова Калифорния
- 4) архипелага Новая Земля

4. Фернан Магеллан – один из величайших мореплавателей на Земле. В XVI в. возглавляемая им экспедиция, отправившись из Европы на запад, впервые обнаружила путь из Атлантического океана в Тихий, пересекла этот самый большой океан и вернулась обратно в Европу с востока. Экспедиция выяснила, что большую часть Земли занимает не суша, а Мировой океан. Какой из перечисленных гидрографических объектов носит имя Ф. Магеллана?

- 1) море
- 2) река
- 3) пролив
- 4) залив

5. И.Ж. Кергелен – французский мореплаватель. В конце XVIII в. он совершил два плавания в южную часть Индийского океана в поисках мифического Южного материка. В 1772 г. два корабля Кергелена вышли с острова Маврикий и пошли курсом на юг. Вскоре Кергелен достиг земли, которую в условиях многодневной штормовой погоды хорошо обследовать не удалось, и Кергелен отбыл на Маврикий в уверенности, что он открыл центральную часть Южного материка. В 1773 г.

Создано ГЕОСОКОЛ: <https://vk.com/geosokolov>

была предпринята вторая экспедиция Кергелена, целью которой также было обнаружить Южный материк. Какой из перечисленных географических объектов на карте назван в честь И.Ж. Кергелена?

- 1) пролив
- 2) остров
- 3) море
- 4) залив

6. Фритъоф Нансен – норвежский полярный исследователь. В 1888 г. он совершил первый в истории лыжный переход через Гренландию. В 1893–1896 гг. Ф. Нансен на корабле «Фрам» осуществил дрейф через Северный Ледовитый океан от Новосибирских островов до архипелага Шпицберген. В результате экспедиции был собран обширный океанографический и метеорологический материал. Какой из перечисленных географических объектов Арктики назван в честь Ф. Нансена?

- 1) подводная котловина
- 2) залив
- 3) океаническое течение
- 4) море

7. Какой вклад в историю географических открытий и исследований внёс Давид Ливингстон?

- 1) Открыл и исследовал ряд островов Центральной Америки.
- 2) Совершил первое кругосветное путешествие.
- 3) Первым из европейцев достиг центральных районов Африки.
- 4) Открыл архипелаг Новая Зеландия и исследовал северо-западное побережье Австралии.

8. Джордж Ванкувер – английский мореплаватель XVIII в. Экспедиции под командованием Дж. Ванкувера исследовали тихоокеанское побережье Южной и Северной Америки. Какой из перечисленных географических объектов назван в честь этого мореплавателя?

- 1) море
- 2) канал
- 3) остров
- 4) течение

9. Кто из перечисленных мореплавателей – один из первооткрывателей Антарктиды?

- 1) Абель Тасман
- 2) Фаддей Беллинсгаузен
- 3) Джеймс Кук
- 4) Витус Беринг

Создано ГЕОСОКОЛ: <https://vk.com/geosokolov>

10. Христофор Колумб – один из величайших мореплавателей в истории человечества. Географические открытия, совершённые Х. Колумбом в Америке в ходе четырёх экспедиций (1492–1504 гг.), имели всемирно-историческое значение. Имя Х. Колумба носят многие географические объекты Америки. Какой из перечисленных объектов Южной Америки носит имя этого мореплавателя?

- 1) море
- 2) государство
- 3) пролив
- 4) залив

11. Витус Беринг – великий российский мореплаватель и исследователь, в 1725–1730 гг. возглавил Первую Камчатскую экспедицию, целью которой были поиски сухопутного перешейка между Азией и Америкой, а в 1733–1741 гг. руководил Великой Северной экспедицией. Экспедиция В. Беринга пересекла Тихий океан, достигла побережья Аляски. Какой из перечисленных географических объектов назван в честь В. Беринга?

- 1) вулкан
- 2) полуостров
- 3) водопад
- 4) море

12. Абель Тасман – известный голландский мореплаватель. Благодаря исследованиям А. Тасмана в XVII столетии на карте мира стало заметно меньше белых пятен. Имя этого выдающегося мореплавателя осталось на географической карте. Какой из перечисленных гидрографических объектов носит имя этого исследователя?

- 1) море
- 2) река
- 3) пролив
- 4) равнина

13. Какой вклад в историю географических открытий и исследований внёс Абель Тасман?

- 1) Открыл и исследовал острова Центральной Америки.
- 2) Совершил первое кругосветное путешествие.
- 3) Первым из европейцев достиг центральных районов Африки.
- 4) Открыл архипелаг Новая Зеландия и исследовал северо-западное побережье Австралии.

14. Кто из перечисленных мореплавателей – первооткрыватель Америки для европейцев?

- 1) Христофор Колумб
- 2) Фернан Магеллан
- 3) Васко да Гама
- 4) Америго Веспуччи

15. Михаил Петрович Лазарев – русский мореплаватель. 28 января 1820 г. на шлюпах «Восток» (под командованием Ф.Ф. Беллинсгаузена) и «Мирный» (под командованием М.П. Лазарева) российские моряки первыми достигли берегов Антарктиды. Какой из перечисленных географических объектов в Антарктике носит имя М.П. Лазарева?

- 1) течение
- 2) пролив
- 3) море
- 4) полуостров

16. Какой вклад в историю географических открытий и исследований внёс Джеймс Кук?

- 1) Исследовал и нанёс на карту восточное побережье Австралии.
- 2) Первым из европейцев достиг берегов Северной Америки.
- 3) Совершил первое кругосветное путешествие.
- 4) Первым из европейцев достиг берегов Индии.

17. Какой мореплаватель командовал экспедицией, совершившей первое кругосветное плавание?

- 1) Васко да Гама
- 2) Фернан Магеллан
- 3) Христофор Колумб
- 4) Джеймс Кук

18. Какую из перечисленных карт нужно использовать, чтобы определить среднюю температуру воздуха в июле на побережье Средиземного моря?

- 1) растительности
- 2) климатическую
- 3) природных зон
- 4) физическую

19. Ж-Ф. Лаперуз – великий французский мореплаватель. В конце XVIII в. он возглавил кругосветную морскую экспедицию, целью которой было упорядочивание открытий, сделанных Джеймсом Куком в Тихом океане, и «снискание дружбы вождей далёких племен». Он обогатил географические и этнографические знания европейцев о малоизученных землях, прежде всего о побережье Дальнего Востока, Сахалине и Курильских островах. Какой из перечисленных географических объектов носит имя Ж-Ф. Лаперуза?

- 1) пролив
- 2) город
- 3) море
- 4) течение

Создано ГЕОСОКОЛ: <https://vk.com/geosokolov>

20. Ф.П. Врангель – известный российский мореплаватель и полярный исследователь, автор классического сочинения «Путешествия по северным берегам Сибири по Ледовитому морю, совершённые в 1802, 21, 22, 23 и 24 годах». В 1820–1824 гг. руководил экспедицией, описавшей побережье Сибири от реки Индигирка до Колючинской губы. Какой из перечисленных географических объектов носит имя Ф.П. Врангеля?

- 1) полуостров
- 2) течение
- 3) остров
- 4) море

21. Российские морские офицеры Дмитрий и Харитон Лаптевы внесли значительный вклад в географическую науку, нанесли на карту ряд географических объектов. Какой из перечисленных географических объектов назван в их честь?

- 1) полуостров
- 2) остров
- 3) море
- 4) хребет

22. Карты какого географического района России необходимо выбрать, чтобы точнее определить местоположение Челябинска?

- 1) Центральная Россия
- 2) Поволжье
- 3) Западная Сибирь
- 4) Урал

23. У истоков освоения Арктики и Северного морского пути стояли Д. и Х. Лаптевы. Их вклад в исследование таинственной ледяной пустыни и тундровой зоны, в результате которого на карту были нанесены ранее неизвестные реки и моря, острова и архипелаги, открыты морские и речные пути, получил достойную оценку. Какой из перечисленных географических объектов назван в память братьев Д. и Х. Лаптевых?

- 1) залив
- 2) море
- 3) архипелаг
- 4) полуостров

24. Карты какого географического района России необходимо выбрать, чтобы изучить географические особенности Нижегородской области?

- 1) Урала
- 2) Центральной России
- 3) Севера Европейской части России

4) Юга Европейской части России

25. Джордж Ванкувер – английский мореплаватель и исследователь XVIII столетия. Экспедиции под командованием Ванкувера исследовали западное побережье Южной Америки и Сандвичевы острова. Наибольший вклад этот мореплаватель внёс в исследования тихоокеанского побережья Северной Америки. Какой из перечисленных географических объектов Северной Америки назван в честь Дж. Ванкувера?

- 1) море
- 2) канал
- 3) город
- 4) течение

26. Джон Девис – английский мореплаватель, исследователь Арктики. Возглавляя экспедицию, целью которой было открытие Северо-Западного морского пути в Тихий океан, в 1585–1586 гг. он исследовал юго-восточное побережье Гренландии, юго-восточное побережье Баффиновой Земли, открыл там крупный полуостров (Холл), миновал «Бешеный водоворот» (вход в Гудзонов пролив). Он прошел вдоль Атлантического побережья Лабрадора до 52° с.ш., достиг Баффиновой Земли. Какой из перечисленных географических объектов назван в честь Дж. Девиса?

- 1) залив
- 2) пролив
- 3) море
- 4) течение

27. Карты какого географического района России необходимо выбрать, чтобы более детально изучить регион, в котором расположен Норильск?

- 1) Европейского Севера
- 2) Урала
- 3) Западной Сибири
- 4) Восточной Сибири

28. П.Ф. Анжу – русский исследователь Арктики. В 1820 г. был назначен руководителем экспедиции, целью которой было исследование северного побережья Сибири. В 1821–1823 гг. П.Ф. Анжу дал описание и составил карту Новосибирских островов. Также он исследовал северное побережье Сибири между реками Оленек и Индигирка. Какой из перечисленных географических объектов на карте России назван в честь П.Ф. Анжу?

- 1) хребет
- 2) пролив
- 3) острова
- 4) залив

Создано ГЕОСОКОЛ: <https://vk.com/geosokolov>

29. Кто из мореплавателей командовал экспедицией, совершившей первое кругосветное путешествие?

- 1) Христофор Колумб
- 2) Фернан Магеллан
- 3) Васко да Гама
- 4) Америго Веспуччи

30. У. Баффин – английский мореплаватель, исследователь Арктики. В ходе экспедиции, целью которой было открытие Северо-Западного морского пути в Тихий океан, он исследовал западное побережье Гренландии. В 1615 г. на корабле «Дискавери» исследовал большой залив, впоследствии названный морем Баффина. Какой из перечисленных географических объектов также назван в честь этого мореплавателя?

- 1) полуостров
- 2) течение
- 3) пролив
- 4) остров

31. Л.В. де Торрес (1560–1614 гг.) – известный мореплаватель, капитан одного из трёх кораблей испанской экспедиции, снаряжённой на поиски легендарного Южного материка. Во время этого плавания корабли Торреса впервые пересекли Коралловое море, достигли юго-восточной оконечности Новой Гвинеи. Торрес установил, что Новая Гвинея не является частью Южного материка, а представляет собой огромный остров. В честь Торреса названы острова в северной части архипелага Новые Гебриды, к юго-востоку от Новой Гвинеи. Какой ещё географический объект, открытый испанским мореплавателем Торресом, также назван в его честь?

- 1) течение
- 2) мыс
- 3) пролив
- 4) полуостров

32. Какую карту Европы необходимо взять, чтобы определить глубины вод Северного моря?

- 1) физическую
- 2) экономическую
- 3) политическую
- 4) природных зон

33. Карты какого географического района России необходимо выбрать, чтобы более детально изучить территорию Ростовской области?

- 1) Европейского Юга
- 2) Урала
- 3) Поволжья

4) Центральной России

34. Какую из перечисленных карт нужно использовать, чтобы определить среднюю температуру воздуха в январе на юге Австралии?

- 1) физическую
- 2) почвенную
- 3) климатическую
- 4) природных зон

35. Карты какого географического района России необходимо выбрать, чтобы определить местоположение Нижегородской области?

- 1) Центральной России
- 2) Европейского Севера
- 3) Урала
- 4) Европейского Юга

36. И.Д. Черский – выдающийся исследователь Южной, Восточной и Северо-Восточной Сибири, Крайнего Севера и Дальнего Востока. В 1891 г. Черский возглавил экспедицию в малоизвестный район бассейнов рек Колыма и Индигирка. В его донесениях из Верхнеколымска и Якутска было много новых данных о жизни и обычаях местного населения, о следах прежнего оледенения, о рельефе исследуемой территории. Какой из перечисленных географических объектов назван в честь И.Д. Черского?

- 1) остров
- 2) пролив
- 3) море
- 4) хребет

37. Д.Я. Лаптев – русский мореплаватель и исследователь Арктики – с 1736 г. руководил отрядом Великой Северной экспедиции по изучению побережья на восток от реки Лены. Донесения и отчёты Д.Я. Лаптева содержат ценные сведения по истории Великой Северной экспедиции, этнографическое, историческое и хозяйственное описание районов Северо-Востока России. Какой из перечисленных географических объектов назван в честь Д.Я. Лаптева?

- 1) остров
- 2) пролив
- 3) течение
- 4) полуостров

38. Г.И. Шелихов – русский мореплаватель, промышленник и купец. В 1783 г. в Охотске он организовал разведывательную экспедицию, целью которой был поиск новых островов с лежбищами морского зверя. В 1783–1786 гг. Г.И. Шелихов исследовал северную часть Тихого океана, организовал коммерческое торговое судоходство между Курильской и Алеутской

Создано ГЕОСОКОЛ: <https://vk.com/geosokolov>

островными грядами. Какой из перечисленных географических объектов на карте России носит имя этого мореплавателя?

- 1) залив
- 2) течение
- 3) вулкан
- 4) море

39. Уильям Баффин – английский мореплаватель, исследователь Арктики. В ходе экспедиции, целью которой было открытие Северо-Западного морского пути из Атлантического в Тихий океан, он исследовал западное побережье Гренландии. В 1615 г. его экспедицией были открыты полуостров Хейс в Гренландии, большие участки островов Элсмир и Девон в Канадском Арктическом архипелаге. Какой из перечисленных географических объектов на карте Северной Америки назван в честь У. Баффина?

- 1) залив
- 2) пролив
- 3) море
- 4) мыс

40. С.И. Дежнёв – русский землепроходец, мореплаватель. В 1638–1648 гг. он принимал участие в речных и сухопутных походах в бассейнах рек Яна и Колыма. В 1648 г. промысловая экспедиция во главе с С.И. Дежнёвым и Ф.А. Поповым обогнула Чукотский полуостров и достигла Анадырского залива. Так был открыт пролив между двумя континентами, который впоследствии был назван Беринговым. Какой из перечисленных географических объектов назван в честь С.И. Дежнёва?

- 1) море
- 2) остров
- 3) залив
- 4) мыс

41. Карты какого географического района России необходимо выбрать, чтобы изучить географические особенности Кемеровской области?

- 1) Урала
- 2) Поволжья
- 3) Западной Сибири
- 4) Севера Европейской части России

42. Карты какого географического района России необходимо выбрать, чтобы более детально изучить регион, в котором расположен г. Черемхово Иркутской области?

- 1) Северо-Запада
- 2) Западной Сибири

- 3) Урала
- 4) Восточной Сибири

43. Картами какого географического района нужно воспользоваться для того, чтобы определить местоположение г. Нижний Новгород?

- 1) Европейского Юга
- 2) Урала
- 3) Европейского Севера
- 4) Центральной России

44. Ф.Ф. Беллинсгаузен – российский исследователь и мореплаватель. В 1819–1821 гг. Ф.Ф. Беллинсгаузен возглавил кругосветную экспедицию к Южному полюсу. В 1820 г. на шлюпах «Восток» (под командованием Ф.Ф. Беллинсгаузена) и «Мирный» (под командованием М.П. Лазарева) российские моряки первыми достигли берегов Антарктиды. Какой из перечисленных географических объектов назван в честь Ф.Ф. Беллинсгаузена?

- 1) море
- 2) река
- 3) пролив
- 4) течение

45. Карты какого географического района России необходимо выбрать, чтобы определить местоположение г. Ярославля?

- 1) Урала
- 2) Поволжья
- 3) Европейского Юга
- 4) Центральной России

46. Какую из перечисленных карт нужно использовать, чтобы определить среднегодовое количество атмосферных осадков?

- 1) природных зон
- 2) климатическую
- 3) тектоническую
- 4) физическую

47. Руал Амундсен – известный норвежский исследователь Антарктиды и Арктики. Он первым прошёл Северо-Западным путем от Гренландии к Аляске и определил положение Северного магнитного полюса. В 1926 г. Р. Амундсен совершил перелёт на дирижабле «Норвегия» по маршруту Шпицберген – Северный полюс – Аляска. Имя норвежского путешественника носят море в Тихом океане, гора в Восточной Антарктиде, залив около берегов Канады. Какой из перечисленных географических объектов на карте Арктики также назван в честь Р. Амундсена?

Создано ГЕОСОКОЛ: <https://vk.com/geosokolov>

- 1) подводная котловина
- 2) остров
- 3) пролив
- 4) океаническое течение

48. Джеймс Уэдделл – английский зверобой-промышленник, исследователь Антарктики. Уэдделл командовал судном «Джейн», совершившим в 1819–1823 гг. три антарктических плавания. Он описал острова Южная Георгия, Южные Оркнейские острова и дал некоторые сведения о Южных Шетландских островах. Какой из перечисленных географических объектов на карте Антарктиды назван в честь Дж. Уэдделла?

- 1) залив
- 2) пролив
- 3) море
- 4) мыс

49. Б.А. Вилькицкий занимался гидрографическими исследованиями. В 1914–1915 гг. он возглавлял экспедицию, целью которой было прохождение Северного морского пути от Камчатки до Архангельска. В ходе экспедиции был открыт громадный архипелаг из четырех больших островов, впоследствии названный Северной Землей. Имя этого выдающегося мореплавателя осталось на географической карте. Какой из перечисленных географических объектов на карте России назван в честь Б.А. Вилькицкого?

- 1) море
- 2) пролив
- 3) озеро
- 4) полуостров

50. Карты какого географического района России необходимо выбрать, чтобы подробнее изучить территорию Воронежской области?

- 1) Поволжья
- 2) Центральной России
- 3) Северо-Запада России
- 4) Урала

51. Витус Беринг – великий мореплаватель и исследователь, в 1725–1730 гг. возглавил Первую Камчатскую экспедицию, целью которой были поиски сухопутного перешейка между Азией и Америкой. В 1733–1741 гг. принял участие во Второй Камчатской экспедиции. На корабле «Святой Пётр» В. Беринг пересёк Тихий океан, достиг побережья полуострова Аляски. Какой из перечисленных географических объектов назван в честь В. Беринга?

- 1) вулкан
- 2) полуостров

- 3) пролив
- 4) водопад

52. Руал Амундсен – известный норвежский исследователь Арктики и Антарктиды: одним из первых прошёл Северо-Западным путём от Гренландии к Аляске и определил положение Северного магнитного полюса. 14 декабря 1911 г. он первым достиг Южного полюса Земли. Какой из перечисленных гидрографических объектов назван в честь этого исследователя?

- 1) море
- 2) река
- 3) пролив
- 4) озеро

53. У. Баффин – английский мореплаватель, исследователь Арктики. В составе экспедиции, целью которой было открытие Северо-Западного морского пути из Атлантического в Тихий океан, он исследовал западное побережье Гренландии. В 1615 г. на корабле «Дискавери» экспедиция исследовала Гудзонов залив и восточное побережье острова Саутгемптон. В результате плавания были открыты полуостров Хейс в Гренландии, острова в Канадском Арктическом архипелаге, один из которых назван в честь Баффина. Какой из перечисленных географических объектов на карте Северной Америки также носит имя этого исследователя? 1) хребет

- 2) пролив
- 3) море
- 4) водопад

54. Какую карту необходимо взять для того, чтобы определить направление преобладающих ветров?

- 1) физическую
- 2) климатическую
- 3) природных зон
- 4) сейсмических поясов

55. Какую карту Евразии необходимо выбрать для того, чтобы изучить направление ветров в июле?

- 1) физическую
- 2) политическую
- 3) климатическую
- 4) природных зон

56. Карты какого географического района России необходимо выбрать, чтобы подробнее изучить местоположение Оренбургской области?

- 1) Западной Сибири
- 2) Урала

Создано ГЕОСОКОЛ: <https://vk.com/geosokolov>

- 3) Европейского Севера
- 4) Восточной Сибири

57. Карты какого географического района необходимо выбрать, чтобы изучить географические особенности Ленинградской области?

- 1) Урала
- 2) Северо-Запада России
- 3) Юга Европейской части России
- 4) Поволжья

58. Карты какого географического района России необходимо выбрать, чтобы определить местоположение Омской области?

- 1) Урала
- 2) Западной Сибири
- 3) Восточной Сибири
- 4) Поволжья

59. ООО «ССМ – Тяжмаш», расположенное в г. Череповце Вологодской области, – одно из ведущих машиностроительных предприятий России. Оно было создано в 2002 г. В настоящее время ООО «ССМ – Тяжмаш» является предприятием полного цикла – от мощного литейного цеха и цеха металлоконструкций до современного механообрабатывающего и сборочного производств. Предприятие производит запчасти и оборудование для чёрной металлургии – доменного, сталеплавильного и прокатного производств. Карты какого географического района России необходимо выбрать, чтобы более детально изучить географические особенности Вологодской области?

- 1) Центральной России
- 2) Урала
- 3) Поволжья
- 4) Европейского Севера

60. Лебедянский сахарный завод (Липецкая область) – один из крупных сахарных заводов в регионе. Модернизация сахарного завода позволила увеличить его мощность и создать практически полностью безотходное производство. В настоящее время на современном оборудовании производится несколько видов сахара. Карты какого географического района России необходимо выбрать, чтобы более детально изучить регион, в котором расположена Липецкая область?

- 1) Урала
- 2) Центральной России
- 3) Поволжья
- 4) Европейского Юга

61. Производственное объединение «Гормаш», расположенное в г. Киселёвск (Кемеровская область), является одним из самых известных в стране производителей горно-шахтного оборудования. Год за годом завод показывает уверенную динамику развития, предприятие обеспечено заказами на несколько лет вперёд. Карты какого географического района России необходимо выбрать, чтобы более детально изучить географическое положение Кемеровской области?

- 1) Европейского Севера
- 2) Урала
- 3) Сибири
- 4) Дальнего Востока

62. В 2012 г. в Белореченском районе Краснодарского края состоялся ввод в эксплуатацию предприятия по производству соков и сокосодержащих напитков. Проектная мощность нового предприятия – 250 млн литров сока в год. Карты какого географического района России необходимо выбрать, чтобы более детально изучить регион, в котором расположен Белореченский район?

- 1) Поволжья
- 2) Европейского Юга
- 3) Урала
- 4) Центральной России

63. В 2012 г. в Астрахани при участии Московского трубозаготовительного комбината и предприятия «Балластные трубопроводы СВАП» был открыт производственно-логистический комплекс «СВАП-Юг». К началу 2013 г. новый завод «СВАП-Юг» произвёл первые 55 км труб для подводных трубопроводов с утяжеляющим защитным балластным покрытием, которые востребованы в одной из отраслей промышленности. Конструкции, которые производят в Астрахани по российским инновационным технологиям с использованием российских материалов, отличаются от зарубежных аналогов большей прочностью и экологичностью. Карты какого географического района России необходимо выбрать, чтобы определить местоположение г. Астрахани?

- 1) Поволжья
- 2) Северо-Запада
- 3) Урала
- 4) Центральной России

64. В деревне Чудцы Бокситогорского района Ленинградской области состоялось открытие первой очереди деревообрабатывающего комплекса ООО «ММ-Ефимовское». Новый завод по производству досок толщиной от 13 до 100 мм разместился на территории площадью 24 га. Карты

Создано ГЕОСОКОЛ: <https://vk.com/geosokolov>

какого географического района России необходимо выбрать, чтобы более детально изучить местоположение Бокситогорского района Ленинградской области?

- 1) Поволжья
- 2) Северо-Запада
- 3) Европейского Севера
- 4) Центральной России

65. В начале 2009 г. в Сахалинской области в рамках проекта «Сахалин-2» был открыт первый в России завод по сжижению природного газа. На Сахалине удалось, с одной стороны, сохранить природу, а с другой – создать одно из самых современных и высокотехнологичных в мире производств. Какую из перечисленных карт необходимо выбрать, чтобы определить среднюю глубину Охотского моря, на шельфе которого ведется добыча природного газа?

- 1) тектоническую
- 2) геологическую
- 3) физическую
- 4) топливной промышленности

66. По данным, полученным с искусственного спутника Земли, 14 сентября в открытом океане в районе с координатами 20° с.ш. 135° в.д. зародился тропический циклон. По предварительным расчётам синоптиков, циклон будет смещаться на север-северо-запад и к вечеру 17 сентября подойдёт к южной оконечности Корейского полуострова. Синоптики отработывают несколько версий его дальнейшего перемещения. В случае необходимости предупреждение об опасности данного циклона для российской территории будет распространено 17 сентября. Какую из перечисленных карт можно выбрать для того, чтобы подробнее изучить возможный путь перемещения упомянутого в тексте циклона?

- 1) Африки
- 2) Евразии
- 3) Южной Америки
- 4) Северной Америки

67. Кислогубская ПЭС, единственная в России экспериментальная приливная электростанция, расположенная в Мурманской области, в 2004 г. после 10-летнего простоя вновь введена в эксплуатацию. Приливная энергетика в экологическом плане является одной из самых чистых. Карты какого географического района России необходимо выбрать, чтобы более детально изучить регион, в котором расположена Кислогубская ПЭС?

- 1) Европейского Севера
- 2) Дальнего Востока
- 3) Западной Сибири
- 4) Восточной Сибири

Создано ГЕОСОКОЛ: <https://vk.com/geosokolov>

68. В г. Карабулак (Республика Ингушетия) запущен крупнейший в России мукомольный комбинат. Производственная мощность предприятия – 2400 т переработки зерна в сутки. Инвестиции ООО в новое предприятие составили 3,3 млрд рублей. С запуском предприятия на полную мощность будет создано более 500 рабочих мест. Карты какого географического района России необходимо выбрать, чтобы более детально изучить регион, в котором расположен г. Карабулак?

- 1) Урала
- 2) Европейского Юга
- 3) Поволжья
- 4) Западной Сибири

69. Братский алюминиевый завод (БрАЗ) – один из крупнейших в мире производителей алюминия. Алюминий выплавляют из сырья (глинозёма), завозимого как из других промышленных центров России, так и из-за рубежа. Более 9/10 производимой продукции экспортируется в десятки стран мира. Город Братск расположен на реке Ангара, а значит, хорошо обеспечен водными ресурсами. Решение о размещении алюминиевого завода-гиганта именно в Братске было принято с учётом этой особенности природно-ресурсной базы, а также с учётом особенностей ЭГП и промышленности г. Братска. Карты какого географического района России необходимо выбрать, чтобы изучить территорию, на которой расположен БрАЗ?

- 1) Поволжья
- 2) Урала
- 3) Восточной Сибири
- 4) Западной Сибири

70. Пермский завод горно-шахтного машиностроения (в настоящее время ОАО «НПО Горнефтемаш») – это мощный комплекс по производству сложной техники для горнодобывающей промышленности. Завод производит такие крупногабаритные механизмы, как тележки на гусеничном ходу для перевозки нефтяных вышек, шахтные вагонетки, породоразгрузочные машины. Продукция завода пользуется спросом не только в самом регионе и внутри страны, но и активно экспортируется во многие страны мира. Карты какого географического района России необходимо выбрать, чтобы более детально изучить географические особенности Пермского края?

- 1) Европейский Север
- 2) Поволжье
- 3) Западная Сибирь
- 4) Урал

71. ОАО «Пиломатериалы «Красный Октябрь» (г. Пермь) запустило новый деревообрабатывающий комплекс. Масштабная модернизация производственных мощностей была завершена в мае 2013 г., её ключевым этапом стала установка лесопильного комплекса шведской компании, увеличившего производственную мощность «Красного Октября» в 2,5 раза. В настоящее время

Создано ГЕОСОКОЛ: <https://vk.com/geosokolov>

производительность предприятия - свыше 6 тысяч кубометров пиломатериалов ежемесячно.

Карты какого географического района России необходимо выбрать, чтобы более детально изучить регион, в котором расположен г. Пермь? 1) Урала

2) Западной Сибири

3) Центральной России

4) Поволжья

72. Свой новый лыжный поход мы решили организовать по Приполярному Уралу. Учитывая, что время для проведения лыжных походов здесь ограничено – с марта по начало мая, решили пойти в марте. Высота снежного покрова к концу зимы на западных склонах гор – 110 см, на восточных – 50-60 см и меньше. С подъёмом в горы высота снежного покрова увеличивается. Начать путешествие мы решили, доехав на поезде до Воркуты или Инты. Карту какого из перечисленных субъектов Российской Федерации необходимо выбрать для того, чтобы подробнее изучить территорию, о которой говорится в тексте?

1) Республика Коми

2) Архангельская область

3) Мурманская область

4) Республика Карелия

73. ООО «РН-Туапсинский НПЗ» – нефтеперерабатывающий завод, расположенный в г. Туапсе (Краснодарский край), специализирующийся на выпуске моторного топлива. Мощность предприятия составляет 4,5 млн т. (32,2 млн барр.) нефти в год. Завод перерабатывает западносибирскую нефть, которая поставляется по системе трубопроводов, а также нефть, добываемую на Юге России и поставляемую на НПЗ по трубопроводам и железнодорожным транспортом. Большая часть продукции завода (около 90%) поставляется на экспорт. Оставшаяся часть нефтепродуктов реализуется на внутреннем рынке. В октябре 2013 г. на заводе состоялся запуск крупнейшей в России установки первичной переработки нефти. Карты какого географического района России необходимо выбрать, чтобы более детально изучить регион, в котором расположен указанный в тексте НПЗ?

1) Урала

2) Европейского Юга

3) Поволжья

4) Центральной России

74. 20 апреля 2010 г. на нефтяной платформе в 80 километрах от берегов американского штата Луизиана произошел взрыв, 22 апреля платформа затонула. В результате происшествия была повреждена скважина, из которой в океан начала вытекать нефть. Предотвратить попадание нефти на побережье Мексиканского залива не удалось. Часть разлившейся нефти достигла устья Миссисипи. В каком заливе произошла утечка нефти?

1) Мексиканском

Создано ГЕОСОКОЛ: <https://vk.com/geosokolov>

- 2) Калифорнийском
- 3) Аляска
- 4) Гудзоновом

75. Производство калийных удобрений в России развито в городе Соликамске. В настоящее время Соликамский калийный комбинат входит в состав ОАО «Уралкалий», который является вторым по величине производителем калийных удобрений в мире. В ОАО «Уралкалий» принята инвестиционная программа по расширению производства, реализация которой позволит увеличить производственные мощности компании примерно на 80% – до 19 млн т удобрений в 2021 году. Близость новых проектов к действующим производствам даст возможность использовать существующую инфраструктуру. Карты какого региона необходимо выбрать, чтобы более детально изучить местоположение г. Соликамск?

- 1) Свердловской области
- 2) Пермского края
- 3) Оренбургской области
- 4) Республики Башкортостан

76. В 2005 г. газета «Время новостей» сообщила о том, что в инвестиционный фонд России поступила первая заявка на финансирование инфраструктуры для реализации проекта развития Нижнего Приангарья. Проект включал в себя достройку Богучанской ГЭС и строительство рядом с ней алюминиевого завода, а также возведение на берегу Ангары целлюлозно-бумажного комбината. Планировалось создание линий электропередачи от Богучанской ГЭС до алюминиевого завода, ЦБК и магистральных электросетей, железнодорожной ветки от Карабулы до Ярков, автомобильного моста в районе Ярков. Карты какого географического района России необходимо выбрать, чтобы определить местоположение Нижнего Приангарья?

- 1) Европейского Севера
- 2) Поволжья
- 3) Западной Сибири
- 4) Восточной Сибири

77. В 2006 г. в России в г. Саяногорске (Республика Хакасия) был открыт новый алюминиевый завод. Мощность завода составляет 300 тыс. тонн алюминия в год. Карты какого географического района необходимо использовать, чтобы более детально изучить местоположение г. Саяногорск?

- 1) Европейский Север
- 2) Западная Сибирь
- 3) Урал
- 4) Восточная Сибирь

78. В 2012 г. в Хабаровском крае открылся завод по производству строганых пиломатериалов СП «Аркаим». Мощность предприятия составляет около 180 тыс. м³ продукции в год. Завод по

Создано ГЕОСОКОЛ: <https://vk.com/geosokolov>

производству строганых пиломатериалов – один из шести, которые будут сооружены в регионе в ближайшее время. В числе других объектов – заводы по производству топливных гранул, клеёного бруса, мебельного щита, смол (клея). Карты какого географического района России необходимо выбрать, чтобы более детально изучить географические особенности Хабаровского края?

- 1) Западной Сибири
- 2) Северо-Запада
- 3) Восточной Сибири
- 4) Дальнего Востока

79. Предприятие железнодорожного машиностроения ООО «Уральские локомотивы», созданное в 2010 г., расположено в г. Верхняя Пышма в 7 км от Екатеринбурга. Принадлежит группе Синара и концерну Siemens AG. Завод выпускает грузовые магистральные электровозы постоянного тока с коллекторным тяговым приводом «СИНАРА» и грузовые магистральные электровозы с асинхронным тяговым приводом «ГРАНИТ». Ведётся подготовка к производству новых электропоездов «Ласточка» для зимней олимпиады в Сочи. Основной потребитель продукции – ОАО «РЖД». Производственный комплекс рассчитан на выпуск 120 грузовых локомотивов в год. Административным центром какого субъекта РФ является г. Екатеринбург, вблизи которого функционирует ООО «Уральские локомотивы»?

- 1) Челябинская область
- 2) Пермский край
- 3) Свердловская область
- 4) Курганская область

80. Грибановский сахарный завод в Воронежской области – предприятие, которое имеет хорошие перспективы развития. Он был основан еще в 1848 г. Тогда продукция отправлялась в города Поволжья и Москву. Карты какого географического района России необходимо выбрать, чтобы более детально изучить регион, в котором расположена Воронежская область?

- 1) Урала
- 2) Центральной России
- 3) Поволжья
- 4) Европейского Севера

81. В Омске находится крупнейший в азиатской части России нефтеперерабатывающий завод, который начал действовать с середины XX в. Ежегодно здесь перерабатывается 27 млн т нефти. Его продукция – различные виды топлива, нефтепродукты, изделия нефтехимии и др., отвечает современным требованиям. Карты какого географического района России необходимо выбрать, чтобы определить местоположение Омской области?

- 1) Восточная Сибирь
- 2) Дальний Восток
- 3) Западная Сибирь

4) Урал

82. Небольшой городок Вейстманнаэйяр в Исландии расположен у подножия конусообразной горы. 23 января 1973 года жители заметили, что из углубления в центре горы вытекает лава и вот-вот зальёт город. Они решили не сдаваться стихии. Когда основная часть населения эвакуировалась, в городе осталось около двухсот мужчин, которые направили пожарные струи на подползающую лаву. Удалось спасти большую часть города, порт. На каком острове находится город Вейстманнаэйяр? Какую из перечисленных карт необходимо выбрать для того, чтобы подробнее изучить место стихийного бедствия?

- 1) Европы
- 2) Южной Америки
- 3) Австралии
- 4) Африки

83. В 2012 г. в г. Костерёво Владимирской области открылся новый завод по производству ориентированно-стружечных плит – ООО «Хиллман Лимитед». Общий объём инвестиций в реализацию проекта по углублённой переработке древесины и выпуску плит OSB составил более 300 млн рублей. Технологические процессы завода автоматизированы, что обеспечивает высокую производительность труда и качество выпускаемой продукции. Плиты OSB применяются в малоэтажном домостроении, производстве мебели, изготовлении упаковки и тары. Карты какого географического района России необходимо выбрать, чтобы более детально изучить местоположение г. Костерёво Владимирской области?

- 1) Поволжья
- 2) Северо-Запада
- 3) Европейского Севера
- 4) Центральной России

84. ОАО «Челябинский трубопрокатный завод» («ЧТПЗ») является крупнейшим российским производителем стальных труб для магистральных трубопроводов. Продукцию завода закупают предприятия нефтегазового и энергетического комплексов, машиностроения и строительной индустрии. Доля «ЧТПЗ» в общем объёме производства трубной продукции, выпускаемой в Российской Федерации, составляет около 20%. Продукция ОАО «ЧТПЗ» экспортируется во многие страны. Карты какого географического района России необходимо выбрать, чтобы более детально изучить регион, в котором расположен г. Челябинск?

- 1) Западной Сибири
- 2) Урала
- 3) Поволжья
- 4) Европейского Севера

Создано ГЕОСОКОЛ: <https://vk.com/geosokolov>

85. Строительство Тольяттинского азотного завода, которому суждено было стать одним из лидеров мировой химической промышленности, началось в ноябре 1974 года. В настоящее время один из крупнейших в мире производителей аммиака «Тольяттинский азотный завод» производит также концентрированное азотное удобрение карбамид. Карты какого географического района России необходимо выбрать, чтобы более детально изучить регион, в котором расположен г. Тольятти?

- 1) Северо-Запада России
- 2) Центральной России
- 3) Поволжья
- 4) Европейского Юга

86. В городе Шахты (Ростовская область) с 2007 г. работает Ростовский электрометаллургический завод – новое современное предприятие, имеющее производственную мощность 730 тыс. тонн стального проката в год. В 2008 г. рядом с этим заводом начато строительство «Южнорусского электрометаллургического завода». Сталеплавильные мощности нового завода составят 960 тыс. тонн в год. Наличие крупных потребителей металла как в Ростовской области, так и в соседних регионах позволит компании, управляющей заводами, быстро окупить затраты. Карты какого географического района России необходимо выбрать, чтобы более детально изучить территорию Ростовской области?

- 1) Европейского Юга
- 2) Урала
- 3) Поволжья
- 4) Центральной России

87. Ново-Ярославский нефтеперерабатывающий завод (ОАО «Славнефть-ЯНОС») был пущен в эксплуатацию в г. Ярославле в 1961 году. В настоящее время завод является одним из крупнейших в России предприятий по производству нефтепродуктов. Ассортимент продукции завода включает высококачественные автомобильные бензины, экологически чистое дизельное топливо, авиационный керосин и топливо для реактивных двигателей, широкий спектр масел, битумы, топочный мазут и пр. Ново-Ярославский НПЗ – завод, расположенный на трассе нефтепровода, а не в районе добычи нефти. Технический прогресс в транспортировке нефти привёл к отрыву нефтеперерабатывающей промышленности от нефтедобывающей. Карты какого географического района России необходимо выбрать, чтобы подробнее изучить месторасположение города, в котором расположен Ново-Ярославский НПЗ?

- 1) Северо-Запад
- 2) Урал
- 3) Центральная Россия
- 4) Европейский Север

Создано ГЕОСОКОЛ: <https://vk.com/geosokolov>

88. ООО «Ростовский электрометаллургический завод» – металлургический завод нового типа, выпускающий высококачественную продукцию по технологии непрерывной разливки стали. Его производственная мощность составляет 730 тыс. тонн стали в год. Сырьём является металлолом, готовой продукцией – стальные прокатные заготовки и стальная строительная арматура. Карты какого географического района России необходимо выбрать, чтобы изучить географические особенности Ростовской области?

- 1) Севера Европейской части России
- 2) Урала
- 3) Юга Европейской части России
- 4) Поволжья

89. Город Нижнекамск в Республике Татарстан – центр нефтехимической промышленности. Здесь находится ОАО «Нижнекамскнефтехим», которое является крупнейшим в России производителем синтетического каучука, а также различных видов пластмасс. Карты какого географического района России необходимо выбрать, чтобы определить местоположение города, в котором размещено названное в тексте предприятие?

- 1) Европейского Юга
- 2) Урала
- 3) Западной Сибири
- 4) Поволжья

90. В ночь на 4 июня 2006 г. посёлок Витим, где проживает более четырёх тысяч человек, оказался наполовину затоплен в результате резкого повышения уровня воды в реке Лене, сообщило агентство РИА НОВОСТИ. Внезапное осложнение паводковой ситуации в регионе было связано с повышенным сбросом воды на Мамаканской гидроэлектростанции, расположенной выше по течению. В каком регионе России расположен посёлок Витим?

- 1) Республика Якутия
- 2) Красноярский край
- 3) Республика Бурятия
- 4) Забайкальский край

91. ЗАО «Уральский турбинный завод» создано в 2003 г. на базе турбинного производства Уральского турбомоторного завода (ТМЗ) в г. Екатеринбурге. Сейчас это одно из ведущих в России машиностроительных предприятий по проектированию и производству паровых теплофикационных турбин, предназначенных для комбинированной выработки электрической и тепловой энергии, газоперекачивающих агрегатов, энергетических газотурбинных установок. Изделия с маркой ТМЗ пользуются спросом как в самом регионе и внутри страны, так и во многих странах. Турбины, производимые на этом заводе, работают более чем в 60 странах мира, в том числе в Японии, Болгарии, Индии, Южной Корее, Китае. Карты какого региона необходимо выбрать, чтобы более детально изучить местоположение г. Екатеринбург?

Создано ГЕОСОКОЛ: <https://vk.com/geosokolov>

- 1) Свердловской области
- 2) Пермского края
- 3) Оренбургской области
- 4) Республики Башкортостан

92. ООО «Ангарский азотно-туковый завод» было образовано в августе 2004 г. на базе «Ангарского завода азотных удобрений», история которого начинается с 1962 г. Основным видом деятельности является производство азотных удобрений. В настоящее время предприятие намерено значительно увеличить мощности по производству азотных удобрений, используя сырьё, добываемое на территории Иркутской области. Карты какого географического района России необходимо выбрать, чтобы более детально изучить географические особенности Иркутской области?

- 1) Дальнего Востока
- 2) Урала
- 3) Поволжья
- 4) Восточной Сибири

93. ООО «Абинский ЭлектроМеталлургический Завод» является крупнейшим в Краснодарском крае производителем стальной литой заготовки. Сырьём для сталеплавильного производства является лом чёрных металлов. Одно из обстоятельств, подтолкнувшее в типично курортном крае построить крупный промышленный объект – то, что вся металлургическая продукция транспортировалась ранее в регион из других частей страны. Для электро- и водоснабжения завода были построены электрическая подстанция и водозаборная скважина. Завод построен в Абинске, так как имеет выгодное ЭГП. Карты какого географического района России необходимо выбрать, чтобы более детально изучить географические особенности Краснодарского края?

- 1) Центральной России
- 2) Урала
- 3) Поволжья
- 4) Европейского Юга

94. Город Прокопьевск (Кемеровская область) – крупный центр машиностроения Кузбасса. В 2012 г. в Прокопьевске был запущен завод по производству комплектующих для карьерных самосвалов БелАЗ-75570 грузоподъёмностью 90 тонн. Открылось сборочное производство карьерных самосвалов. Карты какого географического района России необходимо выбрать, чтобы более детально изучить регион, в котором расположен г. Прокопьевск Кемеровской области?

- 1) Дальнего Востока
- 2) Западной Сибири
- 3) Урала
- 4) Восточной Сибири

Создано ГЕОСОКОЛ: <https://vk.com/geosokolov>

95. ООО «Нижнекамский завод цельнометаллокордных шин» – уникальное производство, пополнившее шинный комплекс Группы «Татнефть» в 2009 г. Продукция завода – шины для грузовых автомобилей и автобусов. Мощность завода – 1,2 млн шин в год. По своей долговечности и экономичности цельнометаллокордные шины представляют собой технологически новый продукт на российском рынке, соответствующий самым современным российским и зарубежным стандартам. Карты какого географического района России необходимо выбрать, чтобы подробнее изучить регион, в котором расположен г. Нижнекамск? 1) Северо-Запад

- 2) Европейский Юг
- 3) Сибирь
- 4) Поволжье

96. Анжерский машиностроительный завод – ОАО «Анжеромаш», – находится в г. Анжеро-Судженске Кемеровской области. Предприятие производит оборудование для нужд горнодобывающей промышленности. Основная продукция – шахтные конвейеры, станки, машины, широко используемые в современном горно-шахтном производстве, отличаются высоким качеством. Картами какого географического района нужно воспользоваться для того, чтобы определить местоположение города Анжеро-Судженск?

- 1) Дальнего Востока
- 2) Западной Сибири
- 3) Урала
- 4) Восточной Сибири

97. Уфалейский завод металлоизделий (г. Верхний Уфалей Челябинской области) выпускает оборудование для всех производственных процессов в чёрной металлургии: коксохимического, агломерационного, доменного, сталеплавильного и прокатного. Кроме того, завод выпускает стальное и чугунное литьё, поковки, штамповки, металлоконструкции и др. Завод поставяет свою продукцию практически на все крупные металлургические предприятия России, а также осуществляет поставки во многие страны. Карты какого географического района России необходимо выбрать, чтобы более детально изучить регион, в котором расположен г. Верхний Уфалей?

- 1) Поволжья
- 2) Западной Сибири
- 3) Восточной Сибири
- 4) Урала

98. В последние годы Калужская область выделяется среди других регионов России быстрым ростом промышленного производства. Здесь создан крупный машиностроительный кластер, включающий производство экскаваторов, грузовых и легковых автомобилей иностранных компаний. В индустриальном парке «Ворсино» на севере Калужской области построен электрометаллургический завод нового поколения «НЛМК–Калуга». Предприятие полностью

Создано ГЕОСОКОЛ: <https://vk.com/geosokolov>

обеспечено сырьём – ломом чёрных металлов – за счёт поставок ломозаготовительных предприятий. Завод будет получать электроэнергию от Единой энергетической сети. Карты какого географического района России необходимо выбрать, чтобы более детально изучить регион, о котором говорится в тексте?

- 1) Северо-Запада России
- 2) Центральной России
- 3) Европейского Севера
- 4) Поволжья

99. В Минераловодском районе Ставропольского края начал работу агропромышленный парк «Ставрополье». Крупнейший в стране агропарк будет заниматься производственно-коммерческой деятельностью по закупке, хранению, переработке и реализации отечественной овощной продукции. Помимо этого агропарк объединяет под одной крышей торговые и сервисные площади. Карты какого географического района России необходимо выбрать, чтобы более детально изучить регион, в котором расположен Ставропольский край?

- 1) Урала
- 2) Северо-Запада России
- 3) Европейского Юга
- 4) Центральной России

100. Новый завод «Нуран-пласт» по производству композитных полимерных материалов для производства трубной и кабельной продукции открыт в Высокогорском районе Республики Татарстан. Завод стал первым предприятием в составе создаваемого кластера по переработке углеводородов и производства полимерных материалов с замещением импортных аналогов. Продукция завода – композиционный материал, гранулят – сырьё для получения оболочки кабельного шнура из сшитого полиэтилена. Карты какого географического района России необходимо выбрать, чтобы более детально изучить территорию Республики Татарстан?

- 1) Поволжья
- 2) Западной Сибири
- 3) Урала
- 4) Центральной России

101. ОАО «Сегежский целлюлозно-бумажный комбинат» является одним из старейших предприятий отрасли. Комбинат был построен в 1939 году на берегу озера Выг в Карелии. Место для строительства было выбрано неслучайно: это водоёмкое производство в достатке обеспечивалось водными ресурсами, а наличие железной дороги давало возможность бесперебойно поставлять продукцию комбината потребителям – в Ленинград (Санкт-Петербург) и на экспорт. Карты какого географического района необходимо выбрать, чтобы изучить географические особенности Республики Карелия?

- 1) Севера Европейской части России

Создано ГЕОСОКОЛ: <https://vk.com/geosokolov>

- 2) Урала
- 3) Европейского юга
- 4) Поволжья

102. ОАО «Сибнефтемаш» в Тюменской области – предприятие с богатой историей. Оно работает с 1976 г. и специализируется на проектировании и изготовлении специального нефтепромыслового оборудования. В 2013 г. на ОАО «Сибнефтемаш» на 23-м км Тобольского тракта начато производство уникального ёмкостного оборудования весом до 32 т. Новое предприятие отличается выгодным расположением. Кроме проходящего рядом Тобольского тракта, завод имеет собственные подъездные железнодорожные пути. Карты какого географического района России необходимо выбрать, чтобы более детально изучить регион, в котором расположен указанный в тексте комплекс по производству нефтепромыслового оборудования?

- 1) Урала
- 2) Дальнего Востока
- 3) Поволжья
- 4) Западной Сибири

103. «Норильский Никель» стал совладельцем шинного завода «Супершина» (Красноярск), единственного в России производителя крупногабаритных и сверхкрупногабаритных шин для «БелАЗов» и другой большегрузной техники. История предприятия «Супершина» началась со строительства на площадях Красноярского шинного завода (КШЗ) нового производства шин. Карты какого географического района России необходимо выбрать, чтобы подробнее изучить месторасположение г. Красноярск?

- 1) Северо-Запад России
- 2) Урал
- 3) Сибирь и Дальний Восток
- 4) Европейский Север

104. История Владимирского химического завода берёт своё начало в 1932 году. Завод был построен там, где нет никаких сырьевых источников для производства. Сегодня Владимирский химический завод выпускает широкий ассортимент химической продукции: ПВХ-пластики, непластифицированные листовые и гранулированные материалы, простые полиэфиры, стеклопластиковые изделия – это основные группы продукции. Сфера применения их широка: от кабельной и автомобильной до пищевой и строительной отраслей, медицины. Карты какого географического района России необходимо выбрать, чтобы подробнее изучить местоположение г. Владимир?

- 1) Центральная Россия
- 2) Урал
- 3) Северо-Запад

4) Европейский Север

105. ОАО «Сокольский ЦБК» – одно из старейших предприятий целлюлозно-бумажной промышленности России. Комбинат расположен на берегу реки Сухоны в Вологодской области. В конце прошлого столетия на ОАО «Сокольский ЦБК» была проведена реконструкция. Также был реализован проект внедрения экологически чистой бесхлорной отбелилки целлюлозы. В настоящее время на комбинате выпускается 25 видов высококачественной бумаги, сульфитная небелёная целлюлоза и др. Комбинат имеет на балансе две тепловые электростанции мощностью 500 т пара в час и 30 МВт по электроэнергии. Карты какого географического района России необходимо выбрать, чтобы подробно изучить территорию Вологодской области?

- 1) Центральной России
- 2) Европейского Севера
- 3) Урала
- 4) Поволжья

106. Сокольский деревообрабатывающий комбинат (г. Сокол, Вологодская область) первым в стране освоил технологию производства клеёного бруса. Проектная мощность завода – 100 000 м³ клеёной древесины в год. Это одно из самых крупных предприятий в России по производству клеёного бруса и балок (до 12 м). Карты какого географического района России необходимо выбрать, чтобы более детально изучить географические особенности Вологодской области?

- 1) Европейский Север
- 2) Восточная Сибирь
- 3) Западная Сибирь
- 4) Урал

107. После масштабного разлива нефти вследствие аварии на нефтяной платформе в Мексиканском заливе весной 2010 г. правительство США стало более осмотрительно в отношении выдачи разрешения на бурение нефтяных скважин в открытом море. Так, компании Shell Oil, занимающейся добычей нефти и газа, не разрешили бурение скважин в Арктике. Территорию какой страны, кроме США, омывает море Бофорта?

- 1) Швеции
- 2) России
- 3) Канады
- 4) Норвегии

108. Новый завод ДОК «Калевала» по производству ориентированно-стружечных плит (ОСП) построен в Петрозаводске. Запуск 1-й очереди обеспечивает выпуск ОСП до 300 тыс. м³ в год. Предприятие вносит большой вклад в развитие строительной индустрии России, в первую очередь малобюджетного панельно-каркасного домостроения. Продукция завода также востребована на

Создано ГЕОСОКОЛ: <https://vk.com/geosokolov>

рынках мебели и упаковки. Карты какого географического района России необходимо выбрать, чтобы определить местоположение г. Петрозаводска?

- 1) Поволжья
- 2) Европейского Севера
- 3) Урала
- 4) Центральной России

109. Мексиканская компания Nemak, специализирующаяся на производстве автокомпонентов, открыла завод в Ульяновске, общий объём инвестиций составил около 2,2 млрд рублей. Завод будет производить головки цилиндров и блоки двигателей для автомобилей. Карты какого географического района России необходимо выбрать, чтобы более детально изучить регион, в котором расположен г. Ульяновск?

- 1) Урала
- 2) Поволжье
- 3) Европейского Юга
- 4) Центральной России

110. Богучанский алюминиевый завод – одно из самых современных и крупнейших металлургических предприятий в России. Строительство завода идёт в самом центре страны – в Нижнем Приангарье, в Красноярском крае (Богучанский район) на территории более 2,3 кв. км (231 га). Первая очередь производства на Богучанском алюминиевом заводе запущена в эксплуатацию в 2016 году. По проектной мощности производства Богучанский алюминиевый завод занимает третье место в России после Красноярского и Братского алюминиевых заводов – БоАЗ способен выпускать почти 600 тысяч тонн алюминия в год. Карты какого географического района России необходимо выбрать, чтобы более детально изучить географические особенности Нижнего Приангарья?

- 1) Европейский Север
- 2) Восточная Сибирь
- 3) Западная Сибирь
- 4) Урал

111. Город Усть-Илимск является крупным промышленным центром Иркутской области. Здесь построена мощная электростанция, обеспечивающая предприятия города дешёвой электроэнергией. Одно из ведущих предприятий города – целлюлозно-бумажный комбинат. Его основная продукция – товарная белёная целлюлоза, которая поставляется не только в регионы России, но и за рубеж. Карты какого географического района России необходимо выбрать, чтобы определить местоположение города Усть-Илимска?

- 1) Европейского Севера
- 2) Поволжья
- 3) Западной Сибири

4) Восточной Сибири

112. В Омске в 2013 г. открыли комбинат по производству полимеров. Новый завод стал частью крупного нефтехимического кластера. Предприятие производит полипропилен не только для российских регионов, но и на экспорт. По прочности и надежности полипропилен значительно превосходит полиэтилен. Изделия из него не деформируются в агрессивных средах и выдерживают резкие перепады температур. Здесь производится около ста марок полимерной продукции. Карты какого географического района России необходимо выбрать, чтобы более детально изучить территорию Омской области?

- 1) Поволжья
- 2) Западной Сибири
- 3) Восточной Сибири
- 4) Европейского Юга

113. Чтобы на равных конкурировать с иностранными производителями, металлургам Кемеровской области нужно снижать себестоимость продукции. Сталеплавильные печи перешли на новый вид топлива. На эти цели и направлен проект, который сейчас реализуют в Новокузнецке. Природный газ скоро перестанет быть необходимым для выплавки стали: металлурги планируют полностью заменить его угольной пылью. Карты какого географического района России необходимо выбрать, чтобы более детально изучить регион, в котором расположена Кемеровская область?

- 1) Западной Сибири
- 2) Урала
- 3) Поволжья
- 4) Европейского Севера

114. Утром 13 марта 2008 г. началось ухудшение погодных условий в связи с продвижением в Приморье обширного циклона из Амурской области. Синоптики прогнозировали дальнейшее ухудшение погодных условий, что могло привести к прекращению судоходства в Приморье. Карту какого географического района России необходимо выбрать для того, чтобы подробнее изучить упомянутые в тексте территории?

- 1) Урала
- 2) Дальнего Востока
- 3) Сибири
- 4) Европейского Севера России

115. Липецкая область – один из российских лидеров по производству сахара. Наиболее крупными предприятиями по производству сахара в области являются ОАО «Елецкий сахарный завод», ОАО «Лебедянский сахарный завод», ОАО «Добринский сахарный завод», ЗАО «Грезинский сахарный завод». Суммарно на их долю приходится примерно 95% общего объема производимого в регионе

Создано ГЕОСОКОЛ: <https://vk.com/geosokolov>

сахара. В результате проведённой модернизации производственные мощности сахарных заводов увеличиваются. Карты какого географического района России необходимо выбрать, чтобы более детально изучить регион, в котором расположена Липецкая область?

- 1) Поволжья
- 2) Европейского Юга
- 3) Урала
- 4) Центральной России

116. Город Усть-Илимск является крупным промышленным центром Иркутской области. Здесь построена мощная гидроэлектростанция, обеспечивающая предприятия города дешёвой электроэнергией. Одно из ведущих предприятий города – целлюлозно-бумажный комбинат – водоёмкое производство, использующее воды водохранилища. Его основная продукция – товарная белёная целлюлоза, которая поставляется не только в различные регионы России, но и за рубеж. Карты какого географического района России необходимо выбрать, чтобы изучить географические особенности окрестностей г. Усть-Илимска?

- 1) Дальнего Востока
- 2) Европейского Севера
- 3) Западной Сибири
- 4) Восточной Сибири

117. АО «Котласский ЦБК» – «Котласский целлюлозно-бумажный комбинат» (юг Архангельской области, город Коряжма) – крупнейшее в России предприятие по комплексной безотходной химической переработке древесины хвойных и лиственных пород. Котласский ЦБК вырабатывает более миллиона тонн целлюлозы разных видов, сотни тысяч тонн печатной и технической бумаги, картона, древесно-волоконистые плиты и другие виды продукции. Картами какого географического района нужно воспользоваться для того, чтобы определить местоположение города Коряжма?

- 1) Европейского Севера
- 2) Урала
- 3) Западной Сибири
- 4) Дальнего Востока

118. Тихоокеанские муссоны принесли сильные ливневые дожди в северо-восточные районы Китая. Общее количество выпавших атмосферных осадков в 2 раза превысило обычную для этого времени года норму. В провинции Ляонин реки вышли из берегов. Некоторые деревни оказались на грани затопления. Какую из перечисленных карт необходимо выбрать для того, чтобы определить, каково среднегодовое количество атмосферных осадков в северо-восточных районах Китая?

- 1) физическую
- 2) геологическую
- 3) климатическую

4) природных зон

119. 1 июня 2018 г. Челябинский тракторный завод отметил своё 85-летие. ЧТЗ стал первым в стране заводом по крупносерийному производству гусеничных тракторов. В годы Великой Отечественной войны завод выпускал танки и внёс огромный вклад в победу над фашизмом. В настоящее время с конвейера завода ежегодно сходят тысячи тяжёлых инженерных машин (промышленных тракторов, бульдозеров, трубоукладчиков); продукция ЧТЗ поставляется во все регионы России, страны СНГ и дальнего зарубежья. Карты какого географического района России необходимо выбрать, чтобы более детально изучить регион, в котором расположен г. Челябинск?

- 1) Европейского Юга
- 2) Урала
- 3) Центральной России
- 4) Западной Сибири

120. Дорогобужский завод азотных удобрений ОАО «Дорогобуж» (г. Дорогобуж, Смоленская область) является одним из ведущих в России производителей азотных удобрений. Предприятие стабильно демонстрирует рост объёмов производства. Продукция предприятия пользуется устойчивым спросом на внутреннем и на мировом рынках. Карты какого географического района России необходимо выбрать, чтобы более детально изучить регион, в котором расположен г. Дорогобуж?

- 1) Северо-Запада России
- 2) Центральной России
- 3) Поволжья
- 4) Европейского Севера

121. В 2012 г. в России на острове Русский прошла встреча глав государств организации Азиатско-Тихоокеанского экономического сотрудничества (АТЭС). Для проведения этого мероприятия во Владивостоке построили несколько объектов, среди которых мост через бухту Золотой Рог и мост на остров Русский. На самом острове построены четыре мини-ТЭЦ и одна ветровая электростанция. Для работы ветровых электростанций требуются постоянные и достаточно сильные ветры, которые характерны для острова Русский. Карты какого географического района России необходимо выбрать, чтобы подробнее изучить место проведения встречи глав государств АТЭС?

- 1) Магаданской области
- 2) Камчатского края
- 3) Приморского края
- 4) Чукотского АО

122. Новый металлургический комбинат планируется построить в Нерюнгринском районе Республики Саха (Якутия). Комбинат будет использовать железные руды крупнейшего в Якутии

Создано ГЕОСОКОЛ: <https://vk.com/geosokolov>

месторождения «Таёжное». Карты какого географического района России необходимо выбрать чтобы изучить ресурсную базу Республики Саха (Якутия)?

- 1) Европейский Север
- 2) Урал
- 3) Западная Сибирь
- 4) Дальний Восток

123. В Забайкалье в 1789 г. был основан посёлок Петровский Завод, названный в честь Петра I. Он возник вокруг чугунолитейного и железоделательного завода, на котором использовались местные железные руды. Когда через посёлок прошла Транссибирская магистраль, железнодорожная станция также получила название Петровский Завод. Позже посёлок получил статус города и был переименован в Петровск-Забайкальский. Город расположен в межгорной котловине в Забайкальском крае. Относился к городам России с наибольшим уровнем загрязнения воздуха. Зимой загрязнение атмосферного воздуха особенно велико. Какой из перечисленных городов так же, как и Петровск-Забайкальский, расположен на Транссибирской железнодорожной магистрали?

- 1) Чита
- 2) Якутск
- 3) Верхоянск
- 4) Охотск

124. Первоуральский завод горного оборудования (ПЗГО) – одно из старейших предприятий тяжёлого машиностроения в России: история завода начинается в далеком XIX веке. Нефтегазовое оборудование, ленточные контейнеры, шахтные подъёмные сосуды и другие виды выпускаемой на заводе продукции зарекомендовали себя отличным качеством. Картами какого региона нужно воспользоваться для того, чтобы подробнее изучить территорию, на которой находится город Первоуральск?

- 1) Тюменской области
- 2) Республики Коми
- 3) Свердловской области
- 4) Республики Татарстан

125. В 2012 г. в Воронежской области на территории индустриального парка «Масловский» открылся новый завод по производству элеваторного оборудования и зерноочистительной техники компании «Воронежсельмаш». В сельскохозяйственном машиностроении региона это первый проект, отличительной особенностью которого является не реконструкция старого предприятия, а строительство нового. Мощность завода рассчитана на ежегодное производство элеваторного оборудования для хранения 500 тыс. т зерна, 27 сушилок, 1000 единиц транспортного и зерноочистительного оборудования, а также 300 фотосепараторов. Карты какого

Создано ГЕОСОКОЛ: <https://vk.com/geosokolov>

географического района России необходимо выбрать, чтобы более детально изучить географические особенности Воронежской области?

- 1) Европейского Юга
- 2) Поволжья
- 3) Европейского Севера
- 4) Центральной России

126. Производственное объединение «Гормаш» в г. Киселёвске (Кемеровская область) специализируется на производстве горно-шахтного оборудования, которое пользуется спросом на всех угледобывающих предприятиях Кузбасса. Карты какого географического района России необходимо выбрать, чтобы определить местоположение Кемеровской области?

- 1) Дальний Восток
- 2) Восточная Сибирь
- 3) Западная Сибирь
- 4) Урал

127. В последние годы мировые гиганты автомобилестроения строят в России автосборочные заводы. Компания «Volkswagen AG» построила в Калуге завод, на котором производится сборка автомобилей моделей «Skoda Octavia», «Volkswagen Passat», «Audi» и др. Российская сборка, которая позволит немного снизить цены на эти модели, обеспечивает им дополнительные конкурентные преимущества. Карты какого географического района России необходимо выбрать, чтобы подробно изучить особенности местоположения Калужской области?

- 1) Европейского Юга
- 2) Центральной России
- 3) Урала
- 4) Поволжья

128. Горьковский автомобильный завод («ГАЗ») – крупный производитель легковых, лёгких грузовых автомобилей и микроавтобусов. Завод был основан в 1932 году, находится в Нижнем Новгороде. Картами какого географического района нужно воспользоваться для того, чтобы определить местоположение г. Нижний Новгород?

- 1) Европейского Юга
- 2) Урала
- 3) Сибири
- 4) Центральной России

129. Мы проехали от Средиземного моря до побережья Бискайского залива. И вот, наконец, конечный пункт нашего путешествия – город Ла-Рошель. В нём расположен порт прогулочных яхт. По узким улочкам мы проехали туда. Был тёплый летний день. Дул лёгкий бриз. Водное

Создано ГЕОСОКОЛ: <https://vk.com/geosokolov>

пространство залива было заполнено яхтами. По карте какой страны можно определить географическое положение города Ла-Рошель, описанного в тексте?

- 1) Турции
- 2) Греции
- 3) Франции
- 4) Италии

130. В 2009 г. в рамках программы модернизации действующего производства на «Нововятском лыжном комбинате» (Кировская область) было принято решение организовать производство ориентированно-стружечной плиты (ОСП) – современного строительного материала с улучшенными потребительскими качествами. Общая стоимость проекта составляет 1,8 млрд руб. Карты какого географического района России необходимо выбрать, чтобы более детально изучить регион, в котором расположена Кировская область?

- 1) Урала
- 2) Западной Сибири
- 3) Европейского Юга
- 4) Центральной России

131. В Ставропольском крае в 2011–2015 годах реализованы несколько проектов по строительству сахарных заводов. В частности, в Кочубеевском и Новоалександровском районах построены два перерабатывающих комплекса. Наряду со строительством новых заводов в регионе планируется модернизация предприятия ОАО «Ставропольсахар». Карты какого географического района необходимо выбрать, чтобы подробнее изучить местоположение Ставропольского края?

- 1) Поволжья
- 2) Центральной России
- 3) Северо-Запада России
- 4) Европейского Юга

132. В Кемеровской области в 2008 году начато строительство Яйского нефтеперерабатывающего завода, мощностью 3 млн тонн нефти в год. Яйский НПЗ расположен в 7,5 километрах от узла учёта линейной производственно-диспетчерской станции «Анжеро-Судженск» магистрального нефтепровода Александровское (Томская область) – Анжеро-Судженск – Иркутск, что должно обеспечить устойчивую, ритмичную работу предприятия. Карты какого географического района России необходимо выбрать, чтобы более подробно изучить регион, в котором расположен Яйский НПЗ?

- 1) Урала
- 2) Дальнего Востока
- 3) Поволжья
- 4) Западной Сибири

133. Новгородский химический комбинат (г. Великий Новгород), входящий в состав ОАО «Акрон», является одним из крупнейших в России производителей азотных удобрений. Предприятие стабильно демонстрирует рост объёмов производства. Продукция ОАО «Акрон» имеет устойчивый спрос на внутреннем и мировом рынках. Карты какого географического района России необходимо выбрать, чтобы более детально изучить регион, в котором расположен г. Великий Новгород?

- 1) Северо-Запада
- 2) Урала
- 3) Поволжья
- 4) Европейского Севера

134. Кыштымское машиностроительное объединение ОАО «КМО», расположенное в Челябинской области, имеет более чем двухсотлетнюю историю. В настоящее время ОАО «КМО» – одно из самых передовых предприятий в своей отрасли, является одним из немногих в России производителей горно-шахтного оборудования, бурового инструмента и другой горнобуровой техники. Картами какого географического района нужно воспользоваться для того, чтобы определить местоположение г. Кыштым, в котором размещено описанное в тексте предприятие?

- 1) Поволжья
- 2) Урала
- 3) Восточной Сибири
- 4) Дальнего Востока

135. г. Бузулукский завод тяжёлого машиностроения (Оренбургская область) отметил 95-летие со дня образования. В настоящее время завод производит буровые станки, технологические машины для алюминиевой промышленности, конвейеры и конвейерное оборудование для предприятий чёрной металлургии и других отраслей промышленности. Продукция предприятия пользуется устойчивым спросом как в самой Оренбургской области, так и за её пределами. Карты какого географического района России необходимо использовать для того, чтобы более детально изучить территорию Оренбургской области?

- 1) Европейского Севера
- 2) Центральной России
- 3) Урала
- 4) Европейского Юга

136. В октябре 2011 г. в Краснодарском крае была введена в эксплуатацию первая очередь современного рисоперерабатывающего комплекса, включающая рисовый завод, фасовочное производство, складской терминал, административный корпус и весь комплекс инженерных сооружений. Мощность завода – 40–45 тыс. тонн риса-сырца в год. Карты какого географического

Создано ГЕОСОКОЛ: <https://vk.com/geosokolov>

района России необходимо выбрать, чтобы более детально изучить географические особенности Краснодарского края?

- 1) Центральной России
- 2) Урала
- 3) Поволжья
- 4) Европейского Юга

137. Отраслевая целевая программа «Развитие свёклосохарного подкомплекса России на 2010–2012 годы» предусматривала увеличение объёмов производства отечественного свекловичного сахара до 4,32 млн т. В реализации этой программы большая роль отводилась сахарным заводам Краснодарского и Ставропольского краёв, Карачаево-Черкесской Республики и Республики Адыгея. Карты какого географического района необходимо выбрать, чтобы подробнее изучить указанные в тексте субъекты РФ?

- 1) Поволжья
- 2) Центральной России
- 3) Северо-Запада России
- 4) Европейского Юга

138. Проект строительства целлюлозно-бумажного комбината в Приобье, в Ханты-Мансийском автономном округе – Югре, является одним из приоритетных инвестиционных проектов в лесопромышленном комплексе России. Решение разместить на территории Ханты-Мансийского автономного округа – Югра ЦБК было принято с учетом наличия богатых природных ресурсов, мощного производственного потенциала, развитой промышленной и социальной инфраструктуры (хорошая обеспеченность электроэнергией, непосредственная близость Приобья к железной дороге, речному пути, автодороге). Карты какого географического района России необходимо выбрать, чтобы определить местоположение Ханты-Мансийского автономного округа – Югра?

- 1) Европейского Севера
- 2) Восточной Сибири
- 3) Западной Сибири
- 4) Дальнего Востока

139. «ЕвроХим» – крупная компания по производству минеральных удобрений, приобрела ООО «Севернефть-Уренгой», которое занимается разведкой и разработкой газовых месторождений в Ямало-Ненецком автономном округе. Руководство компании «ЕвроХим» так прокомментировало эту сделку: «Это весьма необычный шаг для производителя азотных удобрений, но он поможет нам сохранить конкурентоспособность, обеспечит бесперебойную работу наших заводов». Карты какого географического района России необходимо выбрать, чтобы более детально изучить регион, в котором расположен Ямало-Ненецкий автономный округ?

- 1) Урала
- 2) Центральной России

- 3) Северо-Запада
- 4) Западной Сибири

140. Планируется проведение автопробега от Пскова до Ставрополя. Маршрут проложен почти по прямой, соединяющей эти два города. Первый этап пройдёт по лесным дорогам Псковской области, вдоль берегов многочисленных озёр, по болотистым низинам. Второй этап пройдёт по Центральной России. Карту какого из перечисленных субъектов Российской Федерации необходимо взять с собой, так как маршрут автопробега пройдет по его территории?

- 1) Омская область
- 2) Калининградская область
- 3) Ростовская область
- 4) Саратовская область

141. В Шебекинском районе Белгородской области запущено производство лизин-сульфата на основе глубокой переработки зерна мощностью 57 тыс. т в год. Лизин – одна из четырёх аминокислот, необходимых для выращивания домашней птицы, является составляющей частью многих белков и используется для роста, восстановления мышечной массы, укрепления иммунной системы организма. Основным сырьём для производства лизин-сульфата является зерно пшеницы. Крупнейшими потребителями лизина являются птицеводческие хозяйства Белгородской области. Карты какого географического района России необходимо выбрать, чтобы более детально изучить местоположение Белгородской области?

- 1) Поволжья
- 2) Центральной России
- 3) Урала
- 4) Европейского Юга

142. Концерн Volkswagen запустил в индустриальном парке «Габцево» (Калужская область) производство автомобильных двигателей. На заводе планируется собирать бензиновые 1,6-литровые двигатели, а мощность предприятия составит 150 тыс. двигателей в год. Карты какого географического района России необходимо выбрать, чтобы более детально изучить регион, в котором расположена Калужская область?

- 1) Урала
- 2) Поволжье
- 3) Европейского Юга
- 4) Центральной России

143. Альметьевский трубный завод (АТЗ) построен в 1966 г. в целях производства труб среднего диаметра. АТЗ расположен в Среднем Поволжье и считается одним из основных производителей труб для нефтяной и газовой промышленности в этом регионе. За прошедшее время оно реконструировалось и сегодня представляет собой один из самых современных российских

Создано ГЕОСОКОЛ: <https://vk.com/geosokolov>

производственных комплексов. Карты какого географического района России необходимо выбрать, чтобы точнее определить местоположение города Альметьевска?

- 1) Республики Татарстан
- 2) Свердловской области
- 3) Омской области
- 4) Кемеровской области

144. Завод «Карелия ДСП» расположен в Медвежьегорском районе Республики Карелия. Свою первую продукцию – необлицованную древесно-стружечную плиту завод выпустил в 2001 г. В настоящее время на заводе налажено производство влагостойкой ДСП и ламинированных ДСП с новым тиснением, которая получила высокие оценки отечественных и западных экспертов. Сейчас спрос на продукцию карельского завода намного превышает объёмы её выпуска. Карты какого географического района России необходимо выбрать, чтобы более детально изучить регион, в котором расположена Республика Карелия?

- 1) Восточной Сибири
- 2) Урала
- 3) Поволжья
- 4) Европейского Севера

145. Ново-Ярославский нефтеперерабатывающий завод (ОАО «Славнефть-ЯНОС») был пущен в эксплуатацию в 1961 г. С 1995 г. предприятие входит в состав нефтяной компании «Славнефть». В настоящее время это одно из крупнейших предприятий отрасли (мощность – более 15 млн т нефти в год). Ассортимент продукции завода включает в себя автомобильный бензин и дизельное топливо, авиационный керосин и топливо для реактивных двигателей, широкий спектр масел, битумы, парафино-восковую продукцию, ароматические углеводороды, сжиженные газы и топочный мазут. Карты какого географического района России необходимо выбрать, чтобы более детально изучить местоположение г. Ярославля?

- 1) Поволжья
- 2) Урала
- 3) Европейского Севера
- 4) Центральной России

146. Стромболи – остров-вулкан, расположенный в Тирренском море между островом Сицилия и южной оконечностью Апеннинского полуострова. Он принадлежит к группе Липарских островов и считается излюбленным местом отдыха туристов, приезжающих сюда принимать целебные грязевые ванны. Извержения вулкана на острове – привычное дело, и иногда они даже не препятствуют паромному сообщению в районе. Какую из перечисленных карт необходимо выбрать для того, чтобы определить местоположение острова Стромболи? 1) Азии

- 2) Северной Америки
- 3) Европы

4) Австралии

147. Компанией «Северсталь» в Саратовской области введён в эксплуатацию новый мини-завод мощностью 1 млн т сортового проката в год. Это – современное предприятие, сочетающее выплавку высококачественной стали в электропечах и производство сортового проката на высокоскоростном прокатном стане. Производство металлопроката планируют осуществлять практически без образования отходов. Лом, собираемый в Саратовской области, в значительной степени удовлетворит потребность завода. Карты какого географического района России необходимо выбрать, чтобы более детально изучить географические особенности Саратовской области?

- 1) Западной Сибири
- 2) Урала
- 3) Поволжья
- 4) Европейского Севера

148. Акционерное общество «Анжеромаш» (Анжерский машиностроительный завод) – ведущее предприятие Кемеровской области по производству современного горно-шахтного оборудования. Предприятие специализируется на изготовлении забойных конвейеров, предназначенных для работы в угольных шахтах, буровых станков и машин, широко используемых в современном горно-шахтном производстве. По техническому уровню и надёжности машины «Анжеромаша» не уступают зарубежным аналогам. Карты какого географического района России необходимо выбрать, чтобы подробнее изучить территорию Кемеровской области?

- 1) Дальнего Востока
- 2) Европейского Севера
- 3) Урала
- 4) Западной Сибири

149. В г. Сорочинске Оренбургской области построен маслоэкстракционный комбинат. Объём инвестиций в его строительство составил 2,8 млрд рублей. Мощности нового производства позволят перерабатывать 400 тыс. т сырья в год. Планируется, что предприятие будет ежегодно производить 177 тыс. т растительного масла. Карты какого географического района России необходимо выбрать, чтобы более детально изучить регион, в котором расположен г. Сорочинск Оренбургской области?

- 1) Северо-Запада России
- 2) Центральной России
- 3) Урала
- 4) Европейского Юга

150. Пустыня Намиб находится на побережье Атлантического океана, омывается водами Бенгельского течения, несущего более холодные воды в тропические широты. На территории

Создано ГЕОСОКОЛ: <https://vk.com/geosokolov>

пустыни созданы национальные парки. Один из них – «Берег Скелетов». Здесь десятилетиями не бывает дождей, зато густой туман – обычное явление, так же как и бризы, регулярно возникающие на побережье. Какую из перечисленных карт необходимо выбрать для того, чтобы подробнее изучить национальный парк «Берег Скелетов»?

- 1) Азии
- 2) Южной Америки
- 3) Африки
- 4) Австралии

151. Новомосковская акционерная компания «Азот» является одним из крупнейших химических предприятий России: здесь производится каждая девятая тонна отечественных аммиака и азотных удобрений. В настоящее время завод полностью модернизирован, что позволяет ему быть высокоэффективным предприятием. Карты какого географического района России необходимо выбрать, чтобы более детально изучить регион, в котором расположен г. Новомосковск?

- 1) Тульской области
- 2) Смоленской области
- 3) Пермского края
- 4) Воронежской области

152. На полуострове Кейп-Йорк (северо-восток Австралии) проливные дожди не прекращаются с середины января – они идут уже больше месяца. Сотни тысяч гектаров пахотных земель ушли под воду. Хотя ливневые дожди в это время года – обычное явление, такого наводнения местные жители не припомнят уже давно. Спасатели вынуждены с помощью вертолётов вывозить граждан из наиболее пострадавших районов. В это же время в центральных и юго-восточных частях Австралии царит небывалая жара. Какую из перечисленных карт нужно использовать, чтобы определить среднегодовое количество атмосферных осадков на полуострове Кейп-Йорк?

- 1) физическую
- 2) климатическую
- 3) природных зон
- 4) растительности

153. ОАО «Сясьский целлюлозно-бумажный комбинат» расположен в Волховском районе Ленинградской области. Предприятие было основано в 1928 году с учетом особенностей местной природно-ресурсной базы. На сегодняшний день, Сясьский ЦБК является одним из крупнейших в России производителей санитарно-гигиенических изделий, а также целлюлозы, лигносульфонатов и других видов продукции промышленного назначения. Картами какого географического района нужно воспользоваться для того, чтобы изучить территорию, на которой находится названное в тексте предприятие?

- 1) Урала

Создано ГЕОСОКОЛ: <https://vk.com/geosokolov>

- 2) Северо-Запада России
- 3) Сибири
- 4) Центральной России

154. ОАО «Невинномысский Азот» является крупнейшим производителем азотных удобрений в России, а также одним из самых современных и эффективных производителей аммиака в стране. Созданное в 1962 г. предприятие сегодня выпускает не только аммиак, азотные и сложные удобрения, но и другие продукты органического синтеза. Продукция предприятия пользуется устойчивым спросом на внутреннем и на мировом рынках. Бóльшая часть продукции азотной группы традиционно поставляется на экспорт во многие страны. Карты какого географического района России необходимо выбрать, чтобы более детально изучить регион, в котором расположен г. Невинномысск?

- 1) Северо-Запада
- 2) Центральной России
- 3) Поволжья
- 4) Европейского Юга

155. Биоэнергетика – новая отрасль, в которой для получения электроэнергии используется биотопливо – пригодные для получения энергии твердые, жидкие и газообразные вещества, получаемые из растительного или животного сырья либо иных биологических источников (например, органических промышленных отходов). В Архангельской области на сегодняшний день на биотопливо переведена 51 котельная, построено 17 новых теплоцентралей, в том числе – крупнейшая в Восточной Европе биотопливная котельная мощностью 45 МВт в посёлке Октябрьском. По сравнению с 2007 г. применение биотоплива в электроэнергетике Архангельской области выросло с 18% до 39%, а угля и нефтепродуктов сократилось с 57% до 33%. Карты какого географического района России необходимо выбрать, чтобы определить местоположение Архангельской области?

- 1) Европейский Север
- 2) Северо-Запад
- 3) Западная Сибирь
- 4) Урал

156. Некоторые солнечные батареи представляют собой много вогнутых зеркал, установленных в одном месте и закреплённых в определённом положении. В городе Севилья (Испания) солнечная энергоустановка более чем из 600 зеркал обеспечивает электроэнергией более 6000 домов. Количество солнечной радиации, достигающей поверхности Земли, различается по сезонам и зависит от географической широты пункта. Какую из перечисленных карт нужно использовать, чтобы определить местоположение названного в тексте города Севилья?

- 1) Европы
- 2) Азии

- 3) Африки
- 4) Южной Америки

157. В Томской области идёт строительство нескольких новых предприятий по производству древесностружечных и древесноволокнистых плит. Новые предприятия помогут вдвое увеличить производство ДСП в Томской области. Карты какого географического района России необходимо выбрать, чтобы более детально изучить географические особенности Томской области?

- 1) Европейского Севера
- 2) Западной Сибири
- 3) Восточной Сибири
- 4) Дальнего Востока

158. Железногорский горно-химический комбинат, расположенный в 60 км от Красноярска, долгое время работал только на нужды военно-промышленного комплекса. Начиная с 2008 г. на комбинате началось промышленное производство кремния, который используется в электронной промышленности для выпуска полупроводников, а также в энергетике для производства солнечных батарей. Запуск этого современного производства позволит сохранить и эффективно использовать уникальный кадровый потенциал города. Выбор места для создания этого производства также объясняется тем, что оно является энергоёмким. Карты какого географического района России необходимо выбрать, чтобы изучить географические особенности окрестностей г. Красноярска?

- 1) Урал
- 2) Западная Сибирь
- 3) Восточная Сибирь
- 4) Дальний Восток

159. «Новолипецкий металлургический комбинат» (НЛМК) – одна из крупнейших металлургических компаний в мире. Она располагает современными производственными мощностями, которые по технологическому уровню не уступают ведущим западным производителям. Успешной работе компании способствует выгодное географическое положение в непосредственной близости от основных российских потребителей и ключевых транспортных путей. При производственной мощности более 15 миллионов тонн стали в год, НЛМК имеет самообеспеченность сырьём на 100%. Карты какого географического района России необходимо выбрать, чтобы изучить географические особенности Липецкой области? 1) Урала

- 2) Центральной России
- 3) Севера Европейской части России
- 4) Юга Европейской части России

160. В 2013 г. в Калуге в индустриальном парке «Грабцево» открыт завод по производству автомобильных стекол «Фуяо Стекло Рус». Китайская компания FUYAO Glass Industry приняла

Создано ГЕОСОКОЛ: <https://vk.com/geosokolov>

решение о строительстве завода по производству флоат-стекла, объём инвестиций составил более 10 млрд рублей. Карты какого географического района России необходимо выбрать, чтобы более детально изучить регион, в котором расположен индустриальный парк «Грабцево»?

- 1) Урала
- 2) Северо-Запада России
- 3) Поволжья
- 4) Центральной России

161. Развитие целлюлозно-бумажной промышленности является важным для Республики Коми. Троицко-Печорский целлюлозно-картонный комбинат, наряду с проектом "Сыктывкарский ЛПК" и Удорским целлюлозным комбинатом, вошёл в число трёх проектов Коми, претендующих на статус приоритетных в республике. Карту какого географического района России необходимо выбрать, чтобы более детально изучить географические условия развития хозяйства в Республике Коми?

- 1) Дальнего Востока
- 2) Восточной Сибири
- 3) Европейского Севера
- 4) Урала

162. В октябре 2013 г. в индустриальном парке «Росва» (г. Калуга) открыт завод по производству шин для легковых автомобилей и легкого коммерческого транспорта. Инвестиции в проект составили 240 млн. евро. Стартовая мощность – 4 млн. шин в год. Предполагается увеличение объемов производства до 16 млн. шин в год. Будет широко использоваться сырье, произведенное в России. Карты какого географического района России необходимо выбрать, чтобы более детально изучить регион, в котором расположен индустриальный парк «Росва»?

- 1) Урала
- 2) Северо-Запада России
- 3) Поволжья
- 4) Центральной России

163. Нефтехимия – одна из основных отраслей промышленности, определяющих промышленный профиль Республики Татарстан. На долю республики приходится около половины российского производства полиэтилена и синтетического каучука. Карты какого географического района России необходимо выбрать, чтобы изучить географические особенности Татарстана?

- 1) Урала
- 2) Европейского Юга
- 3) Поволжья
- 4) Восточной Сибири

164. В 2013 г. в Липецком районе открыт цех стальных труб ООО «Промизделия». Новое производство труб различного сечения оснащено современным высокопроизводительным

Создано ГЕОСОКОЛ: <https://vk.com/geosokolov>

оборудованием, которое позволяет выпускать продукцию в соответствии с требованиями международных стандартов. Мощность предприятия – 50 тыс. т готовой продукции в год. Ввод в эксплуатацию нового цеха позволяет полностью удовлетворить потребность липецких строителей в стальных трубах. В Липецкой области освоено производство труб прямоугольного сечения, до сих пор их закупали в других регионах России. Карты какого географического района России необходимо выбрать, чтобы более детально изучить регион, в котором расположен г. Липецк?

- 1) Урала
- 2) Европейского Юга
- 3) Поволжья
- 4) Центральной России

165. На каком из перечисленных полуостровов наиболее вероятны землетрясения?

- 1) Кольский
- 2) Лабрадор
- 3) Калифорния
- 4) Скандинавский

166. На территории какой из перечисленных стран имеются действующие вулканы?

- 1) Австралия
- 2) Германия
- 3) Чили
- 4) Франция

167. Какая из перечисленных горных пород – метаморфическая по происхождению?

- 1) мел
- 2) песок
- 3) базальт
- 4) мрамор

168. Какое из перечисленных морей окраинное?

- 1) Средиземное
- 2) Балтийское
- 3) Чёрное
- 4) Аравийское

169. На какой из перечисленных параллелей 20 июня световой день наиболее продолжительный?

- 1) 65° с. ш.
- 2) 24° с. ш.
- 3) 0° ш.

ГЕОСОКОЛ

4) 15° ю. ш.

170. На каком материке в естественных условиях обитают муравьед и ленивец?

- 1) Австралия
- 2) Евразия
- 3) Северная Америка
- 4) Южная Америка

171. На каком материке находится самая полноводная река земного шара?

- 1) Африка
- 2) Южная Америка
- 3) Евразия
- 4) Северная Америка

172. Какое из перечисленных океанических течений тёплое?

- 1) Перуанское
- 2) Гольфстрим
- 3) Канарское
- 4) Бенгельское

173. Представителем животного мира какого из перечисленных материков является медведь гризли?

- 1) Южная Америка
- 2) Австралия
- 3) Африка
- 4) Северная Америка

174. Типичным представителем животного мира какого материка является жираф?

- 1) Африка
- 2) Южная Америка
- 3) Евразия
- 4) Австралия

175. Какая из перечисленных горных пород относится к магматическим по происхождению? 1)

- 1) мрамор
- 2) гранит
- 3) известняк
- 4) каменный уголь



ГЕОСОКОЛ

176. На территории какого из перечисленных государств наиболее вероятны извержения вулканов?

- 1) Италия
- 2) Германия
- 3) Польша
- 4) Монголия

177. Для какой природной зоны характерно наибольшее видовое разнообразие растительного и животного мира?

- 1) тайга
- 2) степь и лесостепь
- 3) тундра и лесотундра
- 4) влажные экваториальные леса

178. Какая из перечисленных горных пород – осадочная по происхождению?

- 1) известняк
- 2) базальт
- 3) пемза
- 4) гранит

179. Интенсивность землетрясений оценивается в баллах по 12-балльной шкале. Магнитуда характеризует энергию, выделившуюся при землетрясении, и определяется по шкале Рихтера. Интенсивность землетрясения в баллах тем больше,

- 1) чем больше его магнитуда и чем глубже его очаг
- 2) чем больше его магнитуда и чем ближе к поверхности его очаг
- 3) чем меньше его магнитуда и чем глубже его очаг
- 4) чем меньше его магнитуда и чем ближе к поверхности его очаг

180. Представителем животного мира какого материка является антилопа гну?

- 1) Австралия
- 2) Южная Америка
- 3) Северная Америка
- 4) Африка

181. Какой из перечисленных действующих вулканов Евразии – самый высокий?

- 1) Этна
- 2) Везувий
- 3) Фудзияма
- 4) Ключевская Сопка

Создано ГЕОСОКОЛ: <https://vk.com/geosokolov>

182. Какое из перечисленных животных в естественных условиях обитает в Африке?

- 1) ехидна
- 2) бегемот
- 3) скунс
- 4) муравьед

183. Кенгуру и ехидна в естественных условиях обитают только на материке

- 1) Евразия
- 2) Австралия
- 3) Африка
- 4) Южная Америка

184. Какая из перечисленных горных пород – магматическая по происхождению?

- 1) пемза
- 2) известняк
- 3) мрамор
- 4) кварцит

185. В какой части света находится самая высокая на Земле горная система?

- 1) Азия
- 2) Америка
- 3) Африка
- 4) Европа

186. Какая из перечисленных пород деревьев типична для саванн Африки?

- 1) секвойя
- 2) баобаб
- 3) лиственница
- 4) бук

187. На территории какого из перечисленных государств наиболее вероятны извержения вулканов?

- 1) Швейцария
- 2) Индия
- 3) Уругвай
- 4) Чили

188. На территории какого из перечисленных государств наиболее вероятны землетрясения? 1)

- Белоруссия
- 2) Индонезия

Создано ГЕОСОКОЛ: <https://vk.com/geosokolov>

3) Финляндия

4) Германия

189. Зебра и антилопа-гну – представители животного мира саванн

1) Южной Америки

2) Австралии

3) Африки

4) Евразии

190. В каком океане проходит течение Гольфстрим?

1) Тихий

2) Индийский

3) Атлантический

4) Северный Ледовитый

191. Какая из перечисленных горных пород – магматическая по происхождению?

1) мел

2) известняк

3) пемза

4) мрамор

192. В каком из перечисленных морей солёность поверхностных вод наибольшая?

1) Красное

2) Чёрное

3) Средиземное

4) Карибское

193. Носороги и зебры – обитатели

1) переменного-влажных лесов

2) саванн и редколесий

3) влажных вечнозелёных лесов

4) жестколистных лесов и кустарников

194. Какие из перечисленных пар животных – типичные представители животного мира саванн Африки?

1) скунс и бизон

2) бегемот и носорог

3) тигр и панда

4) коала и утконос



ГЕОСОКОЛ

Создано ГЕОСОКОЛ: <https://vk.com/geosokolov>

195. Воздух тропосферы более чем наполовину состоит

- 1) из азота
- 2) из кислорода
- 3) из углекислого газа
- 4) из водорода

196. Типичными представителями животного мира какого из перечисленных материков являются жираф и носорог?

- 1) Северная Америка
- 2) Евразия
- 3) Африка
- 4) Южная Америка

197. Какое из перечисленных океанических течений тёплое?

- 1) Бенгельское
- 2) Гольфстрим
- 3) Перуанское
- 4) Калифорнийское

198. На каком материке находится самая высокая на земном шаре горная система?

- 1) Африка
- 2) Южная Америка
- 3) Евразия
- 4) Северная Америка

199. Какая из перечисленных горных пород – осадочная по происхождению?

- 1) мрамор
- 2) гипс
- 3) гнейс
- 4) кварцит

200. На каком материке в естественных условиях обитает коала?

- 1) Евразия
- 2) Южная Америка
- 3) Африка
- 4) Австралия

201. В каком океане находится самая глубокая впадина Мирового океана?

- 1) Северный Ледовитый
- 2) Индийский

Создано ГЕОСОКОЛ: <https://vk.com/geosokolov>

- 3) Атлантический
- 4) Тихий

202. В каком океане находится самая глубокая впадина Мирового океана?

- 1) Северный Ледовитый
- 2) Индийский
- 3) Атлантический
- 4) Тихий

203. В какой из перечисленных горных систем количество высотных поясов наибольшее?

- 1) Кордильеры
- 2) Альпы
- 3) Кавказ
- 4) Алтай

204. Представителем животного мира какого из перечисленных материков является бизон?

- 1) Северная Америка
- 2) Австралия
- 3) Африка
- 4) Южная Америка

205. Типичным представителем животного мира какого из перечисленных материков является зебра?

- 1) Южная Америка
- 2) Австралия
- 3) Африка
- 4) Евразия

206. Какое из перечисленных океанических течений холодное?

- 1) Перуанское
- 2) Гольфстрим
- 3) Бразильское
- 4) Гвинейское

207. Утконос и ехидна в естественных условиях обитают только на материке

- 1) Северная Америка
- 2) Австралия
- 3) Южная Америка
- 4) Африка



ГЕОСОКОЛ

208. В какой из перечисленных горных систем количество высотных поясов наибольшее?

- 1) Гималаи
- 2) Альпы
- 3) Пиренеи
- 4) Атлас

209. Зебра и носорог – обитатели саванны

- 1) Южной Америки
- 2) Африки
- 3) Северной Америки
- 4) Австралии

210. На каком материке расположен самый высокий водопад на земном шаре?

- 1) Африка
- 2) Северная Америка
- 3) Евразия
- 4) Южная Америка

211. Какая из перечисленных пустынь расположена в Южном полушарии?

- 1) Атакама
- 2) Сахара
- 3) Гоби
- 4) Руб-эль-Хали

212. Какое из перечисленных озёр бессточное?

- 1) Ладожское
- 2) Эйр-Норт
- 3) Онежское
- 4) Байкал

213. Представителем животного мира какого из перечисленных материков является кенгуру? 1)

- Южная Америка
- 2) Австралия
- 3) Африка
- 4) Евразия

214. Какая из перечисленных горных пород относится к метаморфическим по происхождению?

- 1) базальт
- 2) гранит
- 3) мрамор



ГЕОСОКОЛ

4) известняк

215. Какая из перечисленных горных пород – магматическая по происхождению?

- 1) известняк
- 2) глина
- 3) мрамор
- 4) базальт

216. На каком материке находится самое глубокое озеро на земном шаре?

- 1) Африка
- 2) Южная Америка
- 3) Евразия
- 4) Северная Америка

217. Типичным представителем растительного мира какого из перечисленных материков является секвойя?

- 1) Австралия
- 2) Южная Америка
- 3) Северная Америка
- 4) Африка

218. Какое из перечисленных океанических течений тёплое?

- 1) Перуанское
- 2) Куроисио
- 3) Лабрадорское
- 4) Бенгельское

219. Уссурийский тигр и панда – типичные представители животного мира

- 1) Северной Америки
- 2) Австралии
- 3) Евразии
- 4) Южной Америки

220. Какая из перечисленных горных пород – осадочная по происхождению?

- 1) базальт
- 2) мел
- 3) гранит
- 4) мрамор

221. Гиппопотам и павиан – представители животного мира



ГЕОСОКОЛ

Создано ГЕОСОКОЛ: <https://vk.com/geosokolov>

- 1) Австралии
- 2) Африки
- 3) Евразии
- 4) Южной Америки

222. Какая из перечисленных горных пород – метаморфическая по происхождению?

- 1) гранит
- 2) кварцит
- 3) мел
- 4) известняк

223. Течение Гольфстрим проходит вдоль побережья

- 1) Антарктиды
- 2) Южной Америки
- 3) Австралии
- 4) Северной Америки

224. Коала и страус эму в естественных условиях обитают на материке

- 1) Южная Америка
- 2) Северная Америка
- 3) Африка
- 4) Австралия

225. Какая из перечисленных горных пород – осадочная органическая по происхождению?

- 1) пемза
- 2) глина
- 3) гипс
- 4) известняк

226. Представителем животного мира какого из перечисленных материков является утконос? 1)

- Южная Америка
- 2) Австралия
- 3) Африка
- 4) Евразия

227. Какая эра геологического летоисчисления из перечисленных – самая древняя?

- 1) кайнозойская
- 2) мезозойская
- 3) архейская
- 4) палеозойская

228. Какое из перечисленных озёр высокогорное?

- 1) Ладожское
- 2) Мичиган
- 3) Онежское
- 4) Титикака

229. На каком из перечисленных островов есть действующие вулканы?

- 1) Мадагаскар
- 2) Шри-Ланка
- 3) Исландия
- 4) Сахалин

230. Гепарды – типичные представители животного мира

- 1) Австралии
- 2) Северной Америки
- 3) Южной Америки
- 4) Африки

231. Какое из перечисленных озёр имеет вулканическое происхождение?

- 1) Кроноцкое
- 2) Онежское
- 3) Ладожское
- 4) Ильмень

232. Индийский океан омывает западное побережье

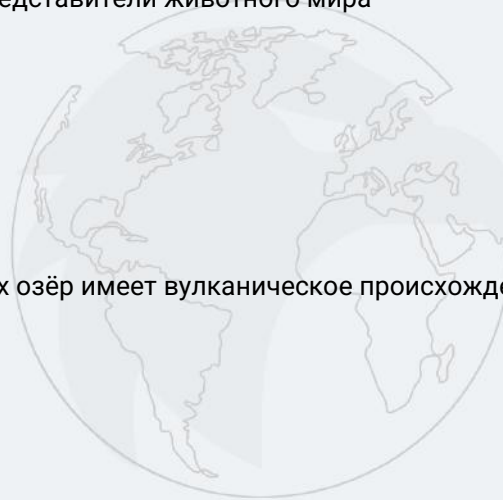
- 1) Евразии
- 2) Южной Америки
- 3) Австралии
- 4) Африки

233. Представителем животного мира какого из перечисленных материков является гиппопотам?

- 1) Южная Америка
- 2) Австралия
- 3) Африка
- 4) Евразия

234. На каком материке в естественных условиях обитает утконос?

- 1) Евразия
- 2) Северная Америка



ГЕОСОКОЛ

3) Южная Америка

4) Австралия

235. Представителем животного мира какого из перечисленных материков является коала?

1) Австралия

2) Евразия

3) Африка

4) Южная Америка

236. Какая из перечисленных горных пород – магматическая по происхождению?

1) базальт

2) песчаник

3) сланец

4) кварцит

237. Какое из перечисленных озёр солёное?

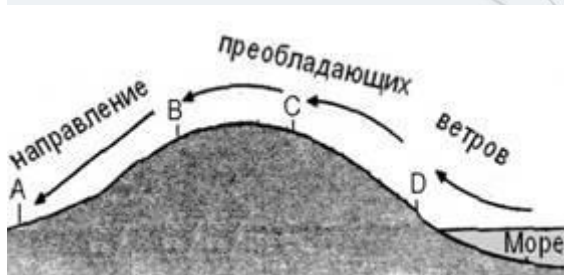
1) Ладожское

2) Баскунчак

3) Онежское

4) Байкал

238. В каком из обозначенных на рисунке буквами пунктов будет выпадать наименьшее количество атмосферных осадков?



1) A

2) B

3) C

4) D

239. На территории какого из перечисленных государств наиболее вероятны землетрясения? 1)

Норвегия

2) ЮАР

3) Уругвай

4) Чили

Создано ГЕОСОКОЛ: <https://vk.com/geosokolov>

240. Нормальное атмосферное давление на уровне моря составляет (в мм рт. ст.)

- 1) 780
- 2) 770
- 3) 760
- 4) 750

241. На какой из перечисленных параллелей 22 июня Солнце в течение суток не поднимется над горизонтом?

- 1) 70° с.ш.
- 2) 23° с.ш.
- 3) 23° ю.ш.
- 4) 70° ю.ш.

242. Типичными растениями какой природной зоны являются ковыль и типчак?

- 1) саванн
- 2) степей
- 3) влажных экваториальных лесов
- 4) тундры

243. На территории какого из перечисленных государств наиболее вероятны сильные землетрясения?

- 1) Германия
- 2) Индонезия
- 3) Польша
- 4) Норвегия

244. Баобаб и бутылочное дерево являются характерными представителями растительности природной зоны

- 1) широколиственных лесов
- 2) смешанных лесов
- 3) саванн и редколесий
- 4) тайги

245. На какой из перечисленных параллелей 22 декабря Солнце в течение суток не опускается за горизонт?

- 1) 70° с.ш.
- 2) 23° с.ш.
- 3) 23° ю.ш.
- 4) 70° ю.ш.

246. На территории какой из перечисленных стран имеются действующие вулканы?

- 1) Швейцария
- 2) Франция
- 3) Мексика
- 4) Финляндия

247. Какая из перечисленных горных пород является метаморфической?

- 1) глина
- 2) известняк
- 3) мрамор
- 4) гранит

248. В каких почвах содержание гумуса наибольшее?

- 1) подзолистых
- 2) дерново-подзолистых
- 3) каштановых
- 4) чернозёмных

249. Какая из перечисленных горных пород относится к числу метаморфических?

- 1) гранит
- 2) известняк
- 3) мрамор
- 4) каменная соль

250. Какое соответствие «природная зона – тип почвы, характерный для неё» является верным?

- 1) тайга – краснозёмы
- 2) широколиственные леса – подзолистые
- 3) степи – чернозёмы
- 4) пустыни – каштановые

251. На какой из перечисленных параллелей в день летнего солнцестояния продолжительность светового дня наименьшая?

- 1) 30° с.ш.
- 2) 40° с.ш.
- 3) 50° с.ш.
- 4) 60° с.ш.

252. В какой части света находятся самые высокие горы на Земле?

- 1) Азия
- 2) Америка
- 3) Африка
- 4) Европа

253. На территории какого из перечисленных полуостровов имеются действующие вулканы? 1)

- Апеннинский
- 2) Аравийский
- 3) Скандинавский
- 4) Таймыр

254. На территории какой из перечисленных стран имеются действующие вулканы?

- 1) Австралия
- 2) Германия
- 3) Италия
- 4) Норвегия

255. На территории какой из перечисленных стран наиболее вероятны землетрясения?

- 1) Финляндия
- 2) Белоруссия
- 3) Австралия
- 4) Мексика

256. В какой из перечисленных природных зоны почвы обладают наибольшим естественным плодородием?

- 1) смешанные леса
- 2) тайга
- 3) степи
- 4) тундра

257. Какая из перечисленных горных стран имеет наибольшую высоту?

- 1) Алтай
- 2) Альпы
- 3) Памир
- 4) Саяны

258. Для какой из перечисленных природных зон характерно недостаточное увлажнение?

- 1) тундра
- 2) тайга
- 3) степи
- 4) широколиственные леса

259. В какой из перечисленных стран в заповедниках можно встретить носорогов?

- 1) Австралия
- 2) Бразилия
- 3) Мексика
- 4) ЮАР



ГЕОСОКОЛ

Создано ГЕОСОКОЛ: <https://vk.com/geosokolov>

260. 22 июня в полдень в г. Астрахань Солнце находится на высоте 67° над горизонтом. Над территорией какой из перечисленных стран в этот день Солнце в полдень можно наблюдать на такой же высоте над горизонтом?

- 1) Ангола
- 2) Марокко
- 3) Нигерия
- 4) Кения

261. На какой из перечисленных низменностей площадь болот и заболоченных территорий наибольшая?

- 1) Северо-Германская
- 2) Западно-Сибирская
- 3) Месопотамская
- 4) Ла-Платская

262. На какой из перечисленных параллелей 22 декабря продолжительность светового дня больше продолжительности ночи?

- 1) 50° с. ш.
- 2) 20° с. ш.
- 3) 0° ш.
- 4) 40° ю. ш.

263. На каком из перечисленных островов есть действующие вулканы?

- 1) Исландия
- 2) Мадагаскар
- 3) Шри-Ланка
- 4) Тасмания

264. Какой океан является самым глубоким?

- 1) Атлантический
- 2) Индийский
- 3) Тихий
- 4) Северный Ледовитый

265. На какой из перечисленных параллелей 22 июня продолжительность светового дня больше продолжительности ночи?

- 1) 40° с. ш.
- 2) 0° ш.
- 3) 20° с. ш.
- 4) 66° ю. ш.

266. Какая из перечисленных горных пород является осадочной по происхождению?

- 1) гранит
- 2) базальт
- 3) кварцит
- 4) песок

267. В каком океане проходит течение Гольфстрим?

- 1) Тихий
- 2) Индийский
- 3) Атлантический
- 4) Северный Ледовитый

268. Какое из перечисленных морей имеет наибольшую солёность поверхностных вод?

- 1) Баренцево
- 2) Карское
- 3) Средиземное
- 4) Красное

269. На каком из перечисленных полуостровов Евразии находятся действующие вулканы?

- 1) Чукотский
- 2) Апеннинский
- 3) Скандинавский
- 4) Корея

270. Какая из перечисленных горных пород является осадочной?

- 1) кварцит
- 2) известняк
- 3) мрамор
- 4) гранит

271. На каком из перечисленных островов имеются действующие вулканы?

- 1) Мадагаскар
- 2) Ирландия
- 3) Куба
- 4) Хонсю

272. Какая часть приходится на долю пресных вод в общем объёме гидросферы?

- 1) 3%
- 2) 12%

Создано ГЕОСОКОЛ: <https://vk.com/geosokolov>

3) 24%

4) 48%

273. На территории какой из перечисленных стран имеется пустыня, расположенная в тропических широтах вдоль океанического побережья?

- 1) Китай
- 2) Египет
- 3) Туркменистан
- 4) Чили

274. Атмосферный воздух более чем наполовину состоит из

- 1) кислорода
- 2) азота
- 3) водорода
- 4) углекислого газа

275. На каком материке расположена точка с наименьшей высотой над уровнем моря?

- 1) Австралия
- 2) Африка
- 3) Евразия
- 4) Северная Америка

276. На территории какого из перечисленных островов имеются действующие вулканы?

- 1) Сицилия
- 2) Ирландия
- 3) Шри-Ланка
- 4) Тасмания

277. Какая из перечисленных горных пород является осадочной?

- 1) каменная соль
- 2) базальт
- 3) кварцит
- 4) мрамор

278. Какая из перечисленных горных пород является осадочной по происхождению?

- 1) известняк
- 2) пемза
- 3) базальт
- 4) мрамор



ГЕОСОКОЛ

279. На территории какого из перечисленных государств наиболее вероятны извержения вулканов?

- 1) Великобритания
- 2) Ирландия
- 3) Исландия
- 4) Бангладеш

280. Почвы какой из перечисленных природных зон обладают наибольшим естественным плодородием?

- 1) влажные экваториальные леса
- 2) степи
- 3) смешанные леса
- 4) тайга

281. Какое соответствие «природная зона – тип почвы, характерный для неё» является верным?

- 1) широколиственные леса – краснозёмы
- 2) степи – дерново-подзолистые
- 3) тайга – подзолистые
- 4) пустыни – каштановые

282. Поверхности какого из перечисленных морей имеют наибольшую солёность?

- 1) Балтийское
- 2) Красное
- 3) Северное
- 4) Чёрное

283. Устойчивая малооблачная погода характерна для территорий, находящихся под влиянием

- 1) холодных атмосферных фронтов
- 2) тёплых атмосферных фронтов
- 3) циклонов
- 4) антициклонов

284. 22 декабря полярная ночь наблюдается на

- 1) островах Земля Франца-Иосифа
- 2) полуострове Юкатан
- 3) полуострове Камчатка
- 4) островах Новая Зеландия

285. На территории какого из перечисленных островов наиболее вероятны землетрясения?

- 1) Мадагаскар

Создано ГЕОСОКОЛ: <https://vk.com/geosokolov>

- 2) Суматра
- 3) Шри-Ланка
- 4) Тасмания

286. На каком из перечисленных материков протекает река Конго?

- 1) Австралия
- 2) Северная Америка
- 3) Африка
- 4) Южная Америка

287. На территории какой из перечисленных стран также имеются действующие вулканы?

- 1) Чехия
- 2) Япония
- 3) Австралия
- 4) Монголия

288. В каком из перечисленных городов 22 декабря продолжительность светового дня наибольшая?

- 1) Рио-де-Жанейро
- 2) Париж
- 3) Стамбул
- 4) Москва

289. На каком материке находится река Миссисипи?

- 1) Евразия
- 2) Австралия
- 3) Южная Америка
- 4) Северная Америка

290. На территории какого из перечисленных островов имеются действующие вулканы?

- 1) Суматра
- 2) Мадагаскар
- 3) Шри-Ланка
- 4) Тасмания

291. На территории какого из перечисленных государств наиболее вероятны извержения вулканов?

- 1) Италия
- 2) Германия
- 3) Польша



ГЕОСОКОЛ

4) Монголия

292. На каком материке находится Ниагарский водопад?

- 1) Евразия
- 2) Африка
- 3) Северная Америка
- 4) Австралия

293. На каком материке находятся горы Кордильеры?

- 1) Евразия
- 2) Африка
- 3) Северная Америка
- 4) Австралия

294. На долю кислорода в составе воздуха приходится около

- 1) 89%
- 2) 78%
- 3) 53%
- 4) 21%

295. Над каким из перечисленных островов 23 сентября в полдень по местному времени Солнце находится выше всего над горизонтом?

- 1) Новая Гвинея
- 2) Ньюфаундленд
- 3) Сицилия
- 4) Куба

296. На территории какой из перечисленных стран имеется пустыня, расположенная в тропических широтах вдоль океанического побережья?

- 1) Китай
- 2) Египет
- 3) Турция
- 4) Намибия

297. Над каким из перечисленных островов 22 июня в полдень по местному времени Солнце находится выше всего над горизонтом?

- 1) Мадагаскар
- 2) Куба
- 3) Новая Гвинея
- 4) Шри-Ланка



ГЕОСОКОЛ

298. На территории какого из перечисленных государств наиболее вероятны извержения вулканов?

- 1) Норвегия
- 2) Саудовская Аравия
- 3) Германия
- 4) Эквадор

299. Какая из перечисленных рек впадает в Северное море?

- 1) Волга
- 2) Рейн
- 3) Дунай
- 4) Нева

300. На территории какого из перечисленных островов наиболее вероятны сильные землетрясения?

- 1) Ирландия
- 2) Сахалин
- 3) Мадагаскар
- 4) Шри-Ланка

301. На каком материке находится озеро Чад?

- 1) Евразия
- 2) Африка
- 3) Северная Америка
- 4) Австралия

302. На каком из перечисленных материков нет действующих вулканов?

- 1) Южная Америка
- 2) Австралия
- 3) Антарктида
- 4) Северная Америка

303. На каком материке находится вулкан Камерун?

- 1) Австралия
- 2) Северная Америка
- 3) Африка
- 4) Южная Америка



ГЕОСОКОЛ

Создано ГЕОСОКОЛ: <https://vk.com/geosokolov>

304. Над каким из перечисленных островов 21 марта в полдень по местному времени Солнце находится выше всего над горизонтом?

- 1) Мадагаскар
- 2) Куба
- 3) Калимантан
- 4) Тасмания

305. Как называется материк, по территории которого протекает река Ганг?

- 1) Евразия
- 2) Африка
- 3) Северная Америка
- 4) Австралия

306. Для растительности какой природной зоны характерно дерево баобаб?

- 1) влажных экваториальных лесов
- 2) саванн
- 3) жестколистных лесов и кустарников
- 4) смешанных и широколиственных лесов

307. В каких из перечисленных горных систем есть действующие вулканы?

- 1) Большой Водораздельный хребет
- 2) Алтай
- 3) Кордильеры
- 4) Скандинавские

308. На территории какого из перечисленных островов наиболее вероятны землетрясения?

- 1) Шри-Ланка
- 2) Мадагаскар
- 3) Сахалин
- 4) Ирландия

309. Какая из перечисленных горных пород является магматической?

- 1) мрамор
- 2) каменная соль
- 3) известняк
- 4) гранит

310. На какой из перечисленных параллелей 22 декабря продолжительность ночи больше продолжительности светового дня?

- 1) 40° с. ш.

- 2) 20° ю. ш.
- 3) 0° ш.
- 4) 50° ю. ш.

311. На какой из перечисленных параллелей 1 июня наблюдается полярная ночь?

- 1) 66°ю. ш.
- 2) 66°с. ш.
- 3) 86°ю. ш.
- 4) 86°с. ш.

312. Какая из перечисленных горных пород образовалась в результате застывания магмы?

- 1) базальт
- 2) известняк
- 3) мрамор
- 4) каменная соль

313. Какая из перечисленных горных пород является магматической?

- 1) кварцит
- 2) известняк
- 3) мрамор
- 4) гранит

314. В какой из перечисленных горных стран количество высотных поясов наибольшее?

- 1) Альпы
- 2) Аппалачи
- 3) Саяны
- 4) Урал

315. Повышенное атмосферное давление характерно для погодных условий территорий, находящихся под влиянием

- 1) циклонов
- 2) антициклонов
- 3) холодных атмосферных фронтов
- 4) тёплых атмосферных фронтов

316. Какое соответствие «природная зона – тип почвы, характерный для неё» является верным?

- 1) тайга – подзолистые
- 2) смешанные и широколиственные леса – чернозёмы
- 3) пустыни – дерново-подзолистые
- 4) тундра – каштановые

317. Дерево секвойя является уникальным представителем растительного мира

- 1) Африки
- 2) Австралии
- 3) Северной Америки
- 4) Южной Америки

318. Для климата какой из перечисленных природных зон характерна минимальная годовая амплитуда среднемесячных температур воздуха?

- 1) степи и лесостепи
- 2) жёстколистные вечнозелёные леса и кустарники
- 3) пустыни и полупустыни
- 4) влажные экваториальные леса

319. В пределах какого из перечисленных климатических поясов в летнее время преобладают экваториальные воздушные массы?

- 1) умеренный
- 2) субтропический
- 3) тропический
- 4) субэкваториальный

320. Расход электроэнергии на уличное освещение населённых пунктов зависит от времени, на которое его приходится включать в тёмное время суток. В каком из перечисленных городов 1 февраля уличное освещение необходимо включать на наибольшее время?

- 1) Москва
- 2) Архангельск
- 3) Омск
- 4) Владивосток

321. На каком материке в естественных условиях обитают муравьед и ленивец?

- 1) Австралия
- 2) Евразия
- 3) Северная Америка
- 4) Южная Америка

322. На каком материке находится самое глубокое в мире озеро?

- 1) Африка
- 2) Южная Америка
- 3) Евразия
- 4) Северная Америка

ГЕОСОКОЛ

323. В какой части света находится самое высокое и большое нагорье на Земле?

- 1) Австралия
- 2) Америка
- 3) Европа
- 4) Азия

324. Какое из перечисленных морей имеет наибольшую солёность поверхностных вод?

- 1) Баренцево
- 2) Карское
- 3) Берингово
- 4) Красное

325. Расход электроэнергии на уличное освещение населённых пунктов зависит от времени, на которое его приходится включать в тёмное время суток. В каком из перечисленных городов 1 марта уличное освещение необходимо включать на наибольшее время?

- 1) Москва
- 2) Мурманск
- 3) Тюмень
- 4) Красноярск

326. На каком материке находится самая полноводная река земного шара?

- 1) Африка
- 2) Южная Америка
- 3) Евразия
- 4) Северная Америка

327. Для какой природной зоны характерно наибольшее видовое разнообразие растительного и животного мира?

- 1) тайга
- 2) степь и лесостепь
- 3) тундра и лесотундра
- 4) влажные экваториальные леса

328. Какая из перечисленных горных пород – осадочная по происхождению?

- 1) известняк
- 2) базальт
- 3) пемза
- 4) гранит

329. Какой из перечисленных действующих вулканов Евразии – самый высокий?

- 1) Этна
- 2) Везувий
- 3) Фудзияма
- 4) Ключевская Сопка

330. На территории какого из перечисленных островов наиболее вероятны сильные землетрясения?

- 1) Мадагаскар
- 2) Хоккайдо
- 3) Тасмания
- 4) Шри-Ланка

331. Пустыня Намиб находится на побережье Атлантического океана, омывается водами Бенгельского течения, несущего более холодные воды в тропические широты. На территории пустыни созданы национальные парки. Один из них – «Берег Скелетов». Здесь десятилетиями не бывает дождей, зато густой туман – обычное явление, так же как и бризы, регулярно возникающие на побережье. Какое из перечисленных течений является холодным и способствует формированию пустыни на материке, вдоль побережья которого оно проходит? 1) Гольфстрим

- 2) Перуанское
- 3) Бразильское
- 4) Северо-Атлантическое

332. На территории какого из перечисленных государств наиболее вероятны землетрясения?

- 1) Ангола
- 2) Финляндия
- 3) Швеция
- 4) Чили

333. Климат этой части западного побережья Южной Америки во многом зависит от холодного Перуанского течения. Здесь находится одно из самых засушливых мест на Земле – пустыня Атакама, где по несколько лет не выпадает ни капли дождя. Так, среднегодовой уровень атмосферных осадков в местности Калама (22° ю.ш. 69° з.д.) равен нулю. Однако скопившаяся в самых нижних слоях тропосферы влага образует туманы, вызывающие морось – «гаруа». Они характерны для побережья Перу, Эквадора и севера Чили. Ветры, днём дующие с океана на сушу, являются основным источником поступления влаги для скудной растительности этой части материка. Образование какой из перечисленных пустынь связано с холодным течением?

- 1) Гоби
- 2) Ливийская
- 3) Намиб

4) Кызылкум

334. На территории какого из перечисленных государств наиболее вероятны сильные землетрясения?

- 1) Австралия
- 2) Белоруссия
- 3) Новая Зеландия
- 4) Финляндия

335. Какой из перечисленных городов – столица государства?

- 1) Александрия
- 2) Шанхай
- 3) Карачи
- 4) Мехико

336. Какой из перечисленных островов имеет наибольшую площадь территории?

- 1) Ирландия
- 2) Шри-Ланка
- 3) Огненная Земля
- 4) Мадагаскар

337. В какой из перечисленных стран численность населения наибольшая?

- 1) Бразилия
- 2) Индонезия
- 3) США
- 4) Россия

338. Какая из перечисленных рек Европы наиболее протяжённая?

- 1) Волга
- 2) Днепр
- 3) Дон
- 4) Печора

339. Какой из перечисленных городов – столица государства?

- 1) Венеция
- 2) Марсель
- 3) Нью-Йорк
- 4) Мадрид

340. Численность населения какой из перечисленных стран наименьшая?



ГЕОСОКОЛ

Создано ГЕОСОКОЛ: <https://vk.com/geosokolov>

- 1) Индия
- 2) Австралия
- 3) Индонезия
- 4) США

341. В какой из перечисленных стран численность населения наибольшая?

- 1) США
- 2) Россия
- 3) Германия
- 4) Япония

342. Какая из перечисленных стран – крупнейшая по площади территории?

- 1) Канада
- 2) Казахстан
- 3) Индия
- 4) Аргентина

343. Какой из перечисленных городов – столица государства?

- 1) Одесса
- 2) Марсель
- 3) Лондон
- 4) Нью-Йорк

344. Какой из перечисленных городов – столица государства?

- 1) Шанхай
- 2) Милан
- 3) Лиссабон
- 4) Марсель

345. В каком из перечисленных городов численность населения наибольшая?

- 1) Сидней
- 2) Рим
- 3) Мехико
- 4) Санкт-Петербург

346. В какой из перечисленных стран численность населения наибольшая?

- 1) Бразилия
- 2) Россия
- 3) США
- 4) Япония



ГЕОСОКОЛ

347. В какой из перечисленных стран численность населения наименьшая?

- 1) Индонезия
- 2) Россия
- 3) Индия
- 4) США

348. В какой из перечисленных стран численность населения наибольшая?

- 1) Индия
- 2) Россия
- 3) Бразилия
- 4) Австралия

349. Какой из перечисленных островов находится в экваториальном климатическом поясе?

- 1) Мадагаскар
- 2) Калимантан
- 3) Куба
- 4) Тасмания

350. На каком материке проживает наибольшая часть населения мира?

- 1) Африка
- 2) Евразия
- 3) Северная Америка
- 4) Южная Америка

351. Какой из перечисленных городов – столица государства?

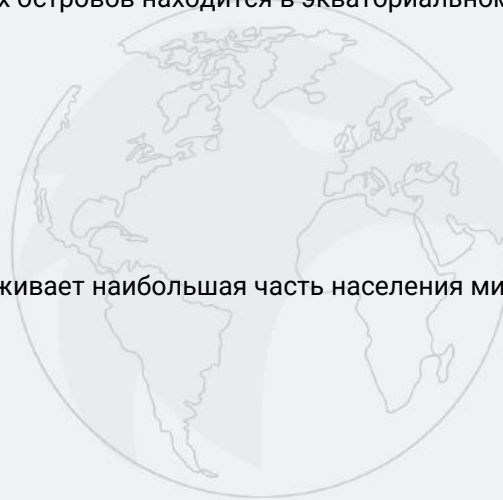
- 1) Нью-Йорк
- 2) Гамбург
- 3) Прага
- 4) Венеция

352. На территории какой из перечисленных стран находится бóльшая часть самой обширной по площади низменности на Земле?

- 1) США
- 2) Китай
- 3) Бразилия
- 4) Канада

353. Какая из перечисленных стран находится в двух частях света?

- 1) Бразилия



ГЕОСОКОЛ

Создано ГЕОСОКОЛ: <https://vk.com/geosokolov>

- 2) Россия
- 3) Индия
- 4) Алжир

354. В какой из перечисленных стран численность населения наибольшая?

- 1) Германия
- 2) США
- 3) Канада
- 4) Австралия

355. Какая из перечисленных стран – крупнейшая по площади территории?

- 1) Австралия
- 2) Мексика
- 3) Индия
- 4) Аргентина

356. Какой из перечисленных городов – столица государства?

- 1) Нью-Йорк
- 2) Монреаль
- 3) Сидней
- 4) Вашингтон

357. Типичными представителями животного мира Северной Америки являются

- 1) скунс и бизон
- 2) бегемот и носорог
- 3) тигр и панда
- 4) коала и утконос

ГЕОСОКОЛ

358. В какой из перечисленных стран численность населения наибольшая?

- 1) Россия
- 2) Индия
- 3) США
- 4) Япония

359. В какой из перечисленных стран численность населения наибольшая?

- 1) США
- 2) Россия
- 3) Великобритания
- 4) Япония

Создано ГЕОСОКОЛ: <https://vk.com/geosokolov>

360. В какой из перечисленных стран численность населения наибольшая?

- 1) Индонезия
- 2) Бразилия
- 3) США
- 4) Индия

361. Какая из перечисленных стран находится в двух частях света?

- 1) Бразилия
- 2) Турция
- 3) Китай
- 4) Великобритания

362. Какие из перечисленных представителей животного мира в естественных условиях обитают в Австралии?

- 1) жираф и бегемот
- 2) утконос и ехидна
- 3) буйвол и слон
- 4) лама и бизон

363. Какой из перечисленных городов является столицей государства?

- 1) Марсель
- 2) Рио-де-Жанейро
- 3) Мадрид
- 4) Дрезден

364. В каких из перечисленных горных систем есть действующие вулканы?

- 1) Большой барьерный риф
- 2) Алтай
- 3) Кордильеры
- 4) Скандинавские

365. Какой из материков является наибольшим по размерам территории?

- 1) Африка
- 2) Южная Америка
- 3) Евразия
- 4) Северная Америка

366. В какой части света проживает бóльшая часть населения мира?

- 1) Африка
- 2) Азия



ГЕОСОКОЛ

- 3) Америка
- 4) Европа

367. Частью территории какой страны является о. Гренландия?

- 1) США
- 2) Россия
- 3) Дания
- 4) Канада

368. Какой полуостров соответствует следующему описанию: «Расположен в Северном полушарии, омывается водами третьего по размерам океана. Западную и центральную часть полуострова занимают плоскогорья и плато, в восточной части располагается низменность. Большая часть его территории находится в тропическом климатическом поясе, преобладают пустынные ландшафты.»?

- 1) Индокитай
- 2) Аравийский
- 3) Индостан
- 4) Флорида

369. В какой части света находится самая большая по численности населения страна мира?

- 1) Азия
- 2) Америка
- 3) Африка
- 4) Европа

370. В какой из перечисленных стран численность населения наибольшая?

- 1) США
- 2) Россия
- 3) Индия
- 4) Бразилия

371. В какой из перечисленных стран основной продовольственной культурой является рис?

- 1) Канада
- 2) США
- 3) Китай
- 4) Россия

372. Предохранению речных вод от загрязнения способствует

- 1) осушение болот в бассейнах рек
- 2) размещение водоёмких производств на берегах рек



ГЕОСОКОЛ

Создано ГЕОСОКОЛ: <https://vk.com/geosokolov>

- 3) строительство плотин ГЭС
- 4) создание систем оборотного водоснабжения

373. В каком из перечисленных регионов России климатические условия наиболее благоприятны для использования ветровой электроэнергии?

- 1) Калининградская область
- 2) Забайкальский край
- 3) Республика Хакасия
- 4) Алтайский край

374. Какой из следующих видов энергетических ресурсов относится к числу возобновляемых источников энергии (ВИЭ)?

- 1) нефть
- 2) каменный уголь
- 3) природный газ
- 4) торф

375. Крайней восточной материковой точкой России является мыс

- 1) Канин Нос
- 2) Флигели
- 3) Челюскин
- 4) Дежнёва

376. Какой из перечисленных городов является наибольшим по численности населения?

- 1) Киров
- 2) Петрозаводск
- 3) Казань
- 4) Ставрополь

377. Какой из перечисленных городов является наибольшим по численности населения?

- 1) Сочи
- 2) Махачкала
- 3) Омск
- 4) Чита

378. В каком из перечисленных регионов России средняя месячная температура воздуха в январе наиболее высокая?

- 1) Мурманская область
- 2) Красноярский край
- 3) Республика Бурятия



ГЕОСОКОЛ

4) Томская область

379. Почему при движении от Казани на юг природная зона смешанных и широколиственных лесов сменяется природной зоной степей и лесостепей?

- 1) почвы становятся более плодородными
- 2) почвы становятся менее плодородными
- 3) климат становится более жарким и влажным
- 4) климат становится более жарким и сухим

380. С какой из перечисленных стран Россия имеет морскую границу?

- 1) Туркмения
- 2) Турция
- 3) США
- 4) Швеция

381. Какой из перечисленных регионов является важным районом добычи нефти в России?

- 1) Республика Карелия
- 2) Курская область
- 3) Республика Татарстан
- 4) Чувашская Республика

382. Какой из перечисленных городов является наибольшим по численности населения?

- 1) Нижний Новгород
- 2) Комсомольск-на-Амуре
- 3) Томск
- 4) Тюмень

383. Какой из перечисленных городов является наибольшим по численности населения?

- 1) Краснодар
- 2) Санкт-Петербург
- 3) Курск
- 4) Владивосток

384. Какая республика в составе Российской Федерации имеет наибольшую площадь территории?

- 1) Саха (Якутия)
- 2) Карелия
- 3) Коми
- 4) Бурятия

385. Большинство верующих какого из перечисленных народов России исповедуют ислам?



ГЕОСОКОЛ

Создано ГЕОСОКОЛ: <https://vk.com/geosokolov>

- 1) буряты
- 2) калмыки
- 3) татары
- 4) тувинцы

386. Какой из перечисленных городов является наибольшим по численности населения?

- 1) Казань
- 2) Ставрополь
- 3) Оренбург
- 4) Чита

387. В каком из перечисленных субъектов РФ доля болот в общей площади земельных угодий наибольшая?

- 1) Ханты-Мансийский АО – Югра
- 2) Ставропольский край
- 3) Ростовская область
- 4) Оренбургская область

388. В структуре импорта России преобладает продукция

- 1) машиностроения
- 2) металлургии
- 3) химической промышленности
- 4) лесной и целлюлозно-бумажной промышленности

389. Для какого из перечисленных регионов характерны формы рельефа, созданные деятельностью ледника?

- 1) Приморский край
- 2) Ленинградская область
- 3) Республика Башкортостан
- 4) Оренбургская область

390. В каком из перечисленных регионов России наиболее развито овцеводство?

- 1) Республика Калмыкия
- 2) Ленинградская область
- 3) Республика Марий Эл
- 4) Хабаровский край

391. Для какого из перечисленных регионов России могут представлять опасность тайфуны?

- 1) Краснодарский край
- 2) Приморский край

Создано ГЕОСОКОЛ: <https://vk.com/geosokolov>

3) Калининградская область

4) Мурманская область

392. На границе с какой из перечисленных стран находится крайняя западная точка территории России?

1) Финляндия

2) Латвия

3) Швеция

4) Польша

393. Западная Сибирь занимает первое место в России по

1) производству зерна

2) гидроэнергетическому потенциалу рек

3) добыче нефти

4) запасам железной руды

394. В каком из перечисленных городов среднемесячная температура воздуха января наиболее низкая?

1) Мурманск

2) Красноярск

3) Санкт-Петербург

4) Вологда

395. В каком из перечисленных городов численность населения наибольшая?

1) Нижний Новгород

2) Тверь

3) Смоленск

4) Ярославль

396. В каком из перечисленных регионов России существует наибольшая опасность сильных землетрясений?

1) Астраханская область

2) Республика Бурятия

3) Мурманская область

4) Республика Коми

397. В каком из перечисленных регионов России густота сети автомобильных дорог наибольшая?

1) Красноярский край

2) Вологодская область

3) Магаданская область



ГЕОСОКОЛ

4) Воронежская область

398. Для какого из перечисленных регионов России характерен муссонный климат?

- 1) Калининградская область
- 2) Мурманская область
- 3) Краснодарский край
- 4) Приморский край

399. Какой из перечисленных городов является наибольшим по численности населения?

- 1) Краснодар
- 2) Ставрополь
- 3) Казань
- 4) Хабаровск

400. С какой из перечисленных стран Россия имеет и сухопутную, и морскую границу?

- 1) Норвегия
- 2) Белоруссия
- 3) Китай
- 4) Монголия

401. Какое из следующих утверждений о географическом положении России верно?

- 1) Территория России расположена в двух частях света.
- 2) Территория России омывается водами четырёх океанов.
- 3) Крайняя западная точка территории России имеет западную долготу.
- 4) Крайняя южная точка территории России находится на границе с Грузией.

402. Самая высокая горная вершина в России находится на

- 1) Алтае
- 2) Кавказе
- 3) Камчатке
- 4) Урале

403. С какой из перечисленных стран Россия имеет сухопутную границу?

- 1) Армения
- 2) Белоруссия
- 3) Молдавия
- 4) Таджикистан

404. Для почв какой природной зоны России характерен наиболее мощный гумусовый горизонт?

- 1) смешанные леса

Создано ГЕОСОКОЛ: <https://vk.com/geosokolov>

- 2) степь
- 3) тайга
- 4) тундра

405. На границе с какой из перечисленных стран находится крайняя южная точка территории России?

- 1) Азербайджан
- 2) Казахстан
- 3) Монголия
- 4) Китай

406. Для какого из перечисленных регионов характерны формы рельефа, созданные деятельностью ледника?

- 1) Ленинградская область
- 2) Республика Татарстан
- 3) Чувашская Республика
- 4) Томская область

407. В каком из перечисленных регионов России почвы наиболее плодородны?

- 1) Вологодская область
- 2) Республика Коми
- 3) Краснодарский край
- 4) Мурманская область

408. Какой из перечисленных городов является наибольшим по численности населения?

- 1) Мурманск
- 2) Нижний Новгород
- 3) Оренбург
- 4) Владивосток

409. Какой из перечисленных народов, проживающих на территории России, наиболее многочисленный?

- 1) якуты
- 2) татары
- 3) коми
- 4) калмыки

410. Какой из перечисленных городов является наибольшим по численности населения?

- 1) Ярославль
- 2) Санкт-Петербург



ГЕОСОКОЛ

3) Владивосток

4) Уфа

411. Какое из вышеперечисленных морей является внутренним?

1) Чёрное

2) Баренцево

3) Карское

4) Восточно-Сибирское

412. В каком из перечисленных регионов России почвы наиболее плодородны?

1) Вологодская область

2) Республика Карелия

3) Белгородская область

4) Пермский край

413. В каком из перечисленных городов численность населения наибольшая?

1) Брянск

2) Самара

3) Смоленск

4) Рязань

414. В каком из перечисленных регионов России природные условия наиболее благоприятны для развития овцеводства?

1) Республика Коми

2) Республика Калмыкия

3) Мурманская область

4) Магаданская область

415. С какой из перечисленных стран Россия имеет сухопутную границу?

1) Болгария

2) Киргизия

3) Латвия

4) Турция

416. Какой из перечисленных городов является крупным центром цветной металлургии?

1) Липецк

2) Магнитогорск

3) Норильск

4) Череповец

417. В каком из перечисленных городов работает крупный металлургический комбинат?

- 1) Омск
- 2) Череповец
- 3) Самара
- 4) Уфа

418. Какой из перечисленных городов является наибольшим по численности населения?

- 1) Тула
- 2) Ставрополь
- 3) Екатеринбург
- 4) Хабаровск

419. В каком из перечисленных городов России средняя месячная температура воздуха в январе наиболее высокая?

- 1) Екатеринбург
- 2) Мурманск
- 3) Омск
- 4) Самара

420. В каком из регионов Поволжья находится крупное газоконденсатное месторождение?

- 1) Астраханская область
- 2) Республика Татарстан
- 3) Саратовская область
- 4) Чувашская Республика

421. В каком из перечисленных регионов России многолетняя мерзлота имеет наибольшее распространение?

- 1) Республика Карелия
- 2) Вологодская область
- 3) Магаданская область
- 4) Пермский край

422. С какой из перечисленных стран Россия имеет наибольшую по протяжённости сухопутную границу?

- 1) Украина
- 2) Монголия
- 3) Казахстан
- 4) Белоруссия



ГЕОСОКОЛ

423. Какая из перечисленных горных систем находится в области кайнозойской (альпийской) складчатости?

- 1) Верхоянский хребет
- 2) Урал
- 3) Саяны
- 4) Кавказ

424. В каком из перечисленных городов России средняя температура воздуха в январе наиболее низкая?

- 1) Мурманск
- 2) Петрозаводск
- 3) Верхоянск
- 4) Омск

425. С какой из перечисленных стран Россия имеет сухопутную границу?

- 1) Монголия
- 2) Республика Корея
- 3) Швеция
- 4) Япония

426. В каком из перечисленных городов численность населения наибольшая?

- 1) Смоленск
- 2) Тула
- 3) Омск
- 4) Владивосток

427. Какие из перечисленных островов входят в состав Российской Федерации?

- 1) архипелаг Шпицберген
- 2) Алеутские острова
- 3) архипелаг Земля Франца-Иосифа
- 4) Азорские острова

428. На каком полуострове расположена крайняя континентальная северная точка России?

- 1) Кольский
- 2) Чукотский
- 3) Ямал
- 4) Таймыр

429. На какой из перечисленных территорий России наиболее вероятны сильные землетрясения?

- 1) Кольский полуостров



ГЕОСОКОЛ

Создано ГЕОСОКОЛ: <https://vk.com/geosokolov>

- 2) Поволжье
- 3) Алтай
- 4) Урал

430. С какой из перечисленных стран Россия имеет сухопутную границу?

- 1) Армения
- 2) Азербайджан
- 3) Швеция
- 4) Узбекистан

431. В каком из перечисленных регионов России средняя температура воздуха в январе наиболее низкая?

- 1) Мурманская область
- 2) Забайкальский край
- 3) Республика Башкортостан
- 4) Вологодская область

432. Какое из перечисленных морей омывает территорию России?

- 1) Жёлтое
- 2) Северное
- 3) Средиземное
- 4) Берингово

433. Из какой природно-хозяйственной зоны и в какую попадёт путешественник, совершивший перелёт из Республики Карелия в Ростовскую область?

- 1) из зоны тайги в зону широколиственных лесов
- 2) из зоны тайги в зону степи
- 3) из зоны тундры в зону смешанных лесов
- 4) из зоны тундры в зону степи

434. В каком из перечисленных городов России среднегодовое количество атмосферных осадков наибольшее?

- 1) Омск
- 2) Якутск
- 3) Оренбург
- 4) Сочи

435. Какая из перечисленных горных систем России имеет наибольшую высоту?

- 1) Алтай
- 2) Саяны

- 3) Сихотэ-Алинь
- 4) Урал

436. На границе с какой из перечисленных стран находится крайняя западная точка территория России?

- 1) Белоруссия
- 2) Польша
- 3) Украина
- 4) Финляндия

437. С какой из перечисленных стран Россия имеет сухопутную границу?

- 1) Афганистан
- 2) Армения
- 3) Узбекистан
- 4) Норвегия

438. В каком из перечисленных регионов России наиболее вероятны сильные землетрясения?

- 1) Республика Алтай
- 2) Республика Карелия
- 3) Республика Коми
- 4) Ямало-Ненецкий АО

439. В каком из перечисленных регионов России зимы наиболее холодные?

- 1) Иркутская область
- 2) Калининградская область
- 3) Республика Татарстан
- 4) Ростовская область

440. На территории какого региона находится самая северная точка материковой части России?

- 1) Мурманская область
- 2) Ямало-Ненецкий АО
- 3) Красноярский край
- 4) Чукотский АО

441. В каком из перечисленных регионов России средняя температура воздуха в январе наиболее высокая?

- 1) Омская область
- 2) Пермский край
- 3) Хабаровский край
- 4) Калининградская область



ГЕОСОКОЛ

442. С какой из перечисленных стран Россия имеет сухопутную границу?

- 1) Молдавия
- 2) Норвегия
- 3) Туркмения
- 4) Швеция

443. В каком из перечисленных регионов России агроклиматические условия наиболее благоприятны для выращивания подсолнечника и кукурузы?

- 1) Республика Коми
- 2) Тверская область
- 3) Ростовская область
- 4) Пермский край

444. В каком из перечисленных регионов России почвы наиболее плодородны?

- 1) Липецкая область
- 2) Вологодская область
- 3) Псковская область
- 4) Новгородская область

445. В каком из перечисленных городов численность населения наибольшая?

- 1) Барнаул
- 2) Новосибирск
- 3) Иркутск
- 4) Якутск

446. Какой из перечисленных городов России расположен в области резко континентального климата умеренного климатического пояса?

- 1) Архангельск
- 2) Пермь
- 3) Хабаровск
- 4) Чита

447. Какие из перечисленных государств имеют сухопутную границу с Россией?

- 1) Эстония и Литва
- 2) Молдавия и Украина
- 3) Швеция и Армения
- 4) Туркменистан и Болгария

448. С какой из перечисленных стран Россия имеет сухопутную границу?



ГЕОСОКОЛ

Создано ГЕОСОКОЛ: <https://vk.com/geosokolov>

- 1) Армения
- 2) Азербайджан
- 3) Молдавия
- 4) Таджикистан

449. Какой из перечисленных городов России расположен в области муссонного климата умеренного климатического пояса?

- 1) Мурманск
- 2) Владивосток
- 3) Новороссийск
- 4) Калининград

450. С какой из перечисленных стран Россия имеет и сухопутную, и морскую границу?

- 1) Финляндия
- 2) Белоруссия
- 3) Китай
- 4) Монголия

451. В каком из перечисленных регионов России почвы обладают наибольшим естественным плодородием?

- 1) Вологодская область
- 2) Курская область
- 3) Красноярский край
- 4) Республика Карелия

452. Какой из перечисленных городов является наибольшим по численности населения?

- 1) Сочи
- 2) Омск
- 3) Иваново
- 4) Оренбург

453. В каком из перечисленных регионов России доля заболоченных земель в общей площади земельных угодий наибольшая?

- 1) Архангельская область
- 2) Алтайский край
- 3) Ростовская область
- 4) Кабардино-Балкарская Республика

454. Какой из перечисленных городов является наибольшим по численности населения?

- 1) Нальчик

Создано ГЕОСОКОЛ: <https://vk.com/geosokolov>

- 2) Рязань
- 3) Иркутск
- 4) Челябинск

455. В каком из перечисленных регионов России почвы обладают наибольшим естественным плодородием?

- 1) Краснодарский край
- 2) Вологодская область
- 3) Тюменская область
- 4) Пермский край

456. На территории какого субъекта РФ находится крайняя южная точка территории России?

- 1) Республика Алтай
- 2) Республика Дагестан
- 3) Приморский край
- 4) Забайкальский край

457. Оползневые процессы оказывают значительное влияние на рельеф отдельных частей территории нашей страны. На территории какого из перечисленных регионов России наиболее вероятны оползни?

- 1) Ленинградская область
- 2) Республика Калмыкия
- 3) Ставропольский край
- 4) Томская область

458. В каком из перечисленных городов России средняя температура воздуха в январе самая низкая?

- 1) Архангельск
- 2) Мурманск
- 3) Тюмень
- 4) Якутск

459. Коренными жителями какого из перечисленных полуостровов являются коряки?

- 1) Кольского
- 2) Таймыр
- 3) Камчатка
- 4) Ямал

460. В каком из перечисленных городов России зимы наиболее холодные?

- 1) Архангельск

- 2) Мурманск
- 3) Пермь
- 4) Чита

461. В каком из перечисленных городов численность населения наибольшая?

- 1) Смоленск
- 2) Астрахань
- 3) Казань
- 4) Сочи

462. Карты какого географического района России необходимо выбрать, чтобы подробно изучить особенности природы полуострова Таймыр?

- 1) Республики Саха (Якутия)
- 2) Красноярского края
- 3) Тюменской области
- 4) Ханты-Мансийского АО – Югры

463. В какой из перечисленных областей природные условия наиболее благоприятны для развития молочного животноводства?

- 1) Магаданская
- 2) Костромская
- 3) Мурманская
- 4) Курганская

464. В каком из перечисленных городов численность населения наибольшая?

- 1) Томск
- 2) Екатеринбург
- 3) Хабаровск
- 4) Иркутск

465. В каком из перечисленных городов численность населения наибольшая?

- 1) Астрахань
- 2) Архангельск
- 3) Волгоград
- 4) Иркутск

466. На территории какого из перечисленных регионов России велика вероятность сильных землетрясений?

- 1) Республика Коми
- 2) Республика Дагестан

Создано ГЕОСОКОЛ: <https://vk.com/geosokolov>

- 3) Тюменская область
- 4) Мурманская область

467. С какой из перечисленных стран Россия имеет сухопутную границу?

- 1) Азербайджан
- 2) Туркмения
- 3) Молдавия
- 4) Узбекистан

468. С какой из перечисленных стран Государственная граница Российской Федерации проходит только по равнинной территории?

- 1) Грузия
- 2) Азербайджан
- 3) Монголия
- 4) Эстония

469. С какой из перечисленных стран Россия имеет самую протяжённую сухопутную границу?

- 1) Финляндия
- 2) Казахстан
- 3) Украина
- 4) Китай

470. Какие почвы характерны для природной зоны тайги России?

- 1) бурозёмы
- 2) подзолы
- 3) серозёмы
- 4) чернозёмы

471. В каком из перечисленных городов численность населения наибольшая?

- 1) Казань
- 2) Рязань
- 3) Смоленск
- 4) Вологда

472. Какое из следующих утверждений о географическом положении России верно?

- 1) Территория России расположена на двух материках.
- 2) Территория России омывается водами четырёх океанов.
- 3) Крайняя восточная точка территории России находится в Западном полушарии.
- 4) Крайняя западная точка России находится на границе с Латвией.



ГЕОСОКОЛ

473. На границе с какой из перечисленных стран находится крайняя западная точка территории России?

- 1) Финляндия
- 2) Белоруссия
- 3) Польша
- 4) Норвегия

474. Какой из перечисленных городов является наибольшим по численности населения?

- 1) Томск
- 2) Иркутск
- 3) Тюмень
- 4) Новосибирск

475. В каком из перечисленных городов численность населения наибольшая?

- 1) Киров
- 2) Псков
- 3) Челябинск
- 4) Томск

476. Какой из перечисленных городов является наибольшим по численности населения?

- 1) Махачкала
- 2) Ярославль
- 3) Казань
- 4) Владивосток

477. Территория какого из перечисленных субъектов РФ находится в пределах древней платформы?

- 1) Белгородская область
- 2) Свердловская область
- 3) Республика Дагестан
- 4) Хабаровский край

478. Какой из перечисленных городов является наибольшим по численности населения?

- 1) Казань
- 2) Краснодар
- 3) Благовещенск
- 4) Ижевск

479. В какой из перечисленных областей зимы наиболее холодные?

- 1) Липецкая

Создано ГЕОСОКОЛ: <https://vk.com/geosokolov>

- 2) Магаданская
- 3) Псковская
- 4) Астраханская

480. Какая из перечисленных рек разливается летом во время муссонных дождей?

- 1) Дон
- 2) Зея
- 3) Иртыш
- 4) Северная Двина

481. В каком из перечисленных регионов России естественное плодородие почв наиболее высокое?

- 1) Ленинградская область
- 2) Красноярский край
- 3) Краснодарский край
- 4) Вологодская область

482. На территории какого из перечисленных регионов России наиболее вероятны оползни?

- 1) Предкавказье
- 2) Северо-Сибирская низменность
- 3) Прикаспийская низменность
- 4) Колымская низменность

483. С какой из перечисленных стран Россия имеет сухопутную границу?

- 1) Литва
- 2) Таджикистан
- 3) Швеция
- 4) Турция

484. В каком из перечисленных регионов России преобладают тундровые ландшафты?

- 1) Новосибирская область
- 2) Республика Бурятия
- 3) Ненецкий АО
- 4) Ханты-Мансийский АО – Югра

485. Какой из перечисленных городов является наибольшим по численности населения?

- 1) Кемерово
- 2) Ставрополь
- 3) Екатеринбург
- 4) Петрозаводск

486. С какой из перечисленных стран Россия имеет сухопутную границу?

- 1) Армения
- 2) Турция
- 3) Чехия
- 4) Норвегия

487. Территория какого из перечисленных субъектов Российской Федерации находится в пределах низменной равнины?

- 1) Астраханская область
- 2) Республика Саха (Якутия)
- 3) Свердловская область
- 4) Забайкальский край

488. С какой из перечисленных стран Россия имеет сухопутную границу?

- 1) Афганистан
- 2) Швеция
- 3) Таджикистан
- 4) Норвегия

489. Какое из перечисленных морей, омывающих побережье России, является внутренним?

- 1) Балтийское
- 2) Охотское
- 3) Баренцево
- 4) Восточно-Сибирское

490. В каком из перечисленных регионов России средние температуры воздуха в июле наиболее высокие?

- 1) Астраханская область
- 2) Калининградская область
- 3) Ростовская область
- 4) Камчатская область

491. Какой из перечисленных городов является наибольшим по численности населения?

- 1) Хабаровск
- 2) Новосибирск
- 3) Сыктывкар
- 4) Владимир



ГЕОСОКОЛ

Создано ГЕОСОКОЛ: <https://vk.com/geosokolov>

492. В каком из перечисленных регионов России средняя температура воздуха в июле самая высокая?

- 1) Астраханская область
- 2) Республика Карелия
- 3) Псковская область
- 4) Магаданская область

493. В каком из перечисленных городов России зимы наиболее холодные?

- 1) Архангельск
- 2) Владивосток
- 3) Мурманск
- 4) Красноярск

494. К сейсмоопасным зонам в России относится

- 1) Прибайкалье
- 2) Полуостров Ямал
- 3) Кольский полуостров
- 4) Прикаспийская низменность

495. В каком из перечисленных городов численность населения наибольшая?

- 1) Липецк
- 2) Екатеринбург
- 3) Петрозаводск
- 4) Хабаровск

496. На границе с какой из перечисленных стран находится крайняя южная точка территории России?

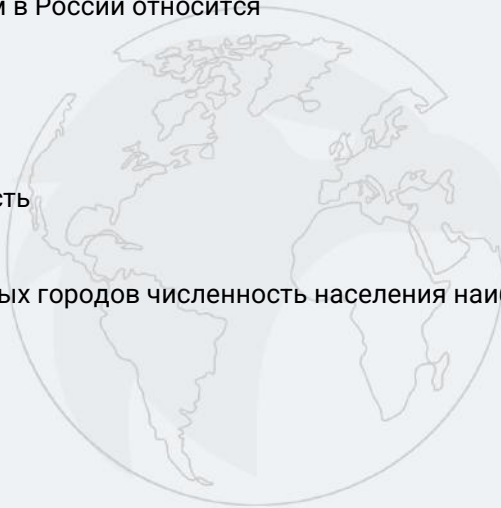
- 1) Азербайджан
- 2) Грузия
- 3) Казахстан
- 4) Китай

497. С какой из перечисленных стран Россия имеет сухопутную границу?

- 1) Армения
- 2) Румыния
- 3) Швеция
- 4) Эстония

498. В каком из перечисленных городов численность населения наибольшая?

- 1) Ижевск



ГЕОСОКОЛ

- 2) Пенза
- 3) Киров
- 4) Уфа

499. Какое утверждение о крайних точках территории России является верным?

- 1) Крайняя западная точка находится в Ленинградской области.
- 2) Крайняя восточная точка имеет восточную долготу.
- 3) Крайняя северная материковая точка находится на полуострове Таймыр.
- 4) Крайняя южная точка находится на границе с Грузией.

500. Какая из перечисленных горных систем России имеет наибольшую абсолютную высоту? 1)

- Алтай
- 2) Саяны
- 3) Урал
- 4) Кавказ

501. На границе с какой из перечисленных стран находится крайняя западная точка территории России?

- 1) Белоруссия
- 2) Польша
- 3) Финляндия
- 4) КНДР

502. В какой из перечисленных областей агроклиматические условия наиболее благоприятны для выращивания кукурузы на зерно?

- 1) Тверская
- 2) Ростовская
- 3) Псковская
- 4) Костромская

503. По акватории какого из перечисленных морей проходит морская Государственная граница Российской Федерации?

- 1) Баренцево
- 2) Норвежское
- 3) Средиземное
- 4) Северное

504. Морская граница между Россией и США проходит посередине пролива между островом Крузенштерна, принадлежащим США, и российским островом

- 1) Сахалин

Создано ГЕОСОКОЛ: <https://vk.com/geosokolov>

- 2) Кунашир
- 3) Врангеля
- 4) Ратманова

505. В каком из перечисленных регионов России почвы обладают наибольшим естественным плодородием?

- 1) Тюменская область
- 2) Республика Карелия
- 3) Белгородская область
- 4) Вологодская область

506. Почвы какого из перечисленных регионов России обладают наибольшим естественным плодородием?

- 1) Мурманская область
- 2) Пермский край
- 3) Ненецкий АО
- 4) Воронежская область

507. Какие из перечисленных островов являются частью территории Российской Федерации?

- 1) Алеутские острова
- 2) архипелаг Шпицберген
- 3) Балеарские острова
- 4) архипелаг Северная Земля

508. В каких из перечисленных регионов России наиболее вероятны сильные землетрясения?

- 1) Пермский край
- 2) Вологодская область
- 3) Иркутская область
- 4) Чувашская Республика

509. В каком из перечисленных регионов России почвы наиболее плодородные?

- 1) Ленинградская область
- 2) Республика Коми
- 3) Воронежская область
- 4) Кировская область

510. В основании территории какого из перечисленных регионов лежит древняя платформа?

- 1) Воронежская область
- 2) Республика Дагестан
- 3) Челябинская область



ГЕОСОКОЛ

4) Магаданская область

511. Главной причиной смены климатических поясов на территории России является изменение

- 1) типов почв
- 2) характера рельефа
- 3) соотношения тепла и влаги
- 4) обеспеченности водными ресурсами

512. В каком из перечисленных регионов России вероятность землетрясений самая высокая?

- 1) Урал
- 2) Центральная Россия
- 3) Европейский Север
- 4) Дальний Восток

513. С какой из перечисленных стран Россия имеет сухопутную границу?

- 1) Молдавия
- 2) Грузия
- 3) Дания
- 4) Туркмения

514. Какое из перечисленных морей, омывающих побережье России, является самым большим и глубоким?

- 1) Берингово
- 2) Балтийское
- 3) Чёрное
- 4) Белое

515. Для какой из перечисленных территорий России, расположенных в умеренном климатическом поясе, характерен резко континентальный климат?

- 1) Забайкалье
- 2) Кольский полуостров
- 3) Приморье
- 4) полуостров Камчатка

516. Для какого из перечисленных регионов России характерно сплошное распространение многолетней мерзлоты?

- 1) Вологодская область
- 2) Свердловская область
- 3) Чукотский АО
- 4) Краснодарский край

517. На каком полуострове находится крайняя северная материковая точка России?

- 1) Кольский
- 2) Ямал
- 3) Таймыр
- 4) Чукотский

518. Для какого из перечисленных регионов России характерно распространение многолетней мерзлоты?

- 1) Оренбургская область
- 2) Красноярский край
- 3) Республика Татарстан
- 4) Калининградская область

519. Почвы какой из перечисленных природных зон России имеют наиболее высокое естественное плодородие?

- 1) тундра
- 2) тайга
- 3) степи
- 4) смешанные и широколиственные леса

520. В каком из перечисленных регионов России почвы наиболее плодородны?

- 1) Белгородская область
- 2) Ивановская область
- 3) Кировская область
- 4) Республика Карелия

521. Какие из перечисленных гор России отличаются наибольшим разнообразием растительности?

- 1) Кавказ
- 2) Северные Увалы
- 3) Верхоянский хребет
- 4) хребет Черского

522. В каком из перечисленных городов России средние температуры воздуха в январе наиболее высокие?

- 1) Мурманск
- 2) Новосибирск
- 3) Иркутск
- 4) Чита

523. На территории какого из перечисленных регионов России велика вероятность сильных землетрясений?

- 1) Республика Алтай
- 2) Республика Башкортостан
- 3) Тюменская область
- 4) Ненецкий АО

524. С какой из перечисленных стран Россия имеет сухопутную границу?

- 1) Болгария
- 2) Киргизия
- 3) Узбекистан
- 4) Эстония

525. Какая из перечисленных горных вершин выше?

- 1) Белуха
- 2) Народная
- 3) влк. Ключевская Сопка
- 4) Эльбрус

526. В каком из перечисленных высказываний содержится информация об отраслевой структуре хозяйства России?

- 1) В России ежегодно начинают работу десятки новых современных предприятий.
- 2) На долю промышленности приходится почти 30% ВВП страны.
- 3) По внедрению передовых технологий Россия сильно отстает от наиболее развитых стран мира.
- 4) В размещении предприятий по территории страны прослеживаются определённые закономерности.

527. В каком из перечисленных регионов России почвы обладают наибольшим естественным плодородием?

- 1) Республика Коми
- 2) Томская область
- 3) Белгородская область
- 4) Республика Карелия

528. Крайняя южная точка территории России расположена на территории

- 1) Республики Алтай
- 2) Приморского края
- 3) Краснодарского края
- 4) Республики Дагестан

529. На территории какого из перечисленных субъектов Российской Федерации наблюдаются полярные день и ночь?

- 1) Мурманская область
- 2) Пермский край
- 3) Ханты-Мансийский АО – Югра
- 4) Сахалинская область

530. С какой из перечисленных стран Россия имеет сухопутную границу?

- 1) Армения
- 2) Швеция
- 3) Таджикистан
- 4) Грузия

531. В каком из перечисленных регионов России многолетнее среднее значение высоты снежного покрова наименьшее?

- 1) Астраханская область
- 2) Республика Татарстан
- 3) Республика Коми
- 4) Сахалинская область

532. В каком из перечисленных городов численность населения наибольшая?

- 1) Архангельск
- 2) Иркутск
- 3) Самара
- 4) Мурманск

533. Какой из перечисленных городов России расположен в области резко континентального климата умеренного климатического пояса?

- 1) Екатеринбург
- 2) Мурманск
- 3) Владивосток
- 4) Иркутск

534. В какой из перечисленных горных систем количество высотных поясов наибольшее?

- 1) Урал
- 2) Кавказ
- 3) Верхоянский хребет
- 4) Саяны

Создано ГЕОСОКОЛ: <https://vk.com/geosokolov>

535. В каком из перечисленных регионов России наиболее часто происходят оползни, представляющие опасность для населения?

- 1) Предгорья Кавказа
- 2) Северо-Сибирская низменность
- 3) Прикаспийская низменность
- 4) Западно-Сибирская равнина

536. С какими странами Россия имеет сухопутную границу на Кавказе?

- 1) Армения и Иран
- 2) Грузия и Азербайджан
- 3) Иран и Ирак
- 4) Турция и Сирия

537. Группа туристов из ЮАР хочет своими глазами увидеть необычную для них природу российской тайги. Какой регион России им необходимо для этого посетить?

- 1) Краснодарский край
- 2) Республика Адыгея
- 3) Республика Башкортостан
- 4) Красноярский край

538. В основании территории какого из перечисленных регионов лежит складчатая область?

- 1) Республика Карелия
- 2) Республика Алтай
- 3) Белгородская область
- 4) Омская область

539. В каком из перечисленных регионов России средние температуры воздуха в январе наиболее высокие?

- 1) Мурманская область
- 2) Красноярский край
- 3) Иркутская область
- 4) Республика Саха (Якутия)

540. Какая из перечисленных рек России разливается летом в результате муссонных дождей?

- 1) Ангара
- 2) Амур
- 3) Волга
- 4) Обь

541. Какой из перечисленных регионов России входит в число лидеров по производству зерна?

Создано ГЕОСОКОЛ: <https://vk.com/geosokolov>

- 1) Вологодская область
- 2) Приморский край
- 3) Краснодарский край
- 4) Иркутская область

542. Самая восточная точка территории России расположена на

- 1) острове Ратманова
- 2) острове Врангеля
- 3) Командорских островах
- 4) полуострове Камчатка

543. Какой из перечисленных городов является наибольшим по численности населения?

- 1) Ижевск
- 2) Тула
- 3) Самара
- 4) Брянск

544. Какой из перечисленных городов является наибольшим по численности населения?

- 1) Мурманск
- 2) Самара
- 3) Вологда
- 4) Хабаровск

545. Какой из перечисленных городов является наибольшим по численности населения?

- 1) Екатеринбург
- 2) Саратов
- 3) Оренбург
- 4) Чита

546. Санкт-Петербург относится к числу крупных городов, часто подвергающихся опасности наводнений. Что является основной причиной наводнений в Санкт-Петербурге?

- 1) таяние снегов
- 2) таяние ледников
- 3) ливневые дожди
- 4) нагонные ветровые явления

547. Какое из следующих утверждений о географическом положении России является верным?

- 1) Протяжённость территории России с севера на юг превышает 10 000 км.
- 2) Территория России омывается водами четырёх океанов.
- 3) Крайняя северная материковая точка находится в Мурманской области.

Создано ГЕОСОКОЛ: <https://vk.com/geosokolov>

4) Крайняя восточная материковая точка территории России имеет западную долготу.

548. В каком из перечисленных регионов административный центр является наибольшим по численности населения?

- 1) Вологодская область
- 2) Самарская область
- 3) Республика Калмыкия
- 4) Республика Бурятия

549. Какая из перечисленных областей имеет выход к Государственной границе Российской Федерации?

- 1) Брянская
- 2) Пензенская
- 3) Новгородская
- 4) Свердловская

550. Где в России наиболее вероятно образование оползней, представляющих опасность для населения?

- 1) Западно-Сибирская равнина
- 2) Прикаспийская низменность
- 3) Среднерусская возвышенность
- 4) Северо-Сибирская низменность

551. Какой из перечисленных городов является наибольшим по численности населения?

- 1) Нижний Новгород
- 2) Ижевск
- 3) Калининград
- 4) Владивосток

552. Какой из перечисленных городов является наибольшим по численности населения?

- 1) Уфа
- 2) Ярославль
- 3) Петрозаводск
- 4) Анадырь

553. Какой из перечисленных городов является наибольшим по численности населения?

- 1) Тамбов
- 2) Хабаровск
- 3) Екатеринбург
- 4) Мурманск

554. Какой из перечисленных городов является наибольшим по численности населения?

- 1) Смоленск
- 2) Омск
- 3) Санкт-Петербург
- 4) Владивосток

555. В каком из перечисленных регионов России среднее значение высоты снежного покрова зимой наименьшее?

- 1) Республика Калмыкия
- 2) Камчатский край
- 3) Мурманская область
- 4) Новосибирская область

556. В каком из перечисленных регионов России многолетнее среднее значение высоты снежного покрова зимой наибольшее?

- 1) Ставропольский край
- 2) Камчатский край
- 3) Калининградская область
- 4) Ростовская область

557. Какой из перечисленных городов является наибольшим по численности населения?

- 1) Владивосток
- 2) Екатеринбург
- 3) Астрахань
- 4) Липецк

558. Какой из перечисленных городов имеет наибольшую численность населения?

- 1) Смоленск
- 2) Чита
- 3) Тюмень
- 4) Казань

559. Какой из перечисленных городов является наибольшим по численности населения?

- 1) Липецк
- 2) Нижний Новгород
- 3) Калининград
- 4) Новокузнецк



ГЕОСОКОЛ

Создано ГЕОСОКОЛ: <https://vk.com/geosokolov>

560. Для какого из перечисленных регионов России характерен муссонный климат умеренного пояса?

- 1) Приморский край
- 2) Калининградская область
- 3) Мурманская область
- 4) Ямало-Ненецкий АО

561. Какой из перечисленных городов является наибольшим по численности населения?

- 1) Томск
- 2) Екатеринбург
- 3) Нальчик
- 4) Петрозаводск

562. Какой из перечисленных городов является наибольшим по численности населения?

- 1) Петрозаводск
- 2) Иваново
- 3) Омск
- 4) Иркутск

563. Почвы какого из перечисленных регионов обладают наиболее высоким естественным плодородием?

- 1) Белгородская область
- 2) Вологодская область
- 3) Московская область
- 4) Пермский край

564. С какой из перечисленных стран Россия не имеет сухопутной границы?

- 1) Эстония
- 2) Грузия
- 3) Молдавия
- 4) Азербайджан

565. На границе с какой из перечисленных стран находится крайняя западная точка России?

- 1) Норвегия
- 2) Польша
- 3) Эстония
- 4) Белоруссия

566. Какой из перечисленных городов имеет наибольшую численность населения?

- 1) Пенза

Создано ГЕОСОКОЛ: <https://vk.com/geosokolov>

- 2) Уфа
- 3) Чита
- 4) Улан-Удэ

567. Какой из перечисленных городов является наибольшим по численности населения?

- 1) Мурманск
- 2) Калининград
- 3) Петрозаводск
- 4) Челябинск

568. Какое из следующих утверждений о крайних точках территории России является верным?

- 1) Крайняя восточная материковая точка находится на полуострове Камчатка.
- 2) Крайняя южная точка территории России находится в Дагестане на границе с Азербайджаном.
- 3) Крайняя северная материковая точка находится в Мурманской области.
- 4) Крайняя западная точка территории России находится в Ленинградской области.

569. С какой из перечисленных стран Россия имеет и сухопутную, и морскую границу?

- 1) Швеция
- 2) Норвегия
- 3) Китай
- 4) Белоруссия

570. С какой из перечисленных стран Россия имеет как морскую, так и сухопутную границу?

- 1) Белоруссия
- 2) Норвегия
- 3) Китай
- 4) Монголия

571. Какой из перечисленных городов является наибольшим по численности населения?

- 1) Астрахань
- 2) Благовещенск
- 3) Новосибирск
- 4) Тюмень

572. Какой из перечисленных городов России является наибольшим по численности населения?

- 1) Архангельск
- 2) Омск
- 3) Владивосток
- 4) Оренбург

Создано ГЕОСОКОЛ: <https://vk.com/geosokolov>

573. В каком из перечисленных регионов России средняя температура воздуха в июле самая высокая?

- 1) Калининградская область
- 2) Республика Карелия
- 3) Астраханская область
- 4) Ямало-Ненецкий АО

574. С какой из перечисленных стран Россия имеет сухопутную границу?

- 1) Армения
- 2) Норвегия
- 3) Болгария
- 4) Узбекистан

575. Какой из перечисленных городов является наибольшим по численности населения?

- 1) Казань
- 2) Владивосток
- 3) Томск
- 4) Калининград

576. Какой из перечисленных городов является наибольшим по численности населения?

- 1) Астрахань
- 2) Томск
- 3) Казань
- 4) Комсомольск-на-Амуре

577. Для какого из перечисленных регионов России характерен муссонный климат умеренного пояса?

- 1) Оренбургская область
- 2) Ростовская область
- 3) Республика Калмыкия
- 4) Приморский край

578. Какое из перечисленных морей омывает территорию России?

- 1) Северное
- 2) Охотское
- 3) Норвежское
- 4) Южно-Китайское

579. На какой из перечисленных территорий России имеются действующие вулканы?

- 1) Кольский полуостров

Создано ГЕОСОКОЛ: <https://vk.com/geosokolov>

- 2) острова Новая Земля
- 3) Курильские острова
- 4) полуостров Таймыр

580. Какая из перечисленных рек наиболее полноводна?

- 1) Енисей
- 2) Волга
- 3) Дон
- 4) Днепр

581. Какой из перечисленных регионов России находится в пределах Основной полосы расселения?

- 1) Краснодарский край
- 2) Мурманская область
- 3) Магаданская область
- 4) Архангельская область

582. В каком из перечисленных регионов России средняя температура воздуха в июле самая высокая?

- 1) Оренбургская область
- 2) Псковская область
- 3) Республика Карелия
- 4) Ненецкий АО

583. Какой из перечисленных городов является наибольшим по численности населения?

- 1) Норильск
- 2) Самара
- 3) Магадан
- 4) Иваново

584. В каком из перечисленных городов России зимы наиболее тёплые?

- 1) Мурманск
- 2) Ханты-Мансийск
- 3) Красноярск
- 4) Иркутск

585. Почвы какого из перечисленных регионов обладают наиболее высоким естественным плодородием?

- 1) Воронежская область
- 2) Вологодская область

Создано ГЕОСОКОЛ: <https://vk.com/geosokolov>

- 3) Республика Карелия
- 4) Пермский край

586. Какая из перечисленных природных зон занимает наибольшую площадь в России?

- 1) лесотундра
- 2) тундра
- 3) тайга
- 4) степь

587. Для какого из перечисленных регионов России характерно распространение многолетней мерзлоты?

- 1) Ямало-Ненецкий АО
- 2) Вологодская область
- 3) Республика Карелия
- 4) Пермский край

588. С какой из перечисленных стран Государственная граница РФ проходит по горным хребтам Восточного Саяна?

- 1) Узбекистан
- 2) Монголия
- 3) Таджикистан
- 4) Грузия

589. Какое из следующих утверждений о географическом положении России верно?

- 1) Территория России расположена на двух материках.
- 2) Территория России омывается водами трёх океанов.
- 3) Крайняя восточная точка территории России имеет восточную долготу.
- 4) Крайняя западная точка территории России находится на границе с Финляндией.

590. Какое из перечисленных морей России относится к бассейну Тихого океана?

- 1) Балтийское
- 2) Азовское
- 3) Берингово
- 4) Белое

591. Какой из перечисленных городов является городом Федерального подчинения?

- 1) Нижний Новгород
- 2) Санкт-Петербург
- 3) Казань
- 4) Ростов-на-Дону

592. Развитию чёрной металлургии в Центральной России способствует наличие на его территории

- 1) значительных водных ресурсов
- 2) крупных месторождений каменного угля
- 3) крупных месторождений железной руды
- 4) мощных ГЭС

593. Какой регион России отделён от основной территории государства территориями других стран?

- 1) Калининградская область
- 2) Кировская область
- 3) Камчатский край
- 4) Краснодарский край

594. Какой из перечисленных пунктов на территории России находится в области муссонного климата?

- 1) Калининград
- 2) Якутск
- 3) Владивосток
- 4) Иркутск

595. Для какого из перечисленных регионов характерны формы рельефа, созданные древним оледенением?

- 1) Астраханская область
- 2) Белгородская область
- 3) Республика Карелия
- 4) Омская область

596. В основании территории какого из перечисленных регионов лежит древняя платформа?

- 1) Курская область
- 2) Республика Дагестан
- 3) Челябинская область
- 4) Магаданская область

597. На территории какого из перечисленных регионов России природные условия наиболее благоприятны для строительства солнечных электростанций?

- 1) Астраханская область
- 2) Республика Татарстан
- 3) Пермский край

4) Ленинградская область

598. Какая из перечисленных рек относится к бассейну Тихого океана?

- 1) Амур
- 2) Енисей
- 3) Ангара
- 4) Лена

599. Где на Дальнем Востоке построены и функционируют геотермальные электростанции?

- 1) Амурская область
- 2) Приморский край
- 3) Республика Саха (Якутия)
- 4) Камчатский край

600. Климат какого из регионов России испытывает большое влияние Северо-Атлантического течения?

- 1) Мурманская область
- 2) Астраханская область
- 3) Магаданская область
- 4) Сахалинская область

601. Где расположена самая низкая точка Восточно-Европейской равнины?

- 1) на берегу Финского залива
- 2) на Кольском полуострове
- 3) на берегу Каспийского моря
- 4) на Печорской низменности

602. Для какого из перечисленных регионов России характерны ледниковые формы рельефа?

- 1) Волгоградская область
- 2) Республика Карелия
- 3) Белгородская область
- 4) Республика Калмыкия

603. На какой из перечисленных территорий наблюдается сплошное распространение многолетней мерзлоты?

- 1) полуостров Таймыр
- 2) полуостров Кольский
- 3) Курильские острова
- 4) остров Сахалин

Создано ГЕОСОКОЛ: <https://vk.com/geosokolov>

604. На какой из перечисленных территорий среднегодовое количество атмосферных осадков наибольшее?

- 1) острова Новая Земля
- 2) Чукотский полуостров
- 3) остров Сахалин
- 4) полуостров Таймыр



ГЕОСОКОЛ