

Вариант № 2

Инструкция по выполнению работы

Диктант Победы состоит из 25 заданий, 15 из которых с выбором варианта ответа и 10 заданий с кратким ответом. Ответы необходимо вписать в бланк ответов. Номера заданий с выбором ответа (1-13, 21-22) расположены горизонтально на бланке ответов, под каждым номером задания находится столбец из 4 квадратиков, соответствующих вариантам ответа на задание. Ответ на задания с выбором ответа записывается в виде символа «X» («крестик»), которым отмечается выбранный вами вариант.

Номера заданий с кратким ответом (14-20, 23-25) расположены вертикально на бланке ответов, ответ записывается справа от номера задания в бланке ответов. Не разрешается использовать при записи ответа на задания с кратким ответом никаких иных символов, кроме символов кириллицы и арабских цифр. Записывайте буквы и цифры в соответствии с образцом на бланке. Каждая цифра, символ записывается в отдельную клетку. Будьте аккуратны. Небрежное написание символов может привести к тому, что при автоматизированной обработке символ может быть распознан неправильно.

Ответ: 321

Ответ: Подвиг



Обращаем ваше внимание, что на бланке ответов запрещается делать какие-либо записи и пометки, не относящиеся к ответам на задания. Вы можете делать пометки в заданиях Диктанта Победы. Также обращаем ваше внимание на то, что ответы, записанные в заданиях Диктанта, не проверяются.


Желаем успеха!

К каждому заданию 1 – 13 даны несколько ответов, из которых только один верный. Выберите верный, по Вашему мнению, ответ. В бланке ответов под номером задания поставьте крестик (X) в клеточке, номер которой равен номеру выбранного Вами ответа.

1

Рассмотрите изображение и ответьте на вопрос.

Какое звание было присвоено в 1965 г. объекту, на территории которого расположен этот мемориальный комплекс, созданный под руководством видного советского скульптора-монументалиста А.П. Кибальникова в память о событиях начального периода Великой Отечественной войны?



- 1) «Город воинской славы»
- 2) «Город-герой»
- 3) «Город трудовой доблести»
- 4) «Крепость-герой»

2

Прочитайте отрывок из письма участника событий 1942 г. и определите, кто из указанных ниже военачальников имел непосредственное отношение к обороне города, название которого пропущено в тексте.

«25 октября ночью на левом берегу Волги спешно грузили речной пароход боеприпасами. Вокруг разрывающиеся немецкие снаряды казались для бойцов совсем посторонним делом, которое их никак не может оторвать от погрузки. Они торопились, подгонять людей не нужно было: они сами всё знали. Палуба парохода вскоре вся была загружена. Пароход медленно, без свистка, без света отчалил и направился на противоположный берег, в _____. По сторонам парохода то дальше, то ближе разрывались снаряды. Люди, оставшиеся на берегу, с замиранием сердца смотрели, как продвигался пароход, делая зигзаги, избегая попадания снаряда. И каждый раз, если разрыв после пронзительного предварительного визга был в стороне от парохода, облегчённо вздыхали, говоря: «Вот, ещё один мимо, плыви дальше, вези, дорогой, вези!»».

- 1) П.А. Белов, И.В. Панфилов
- 2) Л.А. Говоров, К.А. Мерецков
- 3) Н.И. Крылов, А.И. Родимцев
- 4) К.Н. Леселидзе, И.В. Тюленев

3 **Рассмотрите изображение и выполните задание.**

На этой фотографии запечатлены прославленные генералы-кавалеристы И.А. Плиев (слева) и Л.М. Доватор.

Назовите битву, в ходе которой отличились оба генерала и один из них погиб (посмертно удостоен звания Героя Советского Союза).



- 1) Битва за Москву
- 2) Битва за Днепр
- 3) Сталинградская
- 4) Курская

4 Русский советский живописец С.В. Герасимов (1885-1964) известен преимущественно как пейзажист, но во время Великой Отечественной войны он приступил к созданию картины, которую завершил уже в послевоенные годы и которая вошла в число ярчайших произведений искусства, связанных с темой народного сопротивления немецко-фашистским захватчикам.

Назовите эту картину.



- 1) «В оккупации»
- 2) «Мать»
- 3) «Мать партизана»
- 4) «Расправа»

5 **Прочитайте отрывок из книги партийного и государственного деятеля Н.А. Вознесенского, в 1938–1941 и 1942–1949 гг. возглавлявшего Госплан СССР, и укажите название региона, пропущенное в тексте.**


«Коренным образом изменилась за годы войны структура промышленности районов _____. Особенно значительным был рост металлообрабатывающей промышленности. В 1942 году валовая продукция металлообрабатывающей промышленности в _____ составила 8,9 млрд. руб. и в 1943 году – 10,5 млрд. руб. против 1,2 млрд. руб. в 1940 году. Удельный вес металлообрабатывающей промышленности во всей промышленности _____ в 1942 году составил 74% против 31% в 1940 году. За время войны в _____ возникли новые отрасли промышленности: производство авиамоторов, самолётов, шарикоподшипников, автомобильная и кабельная промышленность, производство локомотивов, заново создана газовая промышленность, способная радикально решить топливную проблему _____».

- 1) Средняя Азия и Казахстан
- 2) Поволжье
- 3) Западная Сибирь
- 4) Закавказье

6 В 2023 г. исполнилось 100 лет со дня рождения советского композитора Эдуарда Колмановского (на фото).

Какие из указанных ниже песен, тематически связанных с Великой Отечественной войной, написаны этим композитором?

- 1) «Алёша», «Хотят ли русские войны»
- 2) «Грустные ивы», «Под звёздами балканскими»
- 3) «Дорога на Берлин», «За того парня»
- 4) «Заветный камень», «Марш защитников Москвы»



7

Рассмотрите изображение и ответьте на вопрос.



Когда было осуществлено полное снятие блокады Ленинграда?

- 1) январь 1943 г.
- 2) ноябрь 1943 г.
- 3) январь 1944 г.
- 4) февраль 1944 г.

8

Кто из указанных ниже военачальников НЕ является двукратным кавалером высшей советской полководческой награды – ордена «Победа»?



- 1) И.В. Сталин
- 2) К.К. Рокоссовский
- 3) Г.К. Жуков
- 4) А.М. Василевский

9

С каким сибирским городом, университет которого представлен на этом фото и который подразумевается в приведённом ниже тексте, связана инициатива работавших там учёных по организации научной деятельности в условиях начавшейся войны?

«Для организации эффективной работы учёных в интересах обороны и тыла по инициативе _____ учёных и городской партийной организации спустя несколько дней после начала войны, а именно 27 июня 1941 года, был организован _____ комитет учёных по содействию промышленности, транспорту и сельскому хозяйству. Первоочередной задачей для комитета стало укрепить связи между наукой и промышленностью: для этого нужно было перестроить работу в вузах, выполнять научные темы и разработки по укреплению обороноспособности страны. ... _____ комитет располагался в здании Сибирского физико-технического института (СФТИ), который на время войны стал «научным штабом» учёных. Это была первая в СССР подобного рода общественная организация, объединившая более 400 учёных самых разных областей знания».



- 1) Барнаул
- 2) Иркутск
- 3) Новосибирск
- 4) Томск

10

Рассмотрите изображение и выполните задание.

На плакате графика В.Б. Корецкого, выпущенном в 1944 г., изображён советский боец-бронбойщик, подбивший из своего противотанкового ружья вражеские танки и удостоенный за это ордена Славы. Назовите видного конструктора-оружейника, руководившего конструкторским бюро, в котором было создано противотанковое ружьё, широко применявшееся в Красной армии во время Великой Отечественной войны.



- 1) П.М. Горюнов
- 2) В.А. Дегтярёв
- 3) Ф.В. Токарев
- 4) Г.С. Шпагин

11 В каком году советские войска осуществили Петсамо-Киркенесскую наступательную операцию, в ходе которой ими была освобождена территория Северной Норвегии?



- 1) 1942
- 2) 1943
- 3) 1944
- 4) 1945

12 Рассмотрите изображение и выполните задание.

Герой Советского Союза Борис Иванович _____ стал единственным в мире лётчиком, кому в период Второй мировой войны довелось осуществить четыре воздушных тарана и при этом выжить. Лишившись глаза, он вернулся в строй и продолжил лётную службу.



Назовите его фамилию.

- 1) Талалихин
- 2) Ковзан
- 3) Катрич
- 4) Годовиков

13 Рассмотрите изображение и выполните задание.

Этот снимок сделан в августе 1942 г. в Карском море после боя, произошедшего между советским ледокольным пароходом и германским тяжёлым крейсером. На снимке запечатлён момент, когда немецкие моряки, захватив группу выживших с обстрелянного и тонущего судна, наблюдают за его гибелью с катера, доставляющего пленных на крейсер.



Укажите название этого героического парохода, принявшего неравный бой и прославленного в истории отечественного флота как «полярный «Варяг»».

- 1) «Александр Сибиряков»
- 2) «Георгий Седов»
- 3) «Малыгин»
- 4) «Садко»

Ответы на задания 14 – 20 запишите на бланке ответов рядом с номером задания, начиная с первого окошка. Ответом могут быть цифры или слова. Каждую букву слова или цифру числа пишите в отдельном окошке по приведённым образцам.

14 Расположите указанные события в хронологическом порядке. Запишите цифры, которыми обозначены исторические события, в правильной последовательности в таблицу.

- 1) деятельность подпольной комсомольской организации «Молодая гвардия»
- 2) операция немецко-фашистских войск «Цитадель»
- 3) Ельнинская наступательная операция советских войск
- 4) освобождение Минска

Ответ:

--	--	--	--

15 Прочитайте отрывок из стихотворения русского советского поэта Дмитрия Кедрина (1907-1945) и укажите название города, пропущенное в данном отрывке.

В настоящее время наименование этого крупного украинского города, освобождённого Красной армией от гитлеровской оккупации в октябре 1943 г., официально изменено: первая часть (связанная с названием реки, на которой стоит город) сохранена, а вторая (подразумевающая фамилию видного советского деятеля) аннулирована.

_____!
Ужель в твоих кварталах,
Коль не сейчас,
Так в будущем году,
Из множества
Друзей моих бывалых
Я никого,
Вернувшись,
Не найду?

Не может быть!
Всему есть в жизни мера!
Недаром же
С пожарной каланчи
На головы
Немецких офицеров
По вечерам
Слетают кирпичи.

Мои друзья, —
Как их враги ни мучай, —
Ведут борьбу,
И твёрдо знаю я:
Те,
Кто не носит
Свастики колючей,
В _____
Все
Мои друзья!

Ответ: _____



16 Рассмотрите кадры из художественного фильма «Восхождение», снятого в 1976 г. режиссёром Ларисой Шепитько, и выполните задание.

Виктория Гольденгул – юная советская киноактриса одной, но знаковой роли. В фильме «Восхождение» Виктория создала пронзительный образ девочки Баси, повешенной гитлеровцами за то, что она еврейка, и за отказ выдать тех, кто её укрывал. Этот знаменитый фильм снят по мотивам всемирно известной повести советского писателя-фронтовика В.В. Быкова «Сотников» (названа по фамилии главного героя - пленного партизана, казнённого вместе с Басей и двумя другими персонажами), сюжет которой связан с партизанской борьбой на территории _____ в период немецко-фашистской оккупации.

Укажите название республики в составе СССР, пропущенное выше.



Ответ: _____

17 **Рассмотрите изображение и выполните задание.**

Этот памятник, известный как Монумент боевой и трудовой славы, установлен в столице одной из республик Российской Федерации, входящих в состав Приволжского федерального округа. За годы Великой Отечественной войны предприятия этого города произвели более 12 млн единиц стрелкового оружия, выпуск которого в послевоенный период был успешно продолжен. С 2020 г. данная столица носит почётное звание «Город трудовой доблести».



Укажите название этого города.

Ответ: _____

18 **Рассмотрите изображение и ответьте на вопрос.**

Какой советский военачальник, командуя 1-м Украинским фронтом, принимал участие в стратегической наступательной операции, одним из результатов которой стало освобождение данного города силами 1-го Белорусского фронта, действовавшего в ходе этой операции совместно с 1-м Украинским?



Ответ: _____

19 **Рассмотрите изображение мемориальной доски, установленной в 2021 г. в Уфе, и ответьте на вопрос.**

В какой европейской стране, находившейся до и во время Второй мировой войны в союзе с гитлеровской Германией, действовал выдающийся советский разведчик, который добывал ценную информацию даже в условиях своего тюремного заключения в данной стране и в честь которого установлена эта мемориальная доска?



Ответ: _____

20 **Рассмотрите изображение и выполните задание.**

Картина «Поединок», написанная в 1964 г., принадлежит кисти знаменитого советского художника-баталиста, фронтовика, творчество которого связано в основном с темой Великой Отечественной войны. Он автор таких широко известных произведений, как «Защитники Брестской крепости», «Советская конница в боях под Москвой», «На Курской дуге», «Победа».



Назовите этого живописца.

Ответ: _____

К каждому заданию 21 – 22 даны несколько ответов, из которых только один верный. Выберите верный, по Вашему мнению, ответ. В бланке ответов под номером задания поставьте крестик (X) в клеточке, номер которой равен номеру выбранного Вами ответа.

21

Рассмотрите изображение и выполните задание.



Неподалёку от этого крымского города в период гитлеровской оккупации находился «Красный» - самый крупный концлагерь из созданных нацистами в Крыму. За время существования «Красного» в нём погибло до 15 тыс. чел. В 2015 г. на территории бывшего концлагеря открыт мемориал.

Назовите город, в районе которого располагался этот концлагерь.

- 1) Бахчисарай
- 2) Евпатория
- 3) Симферополь
- 4) Феодосия

22

Завершающей фазой Битвы за Кавказ в 1943 г. стала Новороссийско-Таманская наступательная операция. Одна из важнейших составляющих данной операции - высадка тактического десанта Азовской военной флотилии в районе Таманского полуострова с целью перерезать пути отступления немецко-румынских войск с Кубани. В ходе операции 27 сентября 1943 г. был освобождён населённый пункт, по наименованию которого десант своё название и получил.

Укажите наименование этого населённого пункта.

- 1) Веселовка
- 2) Голубицкая
- 3) Тамань
- 4) Темрюк

Ответы на задания 23 – 25 запишите на бланке ответов рядом с номером задания, начиная с первого окошка. Ответом могут быть цифры или слова. Каждую букву слова или цифру числа пишите в отдельном окошке по приведённым образцам.

23

Освобождение Ростова-на-Дону и дальнейшее продвижение Красной армии на Донбасс сопровождалось длительными и упорными боями. Для сдерживания советских войск гитлеровским командованием была создана укрепленная линия «Миус-фронт», простиравшаяся на север от Азовского моря вдоль реки Миус. В ходе кровопролитных боёв в августе 1943 г. линию удалось прорвать. На высотах под Таганрогом после войны в память о тех сражениях возведён мемориальный комплекс. Музыкант и поэт Евгений Росс посвятил этим местам песню.

Укажите название высот.

Память сердце моё разорвёт, словно взрывом!
Таганрогский последний излёт -
кровь застыла!
Время нас возвращает назад,
где в бессмертье шагнул наш солдат.
Здесь никто не забыт
и ничто не забыто, что было.
Время нас возвращает назад,
где в бессмертье шагнул наш солдат.
Здесь никто не забыт
и ничто не забыто, что было.

Ответ: _____


24 Прочитайте краткий отрывок из повести К.М. Симонова «Дни и ночи» и назовите возвышенность, находящуюся в упомянутом городе, за которую шли наиболее ожесточённые бои.

«А в газетах в эту ночь ещё набирали на линотипах, как всегда, сдержанные сводки Информбюро, и люди, перед тем как ложиться спать, слушая последние известия по радио, по-прежнему тревожились за Сталинград, ещё ничего не зная о том взятом в бою военном счастье, которое начиналось в эти часы для России».

Ответ: _____

25 Рассмотрите изображение и выполните задание.

В ходе Великой Отечественной войны подвиги совершали представители всех народов, населявших СССР. Этот представитель калмыцкого народа, отличившись в должности командира 1-го Партизанского района в Крыму, продолжил воевать на фронтах: командовал дивизиями, освобождал Белоруссию и Прибалтику, вёл бои в Восточной Пруссии, был ранен. В апреле 1945 г. удостоен звания Героя Советского Союза. Участвовал в войне с Японией, в послевоенное время занимал ряд командных постов, дослужившись до генерал-лейтенанта, а в январе 1961 г., уже находясь на партийно-государственной работе, был избран 1-м секретарём Калмыцкого обкома КПСС.



Назовите его фамилию.

Ответ: _____