

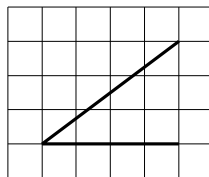
3 Телефонная компания предоставляет на выбор три тарифных плана.

Тарифный план	Абонентская плата (в месяц)	Плата за 1 минуту разговора
«Повременный»	Нет	0,3 руб.
«Комбинированный»	160 руб. за 420 мин.	0,2 руб. (сверх 420 мин. в месяц)
«Безлимитный»	255 руб.	Нет

Абонент предполагает, что общая длительность разговоров составит 700 минут в месяц, и исходя из этого выбирает наиболее дешёвый тарифный план. Сколько рублей должен будет заплатить абонент за месяц, если общая длительность разговоров действительно будет равна 700 минутам?

Ответ: _____.

4 На клетчатой бумаге с размером клетки 1×1 изображён угол. Найдите синус этого угла.



Ответ: _____.

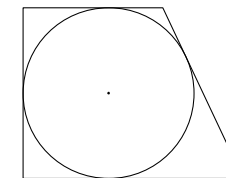
5 Если шахматист А. играет белыми фигурами, то он выигрывает у шахматиста Б. с вероятностью $0,5$. Если А. играет чёрными, то А. выигрывает у Б. с вероятностью $0,32$. Шахматисты А. и Б. играют две партии, причём во второй партии меняют цвет фигур. Найдите вероятность того, что А. выигрывает оба раза.

Ответ: _____.

6 Найдите корень уравнения $36^{x-5} = \frac{1}{6}$.

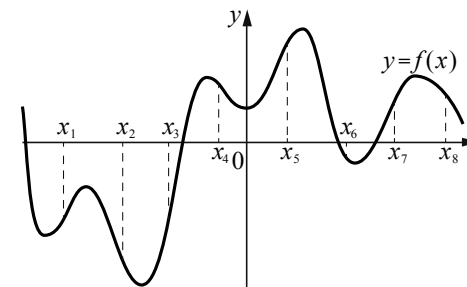
Ответ: _____.

7 Периметр прямоугольной трапеции, описанной около окружности, равен 32, её большая боковая сторона равна 9. Найдите радиус окружности.



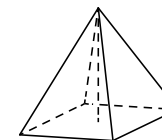
Ответ: _____.

8 На рисунке изображён график функции $y = f(x)$. На оси абсцисс отмечены восемь точек: $x_1, x_2, x_3, x_4, x_5, x_6, x_7, x_8$. В скольких из этих точек производная функции $f(x)$ отрицательна?



Ответ: _____.

9 В правильной четырёхугольной пирамиде высота равна 2, боковое ребро равно 5. Найдите её объём.



Ответ: _____.

Не забудьте перенести все ответы в бланк ответов № 1 в соответствии с инструкцией по выполнению работы.

Часть 2

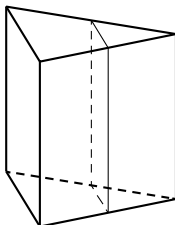
10 Найдите значение выражения $\frac{\sqrt[15]{5} \cdot 5 \cdot \sqrt[10]{5}}{\sqrt[6]{5}}$.

Ответ: _____.

11 Водолазный колокол, содержащий $\nu = 2$ моля воздуха при давлении $p_1 = 1,75$ атмосферы, медленно опускают на дно водоёма. При этом происходит изотермическое сжатие воздуха до конечного давления p_2 . Работа, совершаемая водой при сжатии воздуха, определяется выражением $A = \alpha \nu T \log_2 \frac{p_2}{p_1}$, где $\alpha = 13,3 \frac{\text{Дж}}{\text{моль} \cdot \text{К}}$ — постоянная, $T = 300 \text{ К}$ — температура воздуха. Найдите, какое давление p_2 (в атм) будет иметь воздух в колоколе, если при сжатии воздуха была совершена работа в 15 960 Дж.

Ответ: _____.

12 Через среднюю линию основания треугольной призмы проведена плоскость, параллельная боковому ребру. Площадь боковой поверхности отсечённой треугольной призмы равна 43. Найдите площадь боковой поверхности исходной призмы.



Ответ: _____.

13 Смешав 24-процентный и 67-процентный растворы кислоты и добавив 10 кг чистой воды, получили 41-процентный раствор кислоты. Если бы вместо 10 кг воды добавили 10 кг 50-процентного раствора той же кислоты, то получили бы 45-процентный раствор кислоты. Сколько килограммов 24-процентного раствора использовали для получения смеси?

Ответ: _____.

14 Найдите наибольшее значение функции $y = 33x - 30\sin x + 29$ на отрезке $\left[-\frac{\pi}{2}; 0\right]$.

Ответ: _____.

Не забудьте перенести все ответы в бланк ответов № 1 в соответствии с инструкцией по выполнению работы.

Для записи решений и ответов на задания 15–21 используйте БЛАНК ОТВЕТОВ № 2. Запишите сначала номер выполняемого задания (15, 16 и т. д.), а затем полное обоснованное решение и ответ. Ответы записывайте чётко и разборчиво.

- 15 а) Решите уравнение

$$\sin 2x + \sqrt{2} \sin x = 2 \cos x + \sqrt{2}.$$

- б) Укажите корни этого уравнения, принадлежащие отрезку $\left[\pi; \frac{5\pi}{2}\right]$.

- 16 В кубе $ABCD A_1 B_1 C_1 D_1$ все рёбра равны 4. На его ребре BB_1 отмечена точка K так, что $KB = 3$. Через точки K и C_1 проведена плоскость α , параллельная прямой BD_1 .

- а) Докажите, что $A_1 P : P B_1 = 2 : 1$, где P — точка пересечения плоскости α с ребром $A_1 B_1$.
б) Найдите угол наклона плоскости α к плоскости грани $BB_1 C_1 C$.

- 17 Решите неравенство $\log_5^2(25 - x^2) - 3 \log_5(25 - x^2) + 2 \geq 0$.

- 18 Дана равнобедренная трапеция $ABCD$ с основаниями AD и BC . Окружность с центром O , построенная на боковой стороне AB как на диаметре, касается боковой стороны CD и второй раз пересекает большее основание AD в точке H , точка Q — середина CD .

- а) Докажите, что четырёхугольник $DQOH$ — параллелограмм.
б) Найдите AD , если $\angle BAD = 75^\circ$ и $BC = 1$.

- 19 Григорий является владельцем двух заводов в разных городах. На заводах производятся абсолютно одинаковые товары, но на заводе, расположенном во втором городе, используется более совершенное оборудование. В результате, если рабочие на заводе, расположенном в первом городе, трудятся суммарно t^2 часов в неделю, то за эту неделю они производят $3t$ единиц товара; если рабочие на заводе, расположенном во втором городе, трудятся суммарно t^2 часов в неделю, то за эту неделю они производят $4t$ единиц товара.

За каждый час работы (на каждом из заводов) Григорий платит рабочему 500 рублей.

Григорий готов выделять 5 000 000 рублей в неделю на оплату труда рабочих. Какое наибольшее количество единиц товара можно произвести за неделю на этих двух заводах?

- 20 Найдите все значения a , при каждом из которых система уравнений

$$\begin{cases} \frac{(y^2 - xy + 3x - y - 6)\sqrt{x+2}}{\sqrt{6-x}} = 0, \\ x + y - a = 0 \end{cases}$$

имеет ровно два различных решения.

- 21 На доске написали несколько не обязательно различных двузначных натуральных чисел без нулей в десятичной записи. Сумма этих чисел оказалась равной 363. Затем в каждом числе поменяли местами первую и вторую цифры (например, число 17 заменили на число 71).

- а) Приведите пример исходных чисел, для которых сумма получившихся чисел ровно в 4 раза больше, чем сумма исходных чисел.
б) Могла ли сумма получившихся чисел быть ровно в 2 раза больше, чем сумма исходных чисел?
в) Найдите наибольшее возможное значение суммы получившихся чисел.