

## Основной государственный экзамен по ИНФОРМАТИКЕ

### Вариант №1

### Инструкция по выполнению работы

Работа состоит из двух частей, включающих в себя 15 заданий. Часть 1 содержит 10 заданий с кратким ответом; часть 2 содержит 5 заданий, которые необходимо выполнить на компьютере.

На выполнение работы по информатике отводится 2 часа 30 минут (150 минут). Вы можете самостоятельно определять время, которое отводите на выполнение заданий, но рекомендуемое время на выполнение заданий части 1 – 30 минут, на выполнение заданий части 2 – 2 часа (120 минут).

Ответы к заданиям 1–12 записываются в виде числа, слова, последовательности букв или цифр. Ответ запишите в поле ответа в тексте работы, а затем перенесите в бланк ответов № 1.

Результатом выполнения каждого из заданий 13–15 является отдельный файл. Формат файла, его имя и каталог для сохранения Вам сообщат организаторы экзамена.

Все бланки заполняются яркими чёрными чернилами. Допускается использование гелевой или капиллярной ручки.

При выполнении заданий можно пользоваться черновиком. **Записи в черновике, а также в тексте контрольных измерительных материалов не учитываются при оценивании работы.**

Баллы, полученные Вами за выполненные задания, суммируются. Постарайтесь выполнить как можно больше заданий и набрать наибольшее количество баллов.

После завершения работы проверьте, чтобы ответ на каждое задание в бланке ответов № 1 был записан под правильным номером.

*Желаем успеха!*

### Часть 1

*Ответами к заданиям 1–10 являются число, слово, последовательность букв или цифр. Ответы укажите сначала в тексте работы, а затем перенесите в БЛАНК ОТВЕТОВ № 1 справа от номера соответствующего задания, начиная с первой клеточки, без пробелов, запятых и других дополнительных символов. Каждый символ пишите в отдельной клеточке в соответствии с приведёнными в бланке образцами.*

1

В кодировке КОИ-8 каждый символ кодируется 8 битами. Вова написал текст (в нём нет лишних пробелов):

«Школьные предметы: ОБЖ, химия, физика, алгебра, биология, география, литература, информатика».

Ученик удалил из списка название одного предмета, а также лишние запятую и пробел – два пробела не должны идти подряд.

При этом размер нового предложения в данной кодировке оказался на 11 байт меньше, чем размер исходного предложения. Напишите в ответе вычёркнутое название предмета.

Ответ: \_\_\_\_\_.

- 2 Ваня шифрует русские слова, записывая вместо каждой буквы её номер в алфавите (без пробелов). Номера букв даны в таблице.

А	1	Й	11	У	21	Э	31
Б	2	К	12	Ф	22	Ю	32
В	3	Л	13	Х	23	Я	33
Г	4	М	14	Ц	24		
Д	5	Н	15	Ч	25		
Е	6	О	16	Ш	26		
Ё	7	П	17	Щ	27		
Ж	8	Р	18	Ъ	28		
З	9	С	19	Ы	29		
И	10	Т	20	Ь	30		

Некоторые шифровки можно расшифровать несколькими способами. Например, 311333 может означать «ВАЛЯ», может – «ЭЛЯ», а может – «ВААВВВ».

Даны четыре шифровки:

9828210  
5103115  
1213131  
3102030

Только одна из них расшифровывается единственным способом. Найдите её и расшифруйте. Получившееся слово запишите в качестве ответа.

Ответ: \_\_\_\_\_.

- 3 Напишите наибольшее натуральное число  $x$ , для которого ИСТИННО высказывание:  
( $x < 7$ ) И НЕ ( $x < 6$ ).

Ответ: \_\_\_\_\_.

- 4 Между населёнными пунктами А, В, С, D, Е построены дороги, протяжённость которых (в километрах) приведена в таблице.

	А	В	С	D	Е
А		2			1
В	2		5		4
С		5		3	3
D			3		4
Е	1	4	3	4	

Определите длину кратчайшего пути между пунктами В и D. Передвигаться можно только по дорогам, протяжённость которых указана в таблице. Каждый пункт можно посетить только один раз.

Ответ: \_\_\_\_\_.

- 5 У исполнителя Квадратор две команды, которым присвоены номера:

**1. возведи в квадрат**

**2. прибавь 3**

Первая из них возводит число на экране во вторую степень, вторая увеличивает его на 3.

Составьте алгоритм получения из числа 1 числа 25, содержащий не более 5 команд. В ответе запишите только номера команд.

(Например, 12221 – это алгоритм:

возведи в квадрат

прибавь 3

прибавь 3

прибавь 3

возведи в квадрат,

который преобразует число 2 в 169.)

Если таких алгоритмов более одного, то запишите любой из них.

Ответ: \_\_\_\_\_.

6 Ниже приведена программа, записанная на пяти языках программирования.

Алгоритмический язык	Паскаль
<pre> алг нач цел s, t ввод s ввод t ввод A если s &gt; 10 или t &gt; A то вывод "YES" иначе вывод "NO" все кон </pre>	<pre> var s, t: integer; begin   readln(s);   readln(t);   readln(A);   if (s &gt; 10) or (t &gt; A)   then     writeln("YES")   else     writeln("NO")   end. </pre>
Бейсик	Python
<pre> DIM s, t AS INTEGER INPUT s INPUT t INPUT A IF s &gt; 10 OR t &gt; A THEN   PRINT "YES" ELSE   PRINT "NO" ENDIF </pre>	<pre> s = int(input()) t = int(input()) A = int(input()) if (s &gt; 10) or (t &gt; A):   print("YES") else:   print("NO") </pre>
C++	
<pre> #include &lt;iostream&gt; using namespace std;  int main(){   int s, t;   cin &gt;&gt; s;   cin &gt;&gt; t;   cin &gt;&gt; A;   if (s &gt; 10) or (t &gt; A)     cout &lt;&lt; "YES" &lt;&lt; endl;   else     cout &lt;&lt; "NO" &lt;&lt; endl;   return 0; } </pre>	

Было проведено 9 запусков программы, при которых в качестве значений переменных  $s$  и  $t$  вводились следующие пары чисел:

(1, 2); (11, 2); (1, 12); (11, 12); (-11, -12); (-11, 12); (-12, 11); (10, 10); (10, 5).

Укажите количество целых значений параметра  $A$ , при которых для указанных входных данных программа напечатает «NO» три раза.

Ответ: \_\_\_\_\_.

7 Доступ к файлу **inf.docx**, находящемуся на сервере **teach.ru**, осуществляется по протоколу **ftp**. Фрагменты адреса файла закодированы цифрами от 1 до 7. Запишите последовательность этих цифр, кодирующую адрес указанного файла в сети Интернет.

- 1) teach
- 2) ftp
- 3) inf
- 4) /
- 5) ://
- 6) .docx
- 7) .ru

Ответ:

--	--	--	--	--	--	--	--

8 В языке запросов поискового сервера для обозначения логической операции «ИЛИ» используется символ «|», а для логической операции «И» – символ «&».

В таблице приведены запросы и количество найденных по ним страниц некоторого сегмента сети Интернет.

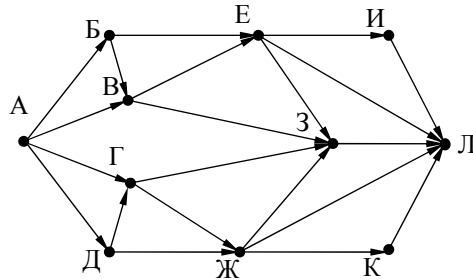
Запрос	Найдено страниц (в тысячах)
<i>Москва &amp; Метро</i>	980
<i>Метро</i>	4320
<i>Москва</i>	5430

Какое количество страниц (в тысячах) будет найдено по запросу *Москва | Метро*?

Считается, что все запросы выполнялись практически одновременно, так что хранящаяся на поисковом сервере информация о наборе страниц, содержащих все искомые слова, не изменялась за время выполнения запросов.

Ответ: \_\_\_\_\_.

- 9 На рисунке – схема дорог, связывающих города А, Б, В, Г, Д, Е, Ж, З, И, К и Л. По каждой дороге можно двигаться только в одном направлении, указанном стрелкой. Сколько существует различных путей из города А в город Л?



Ответ: \_\_\_\_\_.

- 10 Переведите двоичное число 1100110 в десятичную систему счисления.

Ответ: \_\_\_\_\_.

## Часть 2

*Задания этой части (11–15) выполняются на компьютере. Ответами к заданиям 11, 12 являются слово или число, которые следует записать в БЛАНК ОТВЕТОВ № 1 справа от номера соответствующего задания, начиная с первой клеточки. Каждый символ пишете в отдельной клеточке в соответствии с приведёнными в бланке образцами. Результатом выполнения заданий 13–15 является отдельный файл (для одного задания – один файл). Формат файла, его имя и каталог для сохранения Вам сообщает организаторы экзамена.*

- 11 В одном из произведений А.П. Чехова, текст которого приведён в подкаталоге каталога **Проза**, есть герой с именем Иона. С помощью поисковых средств операционной системы и текстового редактора или браузера выясните название этого произведения.

Ответ: \_\_\_\_\_.

- 12 Сколько файлов с расширением htm объёмом не менее 1024 Кб каждый содержится в подкаталогах каталога **ДЕМО-12**? В ответе укажите только число.

Ответ: \_\_\_\_\_.



*Не забудьте перенести все ответы на задания 1–12 в бланк ответов № 1 в соответствии с инструкцией по выполнению работы. Проверьте, чтобы каждый ответ был записан в строке с номером соответствующего задания.*

**Выберите ОДНО из предложенных ниже заданий: 13.1 или 13.2.**

**13.1** Используя информацию и иллюстративный материал, содержащийся в каталоге ДЕМО-13, создайте презентацию из трёх слайдов на тему «Нутрия». В презентации должны содержаться краткие иллюстрированные сведения о внешнем виде, ареале обитания, образе жизни и рационе нутрий. Все слайды должны быть выполнены в едином стиле, каждый слайд должен быть озаглавлен.

Презентацию сохраните в файле, имя которого Вам сообщает организаторы экзамена.

#### Требования к оформлению работы

1. Ровно три слайда без анимации. Параметры страницы (слайда): экран (16:9), ориентация альбомная.

2. Содержание, структура, форматирование шрифта и размещение изображений на слайдах:

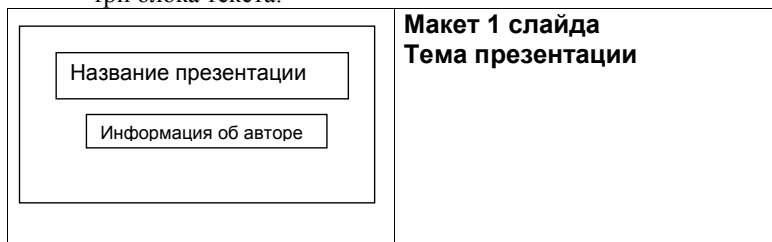
- первый слайд – титульный слайд с названием презентации, в подзаголовке титульного слайда в качестве информации об авторе презентации указывается идентификационный номер участника экзамена;

- второй слайд – основная информация в соответствии с заданием, размещённая по образцу на рисунке макета слайда 2:

- заголовок слайда;
- два изображения;
- два блока текста;

- третий слайд – дополнительная информация по теме презентации, размещённая по образцу на рисунке макета слайда 3:

- заголовок слайда;
- три изображения;
- три блока текста.



В презентации должен использоваться единый тип шрифта.

Размер шрифта для названия презентации на титульном слайде – 40 пунктов, для подзаголовка на титульном слайде и заголовков слайдов – 24 пункта, для подзаголовков на втором и третьем слайдах и для основного текста – 20 пунктов.

Текст не должен перекрывать основные изображения и сливаться с фоном.

- 13.2** Создайте в текстовом редакторе документ и напишите в нём следующий текст, точно воспроизведя всё оформление текста, имеющееся в образце. Данный текст должен быть написан шрифтом размером 14 пунктов. Основной текст выровнен по ширине, название таблицы и заголовки столбцов – по центру, первая строка первого абзаца имеет отступ в 1 см. В тексте есть слова, выделенные полужирным шрифтом и курсивом. При этом допустимо, чтобы ширина Вашего текста отличалась от ширины текста в примере, поскольку ширина текста зависит от размера страницы и полей. В этом случае разбиение текста на строки должно соответствовать стандартной ширине абзаца. Текст сохраните в файле, имя которого Вам сообщат организаторы экзамена.

**Планеты** (от греч. *planetes* – *блуждающий*) – наиболее массивные тела Солнечной системы, движутся по эллиптическим орбитам вокруг Солнца, светятся отражённым солнечным светом.

#### Сравнение планет земной группы

Название планеты	Расстояние от Солнца (млн км)	Плотность (кг/м <sup>3</sup> )	Время полного оборота вокруг Солнца (сут.)
Меркурий	57,9	5427	88
Венера	108	5243	224,7
Земля	149,6	5515	365,3
Марс	227,9	3933	687

- 14** В электронную таблицу занесли данные о калорийности продуктов. Ниже приведены первые пять строк таблицы.

	<b>A</b>	<b>B</b>	<b>C</b>	<b>D</b>	<b>E</b>
<b>1</b>	Продукт	Жиры, г	Белки, г	Углеводы, г	Калорийность, Ккал
<b>2</b>	Арахис	45,2	26,3	9,9	552
<b>3</b>	Арахис жареный	52,0	26,0	13,4	626
<b>4</b>	Горох отварной	0,8	10,5	20,4	130
<b>5</b>	Горошек зелёный	0,2	5,0	8,3	55

В столбце А записан продукт; в столбце В – содержание в нём жиров; в столбце С – содержание белков; в столбце D – содержание углеводов; в столбце E – калорийность этого продукта.

Всего в электронную таблицу были занесены данные по 1000 продуктов.

#### Выполните задание.

Откройте файл с данной электронной таблицей (расположение файла Вам сообщат организаторы экзамена). На основании данных, содержащихся в этой таблице, ответьте на два вопроса.

1. Сколько продуктов в таблице содержат меньше 20 г углеводов и больше 20 г белков? Запишите количество этих продуктов в ячейку H2 таблицы.
2. Какова средняя калорийность продуктов с содержанием углеводов 0 г? Ответ на этот вопрос запишите в ячейку H3 таблицы с точностью не менее двух знаков после запятой.
3. Постройте круговую диаграмму, отображающую соотношение среднего количества жиров, белков и углеводов в первых 100 продуктах. Левый верхний угол диаграммы разместите вблизи ячейки G6. В поле диаграммы должны присутствовать легенда (обозначение, какой сектор диаграммы соответствует каким данным) и числовые значения данных, по которым построена диаграмма.

Полученную таблицу необходимо сохранить под именем, указанным организаторами экзамена.

**Выберите ОДНО из предложенных ниже заданий: 15.1 или 15.2.**

**15.1**

Исполнитель Робот умеет перемещаться по лабиринту, начерченному на плоскости, разбитой на клетки. Между соседними (по сторонам) клетками может стоять стена, через которую Робот пройти не может.

У Робота есть девять команд. Четыре команды – это команды-приказы:

**вверх вниз влево вправо**

При выполнении любой из этих команд Робот перемещается на одну клетку соответственно: вверх ↑, вниз ↓, влево ←, вправо →. Если Робот получит команду передвижения сквозь стену, то он разрушится.

Также у Робота есть команда **закрасить**, при которой закрашивается клетка, в которой Робот находится в настоящий момент.

Ещё четыре команды – это команды проверки условий. Эти команды проверяют, свободен ли путь для Робота в каждом из четырёх возможных направлений:

**сверху свободно снизу свободно слева свободно справа свободно**

Эти команды можно использовать вместе с условием «если», имеющим следующий вид:

**если условие то**

*последовательность команд*

**все**

Здесь *условие* – одна из команд проверки условия.

*Последовательность команд* – это одна или несколько любых команд-приказов.

Например, для передвижения на одну клетку вправо, если справа нет стенки и закрашивания клетки, можно использовать такой алгоритм:

**если справа свободно то**

**вправо**

**закрасить**

**все**

В одном условии можно использовать несколько команд проверки условий, применяя логические связки **и**, **или**, **не**, например:

**если (справа свободно) и (не снизу свободно) то**

**вправо**

**все**

Для повторения последовательности команд можно использовать цикл «пока», имеющий следующий вид:

**нц пока условие**

*последовательность команд*

**кц**

Например, для движения вправо, пока это возможно, можно использовать следующий алгоритм:

**нц пока справа свободно**

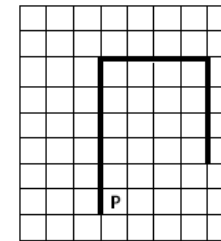
**вправо**

**кц**

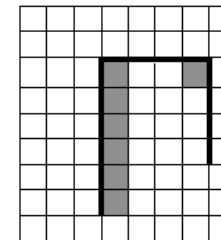
**Выполните задание.**

На бесконечном поле имеется вертикальная стена. **Длина стены неизвестна**. От верхнего конца стены вправо отходит горизонтальная стена **также неизвестной длины**. От правого конца этой стены отходит вниз вторая вертикальная стена **неизвестной длины**. Робот находится в клетке, расположенной справа от нижнего края первой вертикальной стены.

На рисунке указан один из возможных способов расположения стен и Робота (Робот обозначен буквой «Р»):



Напишите для Робота алгоритм, закрашивающий клетки, расположенные правее первой вертикальной стены, и угловую клетку, расположенную на пересечении горизонтальной и второй вертикальной стены. Робот должен закрасить только клетки, удовлетворяющие данному условию. Например, для приведённого выше рисунка Робот должен закрасить следующие клетки (см. рисунок):



Конечное положение Робота может быть произвольным. Алгоритм должен решать задачу для произвольного размера поля и любого допустимого расположения стен внутри прямоугольного поля. При исполнении алгоритма Робот не должен разрушиться.

Алгоритм может быть выполнен в среде формального исполнителя или записан в текстовом редакторе.

Сохраните алгоритм в формате программы Кумир или в текстовом файле. Название файла и каталог для сохранения Вам сообщат организаторы экзамена.

**15.2** Напишите программу, которая в последовательности натуральных чисел определяет количество однозначных чисел, кратных 3. Программа получает на вход натуральные числа, количество введённых чисел неизвестно, последовательность чисел заканчивается числом 0 (0 – признак окончания ввода, не входит в последовательность).

Количество чисел не превышает 1000. Введённые числа не превышают 30 000.

Программа должна вывести одно число: количество однозначных чисел, кратных 3.

**Пример работы программы:**

Входные данные	Выходные данные
121 9 4 0	1