

Согласовано председателем НМС ФГБНУ «ФИПИ» по КИМ для участников ГИА с инвалидностью, ограниченными возможностями здоровья (протокол НМС № 1 от 13.11.2023)  
Утверждено приказом ФГБНУ «ФИПИ» № 427 от 17.11.2023 г.

**СПЕЦИФИКАЦИЯ**  
**экзаменационных материалов для проведения в 2024 году**  
**государственного выпускного экзамена по образовательным**  
**программам среднего общего образования (письменная форма)**  
**по МАТЕМАТИКЕ**

### 1. Назначение экзаменационной работы

Государственный выпускной экзамен (ГВЭ) представляет собой форму государственной итоговой аттестации по образовательным программам среднего общего образования, проводимой в целях определения соответствия результатов освоения обучающимися образовательных программ среднего общего образования соответствующим требованиям федерального государственного образовательного стандарта. ГВЭ проводится для обучающихся в специальных учебно-воспитательных учреждениях закрытого типа, а также в учреждениях, исполняющих наказание в виде лишения свободы, для обучающихся по образовательным программам среднего профессионального образования, получающих среднее общее образование по имеющим государственную аккредитацию образовательным программам среднего общего образования, в том числе по образовательным программам среднего профессионального образования, интегрированным с образовательными программами основного общего и среднего общего образования, для обучающихся, экстернов с ограниченными возможностями здоровья, для обучающихся, экстернов – детей-инвалидов и инвалидов, осваивающих образовательные программы среднего общего образования.

ГВЭ проводится в соответствии с Федеральным законом от 29.12.2012 № 273-ФЗ «Об образовании в Российской Федерации» и Порядком проведения государственной итоговой аттестации по образовательным программам среднего общего образования, утверждённым приказом Минпросвещения России и Рособрнадзора от 04.04.2023 № 233/552.

### 2. Документы, определяющие содержание экзаменационной работы

Содержание экзаменационных материалов ГВЭ-11 определяется на основе федерального государственного образовательного стандарта среднего общего образования (далее – ФГОС):

1) приказ Министерства просвещения Российской Федерации от 12.08.2022 № 732 «О внесении изменений в федеральный государственный образовательный стандарт среднего общего образования, утверждённый приказом Министерства образования и науки Российской Федерации от 17.05.2012 № 413»;

2) приказ Министерства образования и науки Российской Федерации от 17.05.2012 № 413 (с изменениями 2014–2020 гг.).

Детализированные требования к результатам освоения основной образовательной программы среднего общего образования, проверяемые на основе изменённого в 2022 г. ФГОС, являются преемственными по отношению к требованиям ФГОС 2012 г.

При разработке экзаменационных материалов ГВЭ-11 учитывается содержание федеральной образовательной программы среднего общего образования (приказ Министерства просвещения Российской Федерации от 18.05.2023 № 371 «Об утверждении федеральной образовательной программы среднего общего образования»).

### 3. Общие подходы к отбору содержания, разработке структуры экзаменационной работы

При разработке структуры и отборе содержания экзаменационной работы реализованы системно-деятельностный, уровневый и комплексный подходы к оценке образовательных достижений обучающихся.

Личностные результаты освоения обучающимися основной образовательной программы отражают готовность и способность обучающихся руководствоваться сформированной внутренней позицией личности, системой ценностных ориентаций, позитивных внутренних убеждений, соответствующих традиционным ценностям российского общества, расширение жизненного опыта и опыта деятельности в процессе реализации основных направлений воспитательной деятельности. Содержание и результаты выполнения заданий ГВЭ связаны в том числе с достижением личностных результатов освоения основной образовательной программы в части физического, трудового, экологического воспитания, а также принятия ценности научного познания.

Включённые в экзаменационную работу задания выявляют достижение метапредметных и предметных результатов освоения основной образовательной программы среднего общего образования. При выполнении заданий, помимо предметных знаний, умений, навыков и способов познавательной деятельности, востребованы также универсальные учебные познавательные, коммуникативные и регулятивные (самоорганизация и самоконтроль) действия.

### 4. Виды экзаменационной работы ГВЭ-11

Письменный экзамен ГВЭ-11 по математике проводится в нескольких форматах в целях учёта возможностей разных категорий его участников: участников без ОВЗ и участников с ОВЗ.

**Экзаменационные материалы с 100-ми номерами вариантов** – для участников ГВЭ-11 без ОВЗ и с ОВЗ: глухих, слабослышащих, позднооглохших, кохлеарно имплантированных экзаменуемых; с нарушениями опорно-двигательного аппарата; с расстройствами аутистического спектра; иных категорий участников ГВЭ, которым требуется создание специальных условий (с диабетом, онкологическими заболеваниями, астмой и др.), обучающихся по адаптированным основным образовательным программам.

**Экзаменационные материалы с 200-ми номерами вариантов** – для слепых, слабовидящих и поздноослепших обучающихся. Для слепых обучающихся задания переводятся на рельефно-точечный шрифт Брайля. Экзаменационные материалы аналогичны материалам с 100-ми номерами вариантов, но в текстах заданий сведены к минимуму визуальные образы.

### 5. Структура и содержание экзаменационной работы

Каждый вариант экзаменационной работы содержит 14 заданий с кратким ответом базового уровня сложности. Все задания направлены на проверку освоения базовых умений и практических навыков применения математических знаний в повседневных ситуациях.

Ответом к каждому из заданий 1–14 является целое число, или конечная десятичная дробь, или последовательность цифр.

В табл. 1 приведено распределение заданий по разделам проверяемых элементов содержания.

Таблица 1. Распределение заданий по разделам проверяемых элементов содержания

Содержательные разделы	Количество заданий
Числа и вычисления	3–4
Уравнения и неравенства	3–4
Функции и графики	1–2
Начала математического анализа	1
Множества и логика	1
Вероятность и статистика	1–2
Геометрия	4

В табл. 2 приведено распределение заданий по видам умений и способам действий. Некоторые задания проверяют освоение нескольких видов умений и способов действий.

Таблица 2. Распределение заданий по видам умений и способам действий

Основные умения и способы действий	Количество заданий
Умение оценивать логическую правильность рассуждений; умение оперировать понятиями: множество, подмножество, операции над множествами; умение использовать теоретико-множественный аппарат для описания реальных процессов и явлений и при решении задач, в том числе из других учебных предметов; умение оперировать понятиями: граф, связный граф, дерево, цикл, граф на плоскости; умение задавать и описывать графы различными способами; использовать графы при решении задач	1
Умение оперировать понятиями: натуральное число, целое число, степень с целым показателем, корень натуральной степени, степень с рациональным показателем, степень с действительным показателем, логарифм числа, синус, косинус и тангенс произвольного числа; умение выполнять вычисление значений и преобразования выражений со степенями и логарифмами, преобразования дробно-рациональных выражений	5
Умение оперировать понятиями: рациональные, иррациональные, показательные, степенные, логарифмические, тригонометрические уравнения и неравенства, их системы; умение решать уравнения, неравенства и системы с помощью различных приёмов	2
Умение оперировать понятиями: функция, ограниченность функции, монотонность функции, экстремум функции, наибольшее и наименьшее значения функции на промежутке, геометрический и физический смысл производной	1
Умение оперировать понятием: график функции; умение использовать графики для изучения процессов и зависимостей, при решении задач из других учебных предметов и задач из реальной жизни	2
Умение решать текстовые задачи разных типов (в том числе на проценты, доли и части, на движение, работу, стоимость товаров и услуг, налоги, задачи из области управления личными и семейными финансами); составлять выражения, уравнения, неравенства и их системы по условию задачи, исследовать полученное решение и оценивать правдоподобность результатов; умение моделировать реальные ситуации на языке математики; составлять выражения, уравнения, неравенства и их системы по условию задачи, исследовать построенные модели с использованием аппарата алгебры, интерпретировать полученный результат	3

Основные умения и способы действий	Количество заданий
Умение извлекать, интерпретировать информацию, представленную в таблицах, на диаграммах, графиках, отражающую свойства реальных процессов и явлений	1
Умение оперировать понятиями: случайный опыт и случайное событие, вероятность случайного события; умение вычислять вероятность с использованием графических методов; применять формулы сложения и умножения вероятностей, формулу полной вероятности; оценивать вероятности реальных событий	1
Умение оперировать понятиями: точка, прямая, плоскость, пространство, отрезок, луч, величина угла, плоский угол, двугранный угол, трёхгранный угол, скрещивающиеся прямые, параллельность и перпендикулярность прямых и плоскостей, угол между прямыми, угол между прямой и плоскостью, угол между плоскостями, расстояние от точки до плоскости, расстояние между прямыми, расстояние между плоскостями; умение использовать при решении задач изученные факты и теоремы планиметрии	2
Умение оперировать понятиями: площадь фигуры, объём фигуры, многогранник, правильный многогранник, сечение многогранника, куб, параллелепипед, призма, пирамида, фигура и поверхность вращения, цилиндр, конус, шар, сфера, площадь сферы, площадь поверхности пирамиды, призмы, конуса, цилиндра, объём куба, прямоугольного параллелепипеда, пирамиды, призмы, цилиндра, конуса, шара, сечения конуса и цилиндра, параллельные оси или основанию, сечение шара	4
Умение вычислять геометрические величины (длина, угол, площадь, объём, площадь поверхности), используя изученные формулы и методы, в т. ч.: площадь поверхности пирамиды, призмы, конуса, цилиндра, площадь сферы, объём куба, прямоугольного параллелепипеда, пирамиды, призмы, цилиндра, конуса, шара	2

## 6. Распределение заданий экзаменационной работы по уровню сложности

Все задания, содержащиеся в экзаменационной работе, относятся к базовому уровню сложности.

## 7. Продолжительность экзаменационной работы

На выполнение экзаменационной работы по математике предоставляется 3 часа 55 минут (235 минут).

## 8. Дополнительные материалы и оборудование

Перечень дополнительных материалов и оборудования, использование которых разрешено при проведении ГВЭ-11, утверждается приказом Минпросвещения России и Рособрнадзора.

Необходимые справочные материалы выдаются вместе с текстом экзаменационной работы. При выполнении заданий ГВЭ-11 в письменной форме разрешается пользоваться линейкой.

## 9. Система оценивания выполнения отдельных заданий и экзаменационной работы в целом

Правильный ответ на каждое из заданий 1–14 оценивается 1 баллом. Задание считается выполненным верно, если экзаменуемый дал правильный ответ в виде целого числа, или конечной десятичной дроби, или последовательности цифр.

Максимальный первичный балл за выполнение экзаменационной работы – 14.

Результатом экзамена является отметка, которая определяется путем перевода первичных баллов, полученных участником экзамена за выполнение всех заданий экзаменационной работы, в пятибалльную систему оценки с учётом шкалы перевода, приведенной в табл. 3.

Таблица 3. Шкала перевода первичных баллов в пятибалльную отметку

Отметка по пятибалльной шкале	«2»	«3»	«4»	«5»
Диапазон первичных баллов	0–4	5–7	8–10	11–14

## 10. Изменения в экзаменационных материалах 2024 года в сравнении с 2023 годом

Изменения в структуре и содержании экзаменационных материалов ГВЭ-11 по математике отсутствуют.

## Приложение

**Обобщённый план варианта экзаменационной работы  
ГВЭ-11 (письменная форма) 2024 года  
по МАТЕМАТИКЕ  
(100-е и 200-е номера вариантов)**

№	Проверяемые результаты обучения	Коды проверяемых требований к уровню подготовки (по кодификатору)	Коды проверяемых элементов содержания (по кодификатору)	Максимальный балл за выполнение задания
1	Уметь оперировать понятиями: натуральное число, целое число, рациональное число. Уметь решать текстовые задачи разных типов (в том числе на проценты, доли и части, на движение, работу, стоимость товаров и услуг, налоги, задачи из области управления личными и семейными финансами)	2, 6	1	1
2	Уметь оперировать понятиями: натуральное число, целое число, рациональное число. Уметь решать текстовые задачи разных типов (в том числе на проценты, доли и части, на движение, работу, стоимость товаров и услуг, налоги, задачи из области управления личными и семейными финансами)	2, 6	1	1
3	Умение оперировать понятиями: рациональные, иррациональные, показательные, степенные, логарифмические, тригонометрические уравнения и неравенства, их системы. Умение решать уравнения, неравенства и системы с помощью различных приёмов	3	2	1
4	Умение оперировать понятиями: случайный опыт и случайное событие, вероятность случайного события; умение вычислять вероятность с использованием графических методов; применять формулы сложения и умножения вероятностей, формулу полной вероятности; оценивать вероятности реальных событий	8	6	1

№	Проверяемые результаты обучения	Коды проверяемых требований к уровню подготовки (по кодификатору)	Коды проверяемых элементов содержания (по кодификатору)	Максимальный балл за выполнение задания
5	Умение использовать графики для изучения процессов и зависимостей, при решении задач из других учебных предметов и задач из реальной жизни. Умение извлекать, интерпретировать информацию, представленную в таблицах, на диаграммах, графиках, отражающую свойства реальных процессов и явлений	5, 7	6	1
6	Умение выполнять вычисление значений и преобразования выражений со степенями и логарифмами, преобразования дробно-рациональных выражений. Умение оперировать понятиями: рациональные, иррациональные, показательные, степенные, логарифмические, тригонометрические уравнения и неравенства, их системы	2, 3	2	1
7	Умение использовать при решении задач изученные факты и теоремы планиметрии; умение оперировать понятием: площадь фигуры	9, 10	7	1
8	Умение использовать при решении задач изученные факты и теоремы планиметрии; умение оперировать понятием: площадь фигуры	9, 10	7	1
9	Умение оперировать понятиями: функция, ограниченность функции, монотонность функции, экстремум функции, наибольшее и наименьшее значения функции на промежутке, геометрический и физический смысл производной	4, 5	3, 4	1
10	Умение оперировать понятиями: натуральное число, целое число; умение решать текстовые задачи разных типов	2, 6	1, 2	1
11	Умение оперировать понятиями: натуральное число, целое число, степень с целым показателем, корень натуральной степени, степень с рациональным показателем, степень с действительным показателем, логарифм числа, синус, косинус и тангенс произвольного числа	2	1, 2	1

№	Проверяемые результаты обучения	Коды проверяемых требований к уровню подготовки (по кодификатору)	Коды проверяемых элементов содержания (по кодификатору)	Максимальный балл за выполнение задания
12	Умение оценивать логическую правильность рассуждений; умение оперировать понятиями: множество, подмножество, операции над множествами; умение использовать теоретико-множественный аппарат для описания реальных процессов и явлений и при решении задач, в том числе из других учебных предметов; умение оперировать понятиями: граф, связный граф, дерево, цикл, граф на плоскости; умение задавать и описывать графы различными способами; использовать графы при решении задач	1	5	1
13	Умение оперировать понятиями: площадь фигуры, объём фигуры, многогранник, правильный многогранник, сечение многогранника, куб, параллелепипед, призма, пирамида, фигура и поверхность вращения, цилиндр, конус, шар, сфера, площадь сферы, площадь поверхности пирамиды, призмы, конуса, цилиндра, объём куба, прямоугольного параллелепипеда, пирамиды, призмы, цилиндра, конуса, шара, сечения конуса и цилиндра, параллельные оси или основанию, сечение шара; умение вычислять геометрические величины (длина, угол, площадь, объём, площадь поверхности), используя изученные формулы и методы, в т. ч.: площадь поверхности пирамиды, призмы, конуса, цилиндра, площадь сферы, объём куба, прямоугольного параллелепипеда, пирамиды, призмы, цилиндра, конуса, шара	10, 11	7	1

№	Проверяемые результаты обучения	Коды проверяемых требований к уровню подготовки (по кодификатору)	Коды проверяемых элементов содержания (по кодификатору)	Максимальный балл за выполнение задания
14	Умение оперировать понятиями: площадь фигуры, объём фигуры, многогранник, правильный многогранник, сечение многогранника, куб, параллелепипед, призма, пирамида, фигура и поверхность вращения, цилиндр, конус, шар, сфера, площадь сферы, площадь поверхности пирамиды, призмы, конуса, цилиндра, объём куба, прямоугольного параллелепипеда, пирамиды, призмы, цилиндра, конуса, шара, сечения конуса и цилиндра, параллельные оси или основанию, сечение шара; умение вычислять геометрические величины (длина, угол, площадь, объём, площадь поверхности), используя изученные формулы и методы, в т. ч.: площадь поверхности пирамиды, призмы, конуса, цилиндра, площадь сферы, объём куба, прямоугольного параллелепипеда, пирамиды, призмы, цилиндра, конуса, шара	10, 11	7	1
<p>Всего заданий – <b>14</b>; из них:</p> <p>по типу заданий: с кратким ответом – <b>14</b>;</p> <p>по уровню сложности: базовый – <b>14</b>.</p> <p>Максимальный первичный балл за работу – <b>14</b>.</p> <p>Общее время выполнения работы – <b>3 часа 55 минут (235 минут)</b>.</p>				

**Пояснения к образцу экзаменационного материала  
ГВЭ-11 (письменная форма)  
по МАТЕМАТИКЕ**

При ознакомлении с образцом экзаменационного материала ГВЭ-11 (письменная форма) следует иметь в виду, что в образце представлены конкретные примеры заданий, не исчерпывающие всего многообразия возможных формулировок заданий на каждой позиции варианта экзаменационной работы.

**В образце представлено по несколько примеров заданий на некоторых позициях экзаменационной работы. В реальных вариантах экзаменационных материалов на каждой позиции будет предложено только одно задание.**

Назначение образца экзаменационного материала заключается в том, чтобы дать возможность любому участнику ГВЭ составить представление о структуре будущих вариантов экзаменационных материалов, количестве заданий, об их форме и уровне сложности.

Эти сведения позволят выпускникам выработать стратегию подготовки к ГВЭ-11 по математике в 2024 г.

**Образец экзаменационного материала  
ГВЭ-11 (письменная форма) 2024 года  
по МАТЕМАТИКЕ  
(100-е номера вариантов)**

**Инструкция по выполнению работы**

Экзаменационная работа включает в себя 14 заданий. На выполнение работы по математике отводится 3 часа 55 минут (235 минут).

Ответы к заданиям 1–14 запишите в поля ответов в работе, а затем перенесите в бланк ответов. Для этого в бланке ответов запишите номера всех заданий в столбец следующим образом:

- 1)
- 2)
- 3)
- ...
- 13)
- 14)

Ответы к заданиям 1–14 запишите в бланк ответов справа от номеров соответствующих заданий. В случае записи неверного ответа зачеркните его и запишите рядом новый.

Бланк ответов заполняется яркими чёрными чернилами. Допускается использование гелевой или капиллярной ручки.

При выполнении заданий можно пользоваться черновиком. Записи в черновике не учитываются при оценивании работы.

Баллы, полученные Вами за выполненные задания, суммируются. Постарайтесь выполнить как можно больше заданий и набрать наибольшее количество баллов.

**Желаем успеха!**

Справочные материалы

Алгебра

Таблица квадратов целых чисел от 0 до 99

Десятки	Единицы									
	0	1	2	3	4	5	6	7	8	9
0	0	1	4	9	16	25	36	49	64	81
1	100	121	144	169	196	225	256	289	324	361
2	400	441	484	529	576	625	676	729	784	841
3	900	961	1024	1089	1156	1225	1296	1369	1444	1521
4	1600	1681	1764	1849	1936	2025	2116	2209	2304	2401
5	2500	2601	2704	2809	2916	3025	3136	3249	3364	3481
6	3600	3721	3844	3969	4096	4225	4356	4489	4624	4761
7	4900	5041	5184	5329	5476	5625	5776	5929	6084	6241
8	6400	6561	6724	6889	7056	7225	7396	7569	7744	7921
9	8100	8281	8464	8649	8836	9025	9216	9409	9604	9801

Свойства арифметического квадратного корня

$$\sqrt{ab} = \sqrt{a} \cdot \sqrt{b} \text{ при } a \geq 0, b \geq 0 \quad \sqrt{\frac{a}{b}} = \frac{\sqrt{a}}{\sqrt{b}} \text{ при } a \geq 0, b > 0$$

Корни квадратного уравнения  $ax^2 + bx + c = 0, a \neq 0$

$$x_1 = \frac{-b - \sqrt{b^2 - 4ac}}{2a}, \quad x_2 = \frac{-b + \sqrt{b^2 - 4ac}}{2a} \text{ при } b^2 - 4ac > 0$$

$$x = -\frac{b}{2a} \text{ при } b^2 - 4ac = 0$$

Формулы сокращённого умножения

$$(a + b)^2 = a^2 + 2ab + b^2$$

$$(a - b)^2 = a^2 - 2ab + b^2$$

$$a^2 - b^2 = (a + b)(a - b)$$

Степень и логарифм

Свойства степени при  $a > 0, b > 0$

$$a^{-n} = \frac{1}{a^n}$$

$$a^n \cdot a^m = a^{n+m}$$

$$\frac{a^n}{a^m} = a^{n-m}$$

$$(a^n)^m = a^{nm}$$

$$(ab)^n = a^n \cdot b^n$$

$$\left(\frac{a}{b}\right)^n = \frac{a^n}{b^n}$$

Свойства логарифма

при  $a > 0, a \neq 1, b > 0, x > 0, y > 0$

$$a^{\log_a b} = b$$

$$\log_a a = 1$$

$$\log_a 1 = 0$$

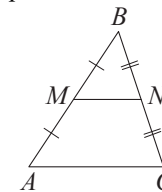
$$\log_a (xy) = \log_a x + \log_a y$$

$$\log_a \left(\frac{x}{y}\right) = \log_a x - \log_a y$$

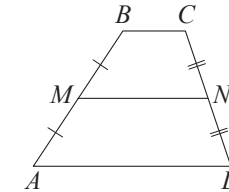
$$\log_a b^k = k \log_a b$$

Геометрия

Средняя линия треугольника и трапеции

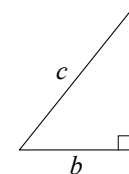


$MN$  – ср. лин.  
 $MN \parallel AC$   
 $MN = \frac{AC}{2}$



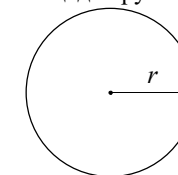
$BC \parallel AD$   
 $MN$  – ср. лин.  
 $MN \parallel AD$   
 $MN = \frac{BC + AD}{2}$

Теорема Пифагора



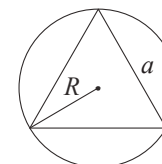
$$a^2 + b^2 = c^2$$

Длина окружности  
 Площадь круга

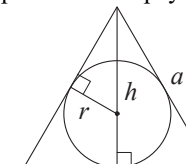


$C = 2\pi r$   
 $S = \pi r^2$

Описанная и вписанная окружности правильного треугольника



$$R = \frac{a\sqrt{3}}{3}$$

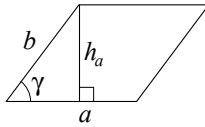


$$r = \frac{a\sqrt{3}}{6}$$

$$h = \frac{a\sqrt{3}}{2}$$

**Площади фигур**

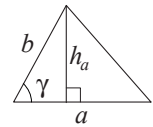
Параллелограмм



$$S = ah_a$$

$$S = ab \sin \gamma$$

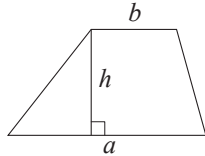
Треугольник



$$S = \frac{1}{2} ah_a$$

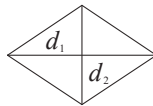
$$S = \frac{1}{2} ab \sin \gamma$$

Трапеция



$$S = \frac{a+b}{2} \cdot h$$

Ромб

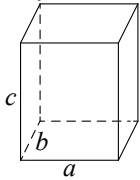


$d_1, d_2$  – диагонали

$$S = \frac{1}{2} d_1 d_2$$

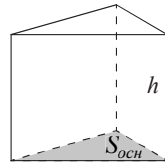
**Площади поверхностей и объёмы тел**

Прямоугольный параллелепипед



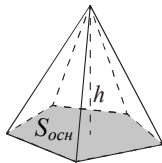
$$V = abc$$

Прямая призма



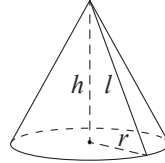
$$V = S_{осн} h$$

Пирамида



$$V = \frac{1}{3} S_{осн} h$$

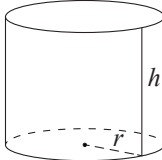
Конус



$$V = \frac{1}{3} \pi r^2 h$$

$$S_{бок} = \pi r l$$

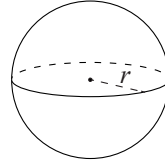
Цилиндр



$$V = \pi r^2 h$$

$$S_{бок} = 2\pi r h$$

Шар

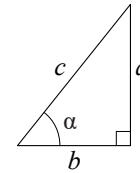


$$V = \frac{4}{3} \pi r^3$$

$$S = 4\pi r^2$$

**Тригонометрические функции**

Прямоугольный треугольник

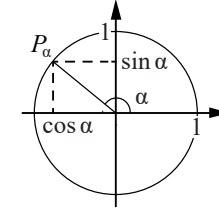


$$\sin \alpha = \frac{a}{c}$$

$$\cos \alpha = \frac{b}{c}$$

$$\operatorname{tg} \alpha = \frac{a}{b}$$

Тригонометрическая окружность



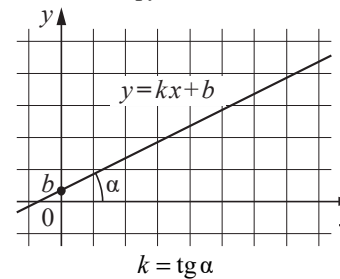
Основное тригонометрическое тождество:  $\sin^2 \alpha + \cos^2 \alpha = 1$

Некоторые значения тригонометрических функций

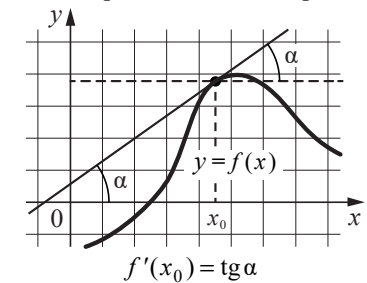
$\alpha$	радианы	0	$\frac{\pi}{6}$	$\frac{\pi}{4}$	$\frac{\pi}{3}$	$\frac{\pi}{2}$	$\pi$	$\frac{3\pi}{2}$	$2\pi$
	градусы	$0^\circ$	$30^\circ$	$45^\circ$	$60^\circ$	$90^\circ$	$180^\circ$	$270^\circ$	$360^\circ$
$\sin \alpha$		0	$\frac{1}{2}$	$\frac{\sqrt{2}}{2}$	$\frac{\sqrt{3}}{2}$	1	0	-1	0
$\cos \alpha$		1	$\frac{\sqrt{3}}{2}$	$\frac{\sqrt{2}}{2}$	$\frac{1}{2}$	0	-1	0	1
$\operatorname{tg} \alpha$		0	$\frac{\sqrt{3}}{3}$	1	$\sqrt{3}$	—	0	—	0

**Функции**

Линейная функция



Геометрический смысл производной





*Ответами к заданиям 1–14 являются целое число, конечная десятичная дробь или последовательность цифр. Запишите ответ в поле ответа в тексте работы, затем перенесите в БЛАНК ОТВЕТОВ справа от номера соответствующего задания. Единицы измерений писать не нужно.*

- 1 Показания счётчика электроэнергии 1 марта составляли 48 001 кВт·ч, а 1 апреля – 48 146 кВт·ч. Сколько нужно заплатить за электроэнергию за март, если 1 кВт·ч электроэнергии стоит 5 рублей 60 копеек? Ответ дайте в рублях.

Ответ: \_\_\_\_\_.

**ИЛИ**

Килограмм моркови стоит 90 рублей. Олег купил 600 г моркови. Сколько рублей сдачи он должен получить со 100 рублей?

Ответ: \_\_\_\_\_.

**ИЛИ**

Для ремонта требуется 63 рулона обоев. Какое наименьшее количество пачек обойного клея нужно для такого ремонта, если 1 пачка клея рассчитана на 6 рулонов?

Ответ: \_\_\_\_\_.

- 2 Товар на распродаже уценили на 35%, при этом он стал стоить 1300 рублей. Сколько рублей стоил товар до распродажи?

Ответ: \_\_\_\_\_.

**ИЛИ**

ЕГЭ по физике сдавали 25 выпускников школы, что составляет треть от общего числа выпускников. Сколько выпускников этой школы не сдавали экзамен по физике?

Ответ: \_\_\_\_\_.

**ИЛИ**

Площадь земель фермерского хозяйства, отведённых под посадку сельскохозяйственных культур, составляет 24 гектара и распределена между зерновыми и овощными культурами в отношении 5 : 3 соответственно. Сколько гектаров занимают овощные культуры?

Ответ: \_\_\_\_\_.

- 3 Найдите корень уравнения  $3^{x-3} = 81$ .

Ответ: \_\_\_\_\_.

**ИЛИ**

Найдите корень уравнения  $\log_2(x-3) = 6$ .

Ответ: \_\_\_\_\_.

**ИЛИ**

Решите уравнение  $x^2 - x - 6 = 0$ .

Если уравнение имеет более одного корня, в ответе укажите меньший из них.

Ответ: \_\_\_\_\_.

- 4 Перед началом первого тура чемпионата по настольному теннису участников разбивают на игровые пары случайным образом с помощью жребия. Всего в чемпионате участвует 26 спортсменов, среди них – 4 спортсмена из России, в том числе спортсмен Т. Найдите вероятность того, что в первом туре Т. будет играть с каким-либо спортсменом из России.

Ответ: \_\_\_\_\_.

**ИЛИ**

В чемпионате по прыжкам в воду участвуют 35 спортсменов: 7 из России, 12 из Китая, 9 из Японии и 7 из США. Порядок, в котором выступают спортсмены, определяется жребием. Найдите вероятность того, что первым будет выступать спортсмен из России.

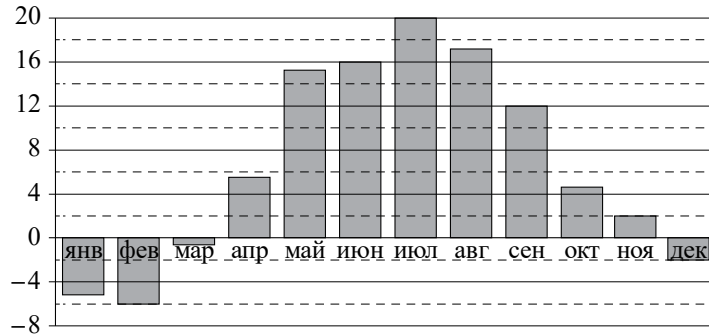
Ответ: \_\_\_\_\_.

**ИЛИ**

Из каждых 100 лампочек, поступающих в продажу, в среднем 3 неисправны. Какова вероятность того, что случайно выбранная в магазине лампочка окажется исправной?

Ответ: \_\_\_\_\_.

5 На диаграмме показана среднемесячная температура воздуха в Минске за каждый месяц 2003 г. По горизонтали указываются месяцы, по вертикали – температура в градусах Цельсия.



Определите по диаграмме наибольшую среднемесячную температуру в период с сентября по декабрь 2003 г. Ответ дайте в градусах Цельсия.

Ответ: \_\_\_\_\_.

**ИЛИ**

В таблице представлены данные о стоимости некоторой модели смартфона в различных магазинах.

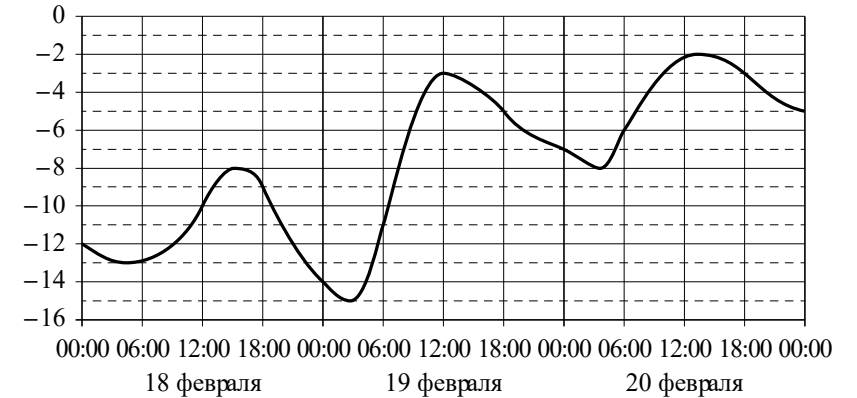
Магазин	Стоимость смартфона (руб.)
«ОК-Техника»	6733
«Скоростной»	7600
«Магия связи»	6559
«Про-фон»	7346
«Смартфон и Ко»	6599
«Прогресс-Э»	7548
«999 телефонов»	6959
«Макропоиск»	7049
«Вселенная телефонов»	6850

Найдите наименьшую стоимость смартфона среди представленных предложений. Ответ дайте в рублях.

Ответ: \_\_\_\_\_.

**ИЛИ**

На графике показано изменение температуры воздуха на протяжении трёх суток. На горизонтальной оси отмечены число, месяц, время суток в часах; на вертикальной оси – значение температуры в градусах Цельсия.



Определите по графику наибольшую температуру воздуха 19 февраля. Ответ дайте в градусах Цельсия.

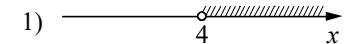
Ответ: \_\_\_\_\_.

6 Каждому из четырёх неравенств в левом столбце соответствует одно из решений в правом столбце. Установите соответствие между неравенствами и их решениями.

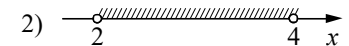
НЕРАВЕНСТВА

РЕШЕНИЯ

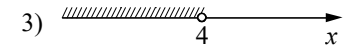
А)  $2^{-x+1} < \frac{1}{2}$




Б)  $\frac{(x-5)^2}{x-4} < 0$



В)  $\log_4 x > 1$



Г)  $(x-4)(x-2) < 0$



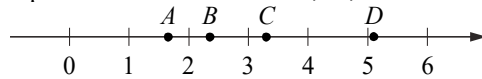
В таблице под каждой буквой укажите соответствующий номер.

Ответ:

А	Б	В	Г

**ИЛИ**

На координатной прямой отмечены точки  $A, B, C$  и  $D$ .



Каждой точке соответствует одно из чисел в правом столбце. Установите соответствие между указанными точками и числами.

ТОЧКИ	ЧИСЛА
$A$	1) $\log_2 10$
$B$	2) $\frac{7}{3}$
$C$	3) $\sqrt{26}$
$D$	4) $\left(\frac{3}{5}\right)^{-1}$

В таблице под каждой буквой укажите соответствующий номер.

Ответ:

$A$	$B$	$C$	$D$

**ИЛИ**

Каждому из четырёх неравенств в левом столбце соответствует одно из решений в правом столбце. Установите соответствие между неравенствами и их решениями.

НЕРАВЕНСТВА	РЕШЕНИЯ
А) $2^x \geq 4$	1)
Б) $0,5^x \geq 4$	2)
В) $0,5^x \leq 4$	3)
Г) $2^x \leq 4$	4)

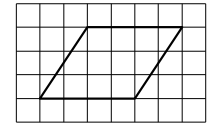
В таблице под каждой буквой укажите соответствующий номер.

Ответ:

$A$	$B$	$B$	$\Gamma$

7

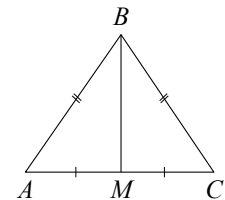
На клетчатой бумаге с размером клетки  $1 \times 1$  изображён параллелограмм. Найдите его площадь.



Ответ: \_\_\_\_\_.

**ИЛИ**

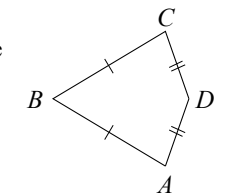
Известно, что в треугольнике  $ABC$   $AB = BC = 13$ ,  $AC = 10$ . Найдите длину медианы  $BM$ .



Ответ: \_\_\_\_\_.

**ИЛИ**

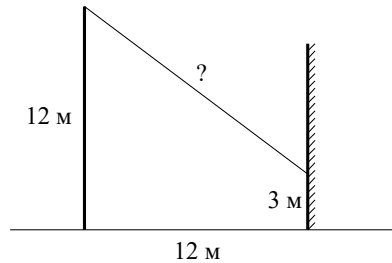
Известно, что в выпуклом четырёхугольнике  $ABCD$   $AB = BC$ ,  $AD = CD$ ,  $\angle B = 56^\circ$ ,  $\angle D = 176^\circ$ . Найдите угол  $A$ . Ответ дайте в градусах.



Ответ: \_\_\_\_\_.

8

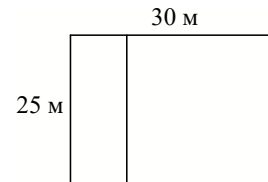
От столба высотой 12 м к дому натянут провод, который крепится на высоте 3 м от земли (см. рисунок). Расстояние от дома до столба равно 12 м. Найдите длину провода. Ответ дайте в метрах.



Ответ: \_\_\_\_\_.

**ИЛИ**


Дачный участок имеет форму прямоугольника со сторонами 25 м и 30 м. Хозяин планирует обнести его забором и разделить таким же забором на две части, одна из которых имеет форму квадрата. Найдите суммарную длину забора в метрах.



Ответ: \_\_\_\_\_.

**ИЛИ**

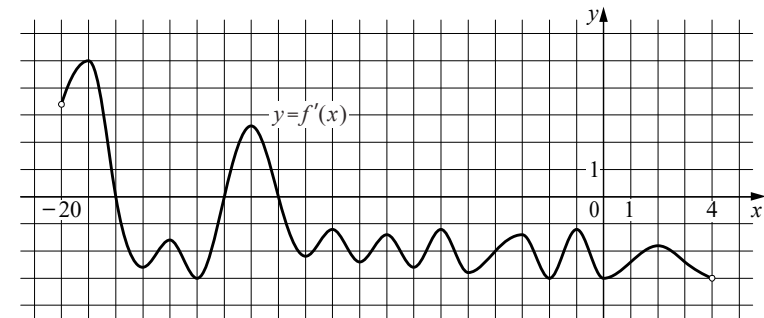
Какой угол (в градусах) образуют минутная и часовая стрелки в 16:00?



Ответ: \_\_\_\_\_.

9

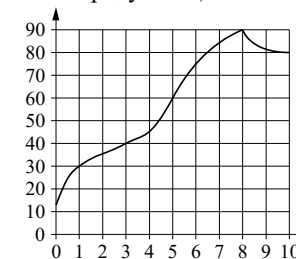
На рисунке изображён график  $y = f'(x)$  – производной функции  $f(x)$ , определённой на интервале  $(-20; 4)$ . Найдите количество точек экстремума функции  $f(x)$ , принадлежащих отрезку  $[-17; 0]$ .



Ответ: \_\_\_\_\_.

**ИЛИ**

На графике изображена зависимость температуры от времени в процессе разогрева двигателя легкового автомобиля. На горизонтальной оси отмечено время в минутах, прошедшее с момента запуска двигателя; на вертикальной оси – температура двигателя в градусах Цельсия.



Пользуясь графиком, поставьте в соответствие каждому интервалу времени характеристику процесса разогрева двигателя на этом интервале.

**ИНТЕРВАЛЫ ВРЕМЕНИ**

**ХАРАКТЕРИСТИКИ**

- |              |  |
|--------------|--|
| А) 0–1 мин.  | 1) Самый медленный рост температуры                    |
| Б) 1–3 мин.  | 2) Температура падала                                  |
| В) 3–6 мин.  | 3) Температура находилась в пределах от 40 °С до 80 °С |
| Г) 8–10 мин. | 4) Температура не превышала 30 °С                      |

В таблице под каждой буквой укажите соответствующий номер.

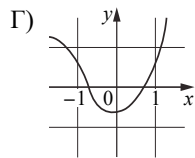
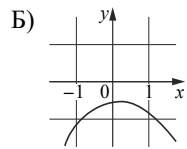
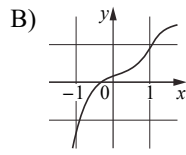
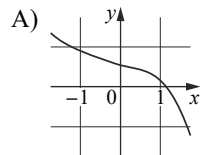
Ответ:

А	Б	В	Г

**ИЛИ**

Установите соответствие между графиками функций и характеристиками этих функций на отрезке  $[-1; 1]$ .

**ГРАФИКИ**



**ХАРАКТЕРИСТИКИ**

- 1) Функция имеет точку максимума на отрезке  $[-1; 1]$ .
- 2) Функция имеет точку минимума на отрезке  $[-1; 1]$ .
- 3) Функция возрастает на отрезке  $[-1; 1]$ .
- 4) Функция убывает на отрезке  $[-1; 1]$ .

В таблице под каждой буквой укажите соответствующий номер.

Ответ:

А	Б	В	Г

- 10** Найдите трёхзначное число, сумма цифр которого равна 20, а сумма квадратов цифр делится на 3, но не делится на 9. В ответе укажите какое-нибудь одно такое число.

Ответ: \_\_\_\_\_.

**ИЛИ**

На шести карточках написаны цифры 2, 3, 5, 6, 7, 7 (по одной цифре на каждой карточке). В выражении

□ + □□ + □□□

вместо каждого квадратика положили карточку из данного набора. Оказалось, что полученная сумма делится на 10, но не делится на 20. В ответе укажите какую-нибудь одну такую сумму.

Ответ: \_\_\_\_\_.

**ИЛИ**

Вычеркните в числе 75157613 три цифры так, чтобы получившееся число делилось на 12. В ответе укажите какое-нибудь одно получившееся число.

Ответ: \_\_\_\_\_.

- 11** Найдите  $\cos \alpha$ , если  $\sin \alpha = 0,8$  и  $90^\circ < \alpha < 180^\circ$ .

Ответ: \_\_\_\_\_.

**ИЛИ**

Найдите значение выражения  $(2\sqrt{13} - 1)(2\sqrt{13} + 1)$ .

Ответ: \_\_\_\_\_.

**ИЛИ**

Найдите значение выражения  $\log_3 1,8 + \log_3 5$ .

Ответ: \_\_\_\_\_.

**12** В классе учится 20 человек, из них 13 человек посещают кружок по истории, а 10 – кружок по математике. Выберите утверждения, которые верны при указанных условиях.

- 1) Каждый ученик этого класса посещает оба кружка.
- 2) Найдётся хотя бы двое из этого класса, кто посещает оба кружка.
- 3) Если ученик из этого класса ходит на кружок по истории, то он обязательно ходит на кружок по математике.
- 4) Не найдётся 11 человек из этого класса, которые посещают оба кружка.

В ответе запишите номера выбранных утверждений без пробелов, запятых и других дополнительных символов.

Ответ: \_\_\_\_\_.

**ИЛИ**

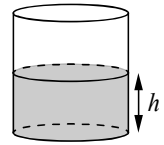
Во дворе школы растут всего три дерева: ясень, рябина и осина. Ясень выше рябины на 1 метр, но ниже осины на 2 метра. Выберите все утверждения, которые верны при указанных условиях.

- 1) Среди указанных деревьев не найдётся двух одной высоты.
- 2) Ясень, растущий во дворе школы, выше осины, растущей там же.
- 3) Любое дерево помимо указанных, которое ниже ясеня, растущего во дворе школы, также ниже рябины, растущей там же.
- 4) Любое дерево помимо указанных, которое ниже рябины, растущей во дворе школы, также ниже ясеня, растущего там же.

В ответе запишите номера выбранных утверждений без пробелов, запятых и других дополнительных символов.

Ответ: \_\_\_\_\_.

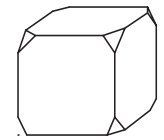
**13** Вода в сосуде цилиндрической формы находится на уровне  $h = 80$  см. На каком уровне окажется вода, если её перелить в другой цилиндрический сосуд, у которого радиус основания в 4 раза больше, чем у данного? Ответ дайте в сантиметрах.



Ответ: \_\_\_\_\_.

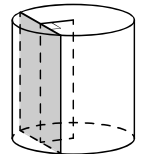
**ИЛИ**

От деревянного кубика отпилили все его вершины (см. рисунок). Сколько граней у получившегося многогранника (невидимые рёбра на рисунке не изображены)?



Ответ: \_\_\_\_\_.

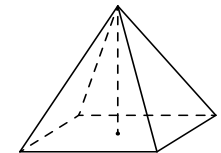
**14** Радиус основания цилиндра равен 13, а его образующая равна 18. Сечение, параллельное оси цилиндра, удалено от неё на расстояние, равное 12. Найдите площадь этого сечения.



Ответ: \_\_\_\_\_.

**ИЛИ**

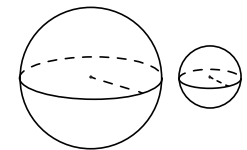
Найдите объём правильной четырёхугольной пирамиды, сторона основания которой равна 4, а боковое ребро равно  $\sqrt{17}$ .



Ответ: \_\_\_\_\_.

**ИЛИ**

Даны два шара радиусами 9 и 3. Во сколько раз площадь поверхности большего шара больше площади поверхности меньшего?



Ответ: \_\_\_\_\_.

**Не забудьте перенести все ответы в БЛАНК ОТВЕТОВ в соответствии с инструкцией по выполнению работы.**

**Система оценивания экзаменационной работы по математике  
(100-е номера вариантов)**

Каждое из заданий 1–14 считается выполненным верно, если экзаменуемый дал верный ответ в виде целого числа, конечной десятичной дроби или последовательности цифр. Правильный ответ на каждое из заданий 1–14 оценивается 1 баллом.

При записи ответов на задание 12 цифры могут быть записаны в любом порядке.

Номер задания	Правильный ответ		
	Пример 1	Пример 2	Пример 3
1	812	46	11
2	2000	50	9
3	7	67	–2
4	0,12	0,2	0,97
5	12	6559	–3
6	4321	4213	1324
7	12	12	64
8	15	135	120
9	2	4132	4132
10	578 <или> 587 <или> 758 <или> 785 <или> 857 <или> 875	390 <или> 570 <или> 750	51576 <или> 75156 <или> 75576
11	–0,6	51	2
12	24	14	
13	5	14	
14	180	16	9

**Образец экзаменационного материала**

**ГВЭ-11 (письменная форма) 2024 года  
по МАТЕМАТИКЕ  
(200-е номера вариантов)**

**Инструкция по выполнению работы**

Экзаменационная работа включает в себя 14 заданий. На выполнение работы по математике отводится 3 часа 55 минут (235 минут).

Ответы к заданиям 1–14 запишите в поля ответов в работе, а затем перенесите в бланк ответов. Для этого в бланке ответов запишите номера всех заданий в столбец следующим образом:

- 1)
- 2)
- 3)
- ...
- 13)
- 14)

Ответы к заданиям 1–14 запишите в бланк ответов справа от номеров соответствующих заданий. В случае записи неверного ответа зачеркните его и запишите рядом новый.

Бланк ответов заполняется яркими чёрными чернилами. Допускается использование гелевой или капиллярной ручки.

При выполнении заданий можно пользоваться черновиком. Записи в черновике не учитываются при оценивании работы.

Баллы, полученные Вами за выполненные задания, суммируются. Постарайтесь выполнить как можно больше заданий и набрать наибольшее количество баллов.

**Желаем успеха!**

Справочные материалы

Алгебра

Таблица квадратов целых чисел от 0 до 99

Десятки	Единицы									
	0	1	2	3	4	5	6	7	8	9
0	0	1	4	9	16	25	36	49	64	81
1	100	121	144	169	196	225	256	289	324	361
2	400	441	484	529	576	625	676	729	784	841
3	900	961	1024	1089	1156	1225	1296	1369	1444	1521
4	1600	1681	1764	1849	1936	2025	2116	2209	2304	2401
5	2500	2601	2704	2809	2916	3025	3136	3249	3364	3481
6	3600	3721	3844	3969	4096	4225	4356	4489	4624	4761
7	4900	5041	5184	5329	5476	5625	5776	5929	6084	6241
8	6400	6561	6724	6889	7056	7225	7396	7569	7744	7921
9	8100	8281	8464	8649	8836	9025	9216	9409	9604	9801

Свойства арифметического квадратного корня

$$\sqrt{ab} = \sqrt{a} \cdot \sqrt{b} \text{ при } a \geq 0, b \geq 0 \quad \sqrt{\frac{a}{b}} = \frac{\sqrt{a}}{\sqrt{b}} \text{ при } a \geq 0, b > 0$$

Корни квадратного уравнения  $ax^2 + bx + c = 0, a \neq 0$

$$x_1 = \frac{-b - \sqrt{b^2 - 4ac}}{2a}, \quad x_2 = \frac{-b + \sqrt{b^2 - 4ac}}{2a} \text{ при } b^2 - 4ac > 0$$

$$x = -\frac{b}{2a} \text{ при } b^2 - 4ac = 0$$

Формулы сокращённого умножения

$$(a + b)^2 = a^2 + 2ab + b^2$$

$$(a - b)^2 = a^2 - 2ab + b^2$$

$$a^2 - b^2 = (a + b)(a - b)$$

Степень и логарифм

Свойства степени при  $a > 0, b > 0$

$$a^{-n} = \frac{1}{a^n}$$

$$a^n \cdot a^m = a^{n+m}$$

$$\frac{a^n}{a^m} = a^{n-m}$$

$$(a^n)^m = a^{nm}$$

$$(ab)^n = a^n \cdot b^n$$

$$\left(\frac{a}{b}\right)^n = \frac{a^n}{b^n}$$

Свойства логарифма при  $a > 0, a \neq 1, b > 0, x > 0, y > 0$

$$a^{\log_a b} = b$$

$$\log_a a = 1$$

$$\log_a 1 = 0$$

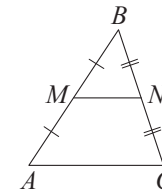
$$\log_a (xy) = \log_a x + \log_a y$$

$$\log_a \left(\frac{x}{y}\right) = \log_a x - \log_a y$$

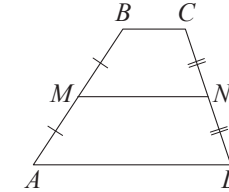
$$\log_a b^k = k \log_a b$$

Геометрия

Средняя линия треугольника и трапеции

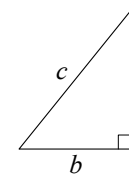


$MN$  – ср. лин.  
 $MN \parallel AC$   
 $MN = \frac{AC}{2}$



$BC \parallel AD$   
 $MN$  – ср. лин.  
 $MN \parallel AD$   
 $MN = \frac{BC + AD}{2}$

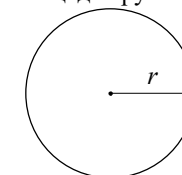
Теорема Пифагора



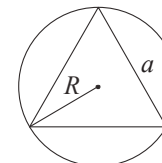
$$a^2 + b^2 = c^2$$

Длина окружности  
 Площадь круга

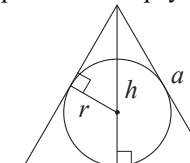
$C = 2\pi r$   
 $S = \pi r^2$



Описанная и вписанная окружности правильного треугольника



$$R = \frac{a\sqrt{3}}{3}$$



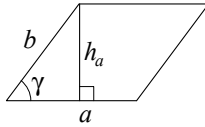
$$r = \frac{a\sqrt{3}}{6}$$

$$h = \frac{a\sqrt{3}}{2}$$



**Площади фигур**

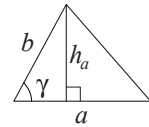
Параллелограмм



$$S = ah_a$$

$$S = ab \sin \gamma$$

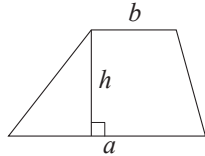
Треугольник



$$S = \frac{1}{2} ah_a$$

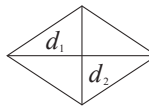
$$S = \frac{1}{2} ab \sin \gamma$$

Трапеция



$$S = \frac{a+b}{2} \cdot h$$

Ромб

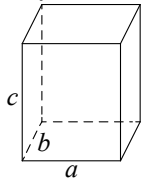


$d_1, d_2$  – диагонали

$$S = \frac{1}{2} d_1 d_2$$

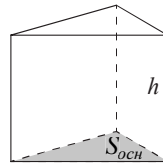
**Площади поверхностей и объёмы тел**

Прямоугольный параллелепипед



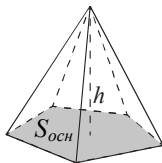
$$V = abc$$

Прямая призма



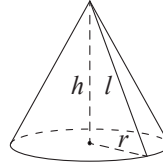
$$V = S_{осн} h$$

Пирамида



$$V = \frac{1}{3} S_{осн} h$$

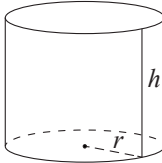
Конус



$$V = \frac{1}{3} \pi r^2 h$$

$$S_{бок} = \pi r l$$

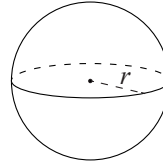
Цилиндр



$$V = \pi r^2 h$$

$$S_{бок} = 2\pi r h$$

Шар

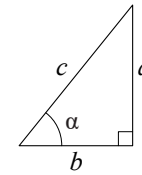


$$V = \frac{4}{3} \pi r^3$$

$$S = 4\pi r^2$$

**Тригонометрические функции**

Прямоугольный треугольник

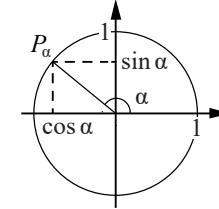


$$\sin \alpha = \frac{a}{c}$$

$$\cos \alpha = \frac{b}{c}$$

$$\operatorname{tg} \alpha = \frac{a}{b}$$

Тригонометрическая окружность



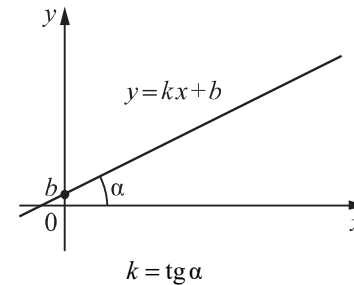
Основное тригонометрическое тождество:  $\sin^2 \alpha + \cos^2 \alpha = 1$

Некоторые значения тригонометрических функций

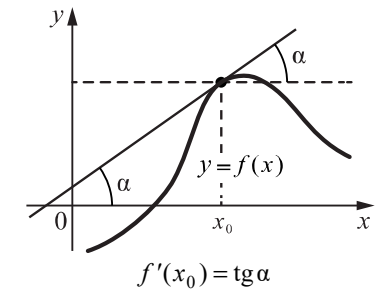
$\alpha$	радианы	0	$\frac{\pi}{6}$	$\frac{\pi}{4}$	$\frac{\pi}{3}$	$\frac{\pi}{2}$	$\pi$	$\frac{3\pi}{2}$	$2\pi$
	градусы	$0^\circ$	$30^\circ$	$45^\circ$	$60^\circ$	$90^\circ$	$180^\circ$	$270^\circ$	$360^\circ$
$\sin \alpha$		0	$\frac{1}{2}$	$\frac{\sqrt{2}}{2}$	$\frac{\sqrt{3}}{2}$	1	0	-1	0
$\cos \alpha$		1	$\frac{\sqrt{3}}{2}$	$\frac{\sqrt{2}}{2}$	$\frac{1}{2}$	0	-1	0	1
$\operatorname{tg} \alpha$		0	$\frac{\sqrt{3}}{3}$	1	$\sqrt{3}$	—	0	—	0

**Функции**

Линейная функция



Геометрический смысл производной



**Ответами к заданиям 1–14 являются целое число, конечная десятичная дробь или последовательность цифр.**

- 1 Шоколадка стоит 20 рублей. В воскресенье в супермаркете действует специальное предложение: заплатив за две шоколадки, покупатель получает три (одну в подарок). Какое наибольшее количество шоколадок можно получить, потратив не более 210 рублей в воскресенье?

Ответ: \_\_\_\_\_.

**ИЛИ**

Килограмм моркови стоит 90 рублей. Олег купил 600 г моркови. Сколько рублей сдачи он должен получить со 100 рублей?

Ответ: \_\_\_\_\_.

- 2 Налог на доходы физических лиц в России составляет 13% заработной платы. Заработная плата Ивана Кузьмича равна 20 000 рублей. Какую сумму он получит после уплаты этого налога?

Ответ: \_\_\_\_\_.

**ИЛИ**

ЕГЭ по физике сдавали 25 выпускников школы, что составляет треть от общего числа выпускников. Сколько выпускников этой школы **не сдавали** экзамен по физике?

Ответ: \_\_\_\_\_.

- 3 Найдите корень уравнения  $\log_5(4x + 7) = 2$ .

Ответ: \_\_\_\_\_.

**ИЛИ**

Решите уравнение  $x^2 - x - 6 = 0$ .

Если уравнение имеет более одного корня, в ответе укажите меньший из них.

Ответ: \_\_\_\_\_.

- 4 На чемпионате по прыжкам в воду выступают 25 спортсменов, среди них 8 прыгунов из России и 9 прыгунов из Китая. Порядок выступлений определяется жеребьёвкой. Найдите вероятность того, что шестым будет выступать прыгун из Китая.

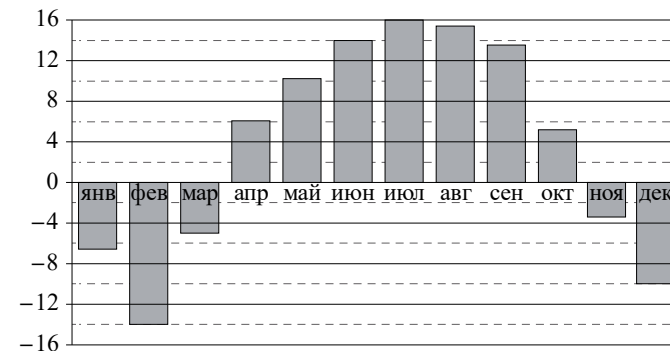
Ответ: \_\_\_\_\_.

**ИЛИ**

Из каждых 100 лампочек, поступающих в продажу, в среднем 3 неисправны. Какова вероятность того, что случайно выбранная в магазине лампочка окажется исправной?

Ответ: \_\_\_\_\_.

- 5 На диаграмме показана среднемесячная температура воздуха в Нижнем Новгороде за каждый месяц 1994 г. По горизонтали указываются месяцы, по вертикали – температура в градусах Цельсия. Определите по приведённой диаграмме, сколько было месяцев с положительной среднемесячной температурой.



Ответ: \_\_\_\_\_.

**ИЛИ**

В таблице представлены данные о стоимости некоторой модели смартфона в различных магазинах.

Магазин	Стоимость смартфона (руб.)
«ОК-Техника»	6733
«Скоростной»	7600
«Магия связи»	6559

Найдите наименьшую стоимость смартфона среди представленных предложений. Ответ дайте в рублях.

Ответ: \_\_\_\_\_.

- 6 Каждому из четырёх чисел в левом столбце соответствует отрезок, которому оно принадлежит. Установите соответствие между числами и отрезками из правого столбца.

ЧИСЛА	ОТРЕЗКИ
А) $\log_5 20$	1) $[0; 1]$
Б) $\frac{29}{13}$	2) $[1; 2]$
В) $\sqrt{10}$	3) $[2; 3]$
Г) $2,3^{-3}$	4) $[3; 4]$

В таблице под каждой буквой укажите соответствующий номер.

Ответ:	А	Б	В	Г

**ИЛИ**

Каждому из четырёх неравенств в левом столбце соответствует одно из решений в правом столбце. Установите соответствие между неравенствами и их решениями.

НЕРАВЕНСТВА	РЕШЕНИЯ
А) $2^{-x+1} < \frac{1}{2}$	1) $(4; +\infty)$
Б) $\frac{(x-5)^2}{x-4} < 0$	2) $(2; 4)$
В) $\log_4 x > 1$	3) $(-\infty; 4)$
Г) $(x-4)(x-2) < 0$	4) $(2; +\infty)$

В таблице под каждой буквой укажите соответствующий номер.

Ответ:	А	Б	В	Г

- 7 Стороны параллелограмма равны 12 и 15. Высота, опущенная на первую из этих сторон, равна 10. Найдите высоту, опущенную на вторую сторону параллелограмма.

Ответ: \_\_\_\_\_.

**ИЛИ**

Диагонали ромба равны 8 и 6. Найдите площадь параллелограмма.

Ответ: \_\_\_\_\_.

- 8 Участок земли для строительства санатория имеет форму прямоугольника, стороны которого равны 900 м и 400 м. Одна из больших сторон участка идёт вдоль моря, а три остальные стороны нужно отгородить забором. Найдите длину этого забора. Ответ дайте в метрах.

Ответ: \_\_\_\_\_.

**ИЛИ**

Дачный участок имеет форму прямоугольника со сторонами 25 м и 30 м. Хозяин планирует обнести его забором и разделить таким же забором на две части, одна из которых имеет форму квадрата. Найдите площадь квадратного участка. Ответ дайте в квадратных метрах.

Ответ: \_\_\_\_\_.

- 9 Прямая  $y = 5x + 8$  параллельна касательной к графику функции  $y = x^2 - 9x - 37$ . Найдите абсциссу точки касания.

Ответ: \_\_\_\_\_.

**ИЛИ**

Найдите точку минимума функции  $y = x^3 - 12x^2 + 36x - 20$ .

Ответ: \_\_\_\_\_.

- 10 Найдите трёхзначное число, сумма цифр которого равна 20, а сумма квадратов цифр делится на 3, но не делится на 9. В ответе укажите какое-нибудь одно такое число.

Ответ: \_\_\_\_\_.

**ИЛИ**

Вычеркните в числе 75157613 три цифры так, чтобы получившееся число делилось на 12. В ответе укажите какое-нибудь одно получившееся число.

Ответ: \_\_\_\_\_.

- 11 Найдите значение выражения  $(2\sqrt{13} - 1)(2\sqrt{13} + 1)$ .

Ответ: \_\_\_\_\_.

**ИЛИ**

Найдите значение выражения  $\log_3 1,8 + \log_3 5$ .

Ответ: \_\_\_\_\_.

- 12 В классе учится 20 человек, из них 13 человек посещают кружок по истории, а 10 – кружок по математике. Выберите утверждения, которые верны при указанных условиях.

- 1) Каждый ученик этого класса посещает оба кружка.
- 2) Найдётся хотя бы двое из этого класса, кто посещает оба кружка.
- 3) Если ученик из этого класса ходит на кружок по истории, то он обязательно ходит на кружок по математике.
- 4) Не найдётся 11 человек из этого класса, которые посещают оба кружка.

В ответе запишите номера выбранных утверждений без пробелов, запятых и других дополнительных символов.

Ответ: \_\_\_\_\_.

- 13 Вода в сосуде цилиндрической формы находится на уровне 80 см. На каком уровне окажется вода, если её перелить в другой цилиндрический сосуд, у которого радиус основания в 4 раза больше, чем у данного? Ответ дайте в сантиметрах.

Ответ: \_\_\_\_\_.

- 14 Даны два шара радиусами 9 и 3. Во сколько раз площадь поверхности большего шара больше площади поверхности меньшего?

Ответ: \_\_\_\_\_.

**Не забудьте перенести все ответы в БЛАНК ОТВЕТОВ в соответствии с инструкцией по выполнению работы.**

**Система оценивания экзаменационной работы по математике  
(200-е номера вариантов)**

Каждое из заданий 1–14 считается выполненным верно, если экзаменуемый дал верный ответ в виде целого числа, конечной десятичной дроби или последовательности цифр. Ответ на каждое верно выполненное задание оценивается 1 баллом.

При записи ответов на задание 12 цифры могут быть записаны в любом порядке.

Номер задания	Правильный ответ	
	Пример 1	Пример 2
1	15	46
2	17 400	50
3	4,5	–2
4	0,36	0,97
5	7	6559
6	2341	4321
7	8	24
8	1700	325
9	7	6
10	578 <или> 587 <или> 758 <или> 785 <или> 857 <или> 875	51576 <или> 75156 <или> 75576
11	51	2
12	24	
13	5	
14	2	